

اختبارات سلاح التلميذ العامة

على الفصل الدراسي الثاني



مجاب عنها

٣٠

الاختبار الأول

١ اكمل العبارات الآتية مستخدفا بنك الكلمات:

(اليونسكو - الدولة الحديثة - الرومان - الهكسوس)

- ١ - تُعد حتشبسوت من أشهر ملكات مصر في عهد
- ٢ - تم تخصيص يوم عالمي للتوعية بحماية التراث الوطني برعاية منظمة
- ٣ - عرف المصري القديم العربات الحربية بعد تعرض مصر لغزو

٢ اكتب كلمة (صواب) أمام العبارة الصحيحة، وكلمة (خطأ) أمام العبارة غير الصحيحة:

- ١ - يُعد معبد أبو سمبل الكبير من مناطق التراث العالمي. ()
- ٢ - يفضل استخدام ضوء الكاميرا (ال فلاش) عند التصوير في المناطق الأثرية. ()
- ٣ - تشير الصورة المقابلة إلى المطعم، وهي من علامات المرور الإلزامية. ()
- ٤ - يمثل مجلسا النواب والشيوخ السلطة التشريعية في مصر. ()



٣ اختر الإجابة الصحيحة مما بين القوسين:

- ١ - يريد صديقك الاستمتاع بالأغاني المرتبطة بألة السمسمية لذا عليه التوجه لمدينة
(أسيوط - بني سويف - الجيزة - بورسعيد)
- ٢ - تقل نسبة الأمية في محافظة
(البحر الأحمر - المنيا - بني سويف - الفيوم)
- ٣ - زيارتك لمكتبة الإسكندرية تُعد سياحة
(علاجية - ثقافية - ترفيهية - مهرجانات)

٤ أمامك خريطة صماء لمصر، لاحظها ثم أجب:



- ١ - يوجد في المحافظة رقم (١) برج إيفيل.
(صوب ما تحته خط)

- ٢ - ميناء
- ٣ - مدينة

٥ أجب عما يأتي:

- ١ - قارن بين سلبيات وإيجابيات شبكة الإنترنت.
- ٢ - ما رأيك في الموقف التالي:

شخص يريد إنجاب الكثير من الأطفال بحجة أنهم سند في الحياة؟



١ أكمل العبارات الآتية مستخدماً بنك الكلمات:

(شمال سيناء - جنوب سيناء - البردي - الإسكندرية - الجيزة)

- ١ - كتب المصري القديم الرسائل على ورق
- ٢ - تم بناء الهرم الأكبر في محافظة
- ٣ - تم مد أول خط سكة حديد في مصر بين القاهرة و
- ٤ - تنصح صديقك الذي يرغب في زيارة دير سانت كاترين بالتوجه لمحافظة

٢ اكتب كلمة (صواب) أمام العبارة الصحيحة، وكلمة (خطأ) أمام العبارة غير الصحيحة:

- ١ - فن التحطيب من الفنون التراثية في محافظتي. ()
- ٢ - يقوم الجهاز المركزي للتعبئة العامة والإحصاء بإجراء التعداد السكاني في مصر. ()
- ٣ - حضورك للعروض الفنية العالمية في دار الأوبرا يُعد سياحة علاجية. ()

٣ اختر الإجابة الصحيحة مما بين القوسين:

- ١ - إحدى مناطق التراث الطبيعي في مصر
- (قلعة صلاح الدين - محمية رأس محمد - سور مجرى العيون - معبد الدير البحري)
- ٢ - قامت الدولة بتطوير مسار العائلة المقدسة في حي
- (المرج - مدينة نصر - المطرية - مصر الجديدة)
- ٣ - يُفضل استخدام النقل المائي لأنه
- (أرخص وسائل النقل - أسرع وسائل النقل - منتشر بكل محافظات مصر - منتشر بكل المحافظات الحدودية)

٤ أمامك خريطة لمصر، لاحظها ثم أجب:



- ١ - إحدى المحافظات الحضرية وهي محافظة
- ٢ - مدينة
- ٣ - صواب أم خطأ: ربط أول خط هاتف في مصر بين المدينة رقم (٣) والمدينة رقم (٤). ()

٥ أجب عما يأتي:

- ١ - ما النتائج المترتبة: انتشار الأمية في بعض المناطق داخل مصر؟
- ٢ - حدد سبباً واحداً لضرورة الالتزام بقواعد وآداب المرور.




١ أكمل العبارات الآتية مستخدماً بنك الكلمات:

(الغورية - الفاو - الفقر - اليونسكو)

- ١ - انتشار الأمية والبطالة يؤدي إلى انتشار مشكلة
- ٢ - تم إنقاذ معبد أبو سمبل الكبير من خطر الغرق بمساعدة منظمة
- ٣ - يضم مشروع تطوير مدينة القاهرة التاريخية عدة مناطق منها منطقة

٢ اكتب كلمة (صواب) أمام العبارة الصحيحة، وكلمة (خطأ) أمام العبارة غير الصحيحة:

- ١ - تشير الصورة المقابلة إلى إحدى علامات المرور التحذيرية.  ()
- ٢ - قيامك برحلات السفاري في الصحاري المصرية يُعد سياحة علاجية. ()
- ٣ - تُعد شركة مصر للطيران إحدى مؤسسات البنك الأهلي. ()

٣ اختر الإجابة الصحيحة من بين القوسين:

- ١ - يقع معبد إيزيس على جزيرة
(الزمالك - غزال - فيلة - سالوجا)
- ٢ - بدأت العصور التاريخية بمعرفة الإنسان
(الكتابة - الزراعة - الصناعة - التجارة)
- ٣ - أحد المعالم السياحية الواقعة في حي مصر القديمة بالقاهرة
(تمثال أبو الهول - معبد أبو سمبل الكبير - معبد الدير البحري - جامع عمرو بن العاص)
- ٤ - إحدى المحافظات الحضرية هي محافظة
(الغربية - أسيوط - الشرقية - السويس)

٤ أمامك خريطة لمصر، لاحظها ثم اكتب مدلول الأرقام التالية:



- ١ - محافظة تشتهر برقصة البمبوتية
- ٢ - مطار
- ٣ - محمية

٥ أجب عما يأتي:

- ١ - فسر: يُعد الملك خوفو من الشخصيات المصرية العظيمة.
- ٢ - اكتب اثنين من مهام رئيس الجمهورية.

١ أكمل العبارات الآتية مستخدفاً بنك الكلمات:

(خوفو - الريف - الخديو توفيق - الخديو إسماعيل)

- ١ - يزيد عدد أفراد الأسرة في
- ٢ - أحد أشهر المراكب في مصر القديمة مركب
- ٣ - دخلت السيارة التي تعمل بطاقة البخار إلى مصر في عهد

٢ اكتب كلمة (صواب) أمام العبارة الصحيحة، وكلمة (خطأ) أمام العبارة غير الصحيحة:

- ١ - يجب إعطاء معلوماتك الشخصية لكل من يطلبها على وسائل التواصل الاجتماعي. ()
- ٢ - يقوم الجهاز المركزي للمحاسبات بعمل التعداد السكاني لمصر. ()
- ٣ - توضح علامات المرور الأرضية مسار تحرك السيارات. ()
- ٤ - أرسلت الملكة حتشبسوت بعثة تجارية إلى بلاد الصين. ()

٣ اختر الإجابة الصحيحة من بين القوسين:

- ١ - أول جامعة في التاريخ هي جامعة
(بوتو - أون - طيبة - نخب)
- ٢ - يتولى رئيس الجمهورية منصبه عن طريق
(الانتخابات - التحكيم - التعيين - التوريث)
- ٣ - أحد مواقع التراث العالمي الموجودة في مصر
(منتزه بانف الوطني - شلالات فيكتوريا - دير سانت كاترين - نصب ستونهنج)

٤ أمامك خريطة صماء لمصر، لاحظها ثم أجب:



- ١ - صواب أم خطأ: يشير رقم (١) لمنطقة تستهدف الدولة تحويلها لمتحف مفتوح. ()
- ٢ - اختر: يشير رقم (٢) لمحمية
(جبل علة - نبق - وادي الريان - الزرائيق)
- ٣ - يشتهر سكان المحافظة رقم (٣) بالعزف على آلة

٥ أجب عما يأتي:

- ١ - اكتب حالة واحدة يفضل فيها استخدام النقل الجوي.
- ٢ - فسر: أهمية السياحة للاقتصاد المصري.

١ أكمل العبارات الآتية مستخدفاً بنك الكلمات:

(السياحي - الهكسوس - العربية - الأمازيغية)

- ١ - يتحدث أهل سيوة بلهجة مشتقة من اللغة
- ٢ - المصدر الأول للعملات الأجنبية في مصر هو النشاط
- ٣ - داخل الصورة المقابلة وسيلة نقل عرفها المصريون عند غزو



٢ اكتب كلمة (صواب) أمام العبارة الصحيحة، وكلمة (خطأ) أمام العبارة غير الصحيحة:

- ١ - تُعد محافظة البحر الأحمر أقل المحافظات المصرية في نسبة الأمية. ()
- ٢ - تستطيع استخراج شهادة ميلادك من خلال الموقع الإلكتروني لبنك مصر. ()
- ٣ - تُعد الحكومة جزءاً من السلطة التنفيذية. ()

٣ اختر الإجابة الصحيحة من بين القوسين:

- ١ - أرسلت الملكة حتشبسوت بعثة تجارية إلى بلاد بونت لجلب
(البردي - الكتان - الحبوب - البخور)
- ٢ - أرسل الملك سنفرو رحلات تجارية بواسطة
(السفن - العربات الحربية - الخيول - السكك الحديدية)
- ٣ - تنصح صديقك أثناء زيارته لمنطقة أثرية أن
(يلتقط صوراً للآثار - يتجنب التعامل مع السياح - يتبع قواعد النظافة - يكتب اسمه على الآثار)
- ٤ - يزيد سكان الريف عن سكان الحضر في محافظة
(السويس - سوهاج - بورسعيد - الإسكندرية)

٤ أمامك خريطة صماء لمصر، لاحظها ثم أجب:



- ١ - اختر: المعلم السياحي الموجود بالمحافظة رقم (١) هو
(سور مجرى العيون - دير سانت كاترين - معبد إيزيس - أهرامات الجيزة)
- ٢ - محافظة
(السويس - سوهاج - بورسعيد - الإسكندرية)
- ٣ - مطار

٥ أجب عما يأتي:

- ١ - لماذا تعد القاهرة التاريخية من أهم المدن التراثية في العالم؟
- ٢ - ما العلاقة بين منظمة اليونسكو والتراث العالمي؟

امتحانات بعض الإدارات التعليمية بالمحافظات المختلفة لعام ٢٠٢٢م

أسئلة تم تعديلها وفقاً
لآخر تعديلات وزارية

مجاب عنها

إدارة غرب مدينة نصر

محافظة القاهرة

١

١ اكتب كلمة (صواب) أمام العبارة الصحيحة، وكلمة (خطأ) أمام العبارة غير الصحيحة:

- ١ - يمثل سكان الحضر أكثر من نصف سكان مصر. ()
- ٢ - تقلل الأمية من فرص العمل المتاحة. ()
- ٣ - تشير الصورة لأحد الجهود التي تقوم بها الدولة للحفاظ على الآثار. ()
- ٤ - تمثل زيارتك لمكتبة الإسكندرية نوعاً من السياحة الترفيهية. ()
- ٥ - يمكنك عبور الطريق إذا كانت إشارة المرور الضوئية الدائرية لونها أخضر. ()



٢ اختر الإجابة الصحيحة مما بين القوسين فيما يلي:

- ١ - توضح الصورة المقابلة أحد الفنون التراثية المنتشرة في محافظة
(جنوب سيناء - الأقصر - القاهرة - الإسكندرية)
- ٢ - أكثر المشكلات الاجتماعية المنتشرة في مصر هي
(الأمية - البطالة - الزواج المبكر - الفقر)
- ٣ - يوجد المتحف القومي للحضارة المصرية في مدينة
(المعادي - الفسطاط - شرم الشيخ - السادس من أكتوبر)
- ٤ - أرسل الملك سنفرو رحلاته التجارية إلى بلاد فينيقيا باستخدام
(السيارات - السفن - الطائرات - القطارات)
- ٥ - كتب المصري القديم الرسائل على ورق
(البردي - التوت - الكتان - العنب)



٣ اجب عن الأسئلة الآتية:

- ١ - اكتب تفسيراً واحداً لأهمية مجلس النواب المصري.
- ٢ - استبعد المكان الذي لا ينتمي للمجموعة التالية مع ذكر السبب:
(دير سانت كاترين - منطقة "أبو مينا" - معبد أبو سمبل الكبير - قلعة صلاح الدين بطابا)

ب لاحظ الخريطة، ثم اجب:



- ١ - يشير رقم (١) على الخريطة إلى أقل محافظات مصر سكاناً وهي
محافظة
- ٢ - يشير رقم (٢) على الخريطة إلى أعلى محافظات مصر سكاناً
وهي محافظة
- ٣ - يشير رقم (٣) على الخريطة إلى إحدى المحافظات الصحراوية
التي يقل عدد سكانها عن مليون نسمة وهي محافظة



١ اكتب كلمة (صواب) أمام العبارة الصحيحة، وكلمة (خطأ) أمام العبارة غير الصحيحة:

- ١ - تقتصر مشكلة الأمية الهجائية على جمهورية مصر العربية. ()
 ٢ - تسببت هجرة سكان المدن إلى الريف في ظهور العشوائيات حول المدن. ()
 ٣ - تتشابه مظاهر احتفالنا بعيد شم النسيم حالياً مع احتفال أجدادنا المصريين القدماء. ()
 ٤ - تشرف الحكومة على تنفيذ الخطة العامة للدولة. ()
 ٥ - تم توصيل أول خط هاتفي في مصر بين القاهرة والسويس. ()

٢ اختر الإجابة الصحيحة مما بين القوسين فيما يلي:

- ١ - يمكنك استخراج جواز سفر من خلال موقع
 (بنك مصر - بوابة مصر الرقمية - منصة مصر التعليمية - التحول الرقمي)
 ٢ - يجب تهدئة السرعة عند رؤية العلامة المرورية



- ٣ - إذا أردت تصدير مصادر الطاقة عبر موانئ البحر المتوسط فعليك بالتوجه إلى ميناء
 (سفاجا - دمياط - السويس - الغردقة)
 ٤ - أرسلت حتشبسوت رحلاتها التجارية إلى بلاد بونت باستخدام
 (السيارات - السفن - الطائرات - القطارات)
 ٥ - عند زيارتك لإحدى المناطق الأثرية عليك الالتزام بـ
 (تصوير القطع الأثرية - تناول الأطعمة والمشروبات - تسجيل زيارتك على الجدران - المحافظة على نظافة المكان)

٣ أجب عن الأسئلة الآتية:

- ١ - ماذا تتوقع إذا حرص المصريون على تنظيم الأسرة؟
 ٢ - دلت على أن فن التحطيب له أصول مصرية قديمة.

ب لاحظ الخريطة، ثم أجب:



- ١ - يشير رقم (١) على الخريطة إلى محافظة تتمتع بسياحة ترفيهية وعلاجية معاً هي محافظة
 ٢ - يشير رقم (٢) على الخريطة إلى محافظة تم إنشاء متحف النوبة بها وهي
 ٣ - يشير رقم (٣) على الخريطة إلى محافظة تشتهر بسباق الهجن وهي

٣ محافظة القليوبية إدارة شرق شبرا الخيمة التعليمية

١ اكتب كلمة (صواب) أمام العبارة الصحيحة، وكلمة (خطأ) أمام العبارة غير الصحيحة:

- ١ - تسببت هجرة سكان المدن إلى الريف في ظهور العشوائيات حول المدن. ()
- ٢ - تقتصر مشكلة الأمية الهجائية على جمهورية مصر العربية. ()
- ٣ - تعد تلك العلامة من العلامات المرورية الإرشادية. ()
- ٤ - كلما اتسع النشاط السياحي في الدولة ازدادت نسبة البطالة. ()
- ٥ - يُعد مَرَكَبٌ خوفو أقدم أثر مصنوع من الخشب في التاريخ الإنساني. ()



٢ اختر الإجابة الصحيحة مما بين القوسين فيما يلي:

- ١ - احتفل المصريون القدماء بكثير من الأعياد التي ما زلنا نحتفل بها حتى اليوم مثل الاحتفال بعيد
(الفطر - الأم - شم النسيم - القيامة المجيد)
- ٢ - يتولى رئيس الجمهورية الرئاسة عن طريق
- (التعيين - الانتخاب - التوريث - التحكيم)
- ٣ - يوجد برج القاهرة في جزيرة
- (فرعون - شدوان - الزمالك - الروضة)
- ٤ - تطوير الموانئ البحرية يساعد على
- (تنشيط التجارة - تنوع المحاصيل - ترشيد المياه - تنشيط الصناعة)
- ٥ - تم مد أول خط هاتفي في مصر بين القاهرة و
- (السويس - الإسماعيلية - الجيزة - الإسكندرية)

٣ ١ أجب عن الأسئلة الآتية:

- ١ - استبعد المكان الذي لا ينتمي للمجموعة التالية مع ذكر السبب:
(الغابة المتحجرة - وادي الحيتان - برج القاهرة - محمية نبق)
- ٢ - وجه رسالة لصاحب محل هدايا تذكارية يبيع منتجاته بأسعار عالية للسياح.

٣ لاحظ الخريطة، ثم أجب:



- ١ - يشير رقم (١) على الخريطة إلى محافظة تم إنشاء متحف النوبة بها
- ٢ - يشير رقم (٢) على الخريطة إلى مدينة يوجد بها قلعة صلاح الدين الأيوبي وهي مدينة
- ٣ - يشير رقم (٣) على الخريطة إلى مدينة من أكبر المدن التراثية في العالم وهي مدينة



إدارة غرب طنطا التعليمية

محافظة الغربية

E

١ اكتب كلمة (صواب) أمام العبارة الصحيحة، وكلمة (خطأ) أمام العبارة غير الصحيحة:

- ١ - تُعد مصر أولى الدول عربياً وإفريقياً في إنشاء مترو الأنفاق. ()
- ٢ - إذا كنت قائد سيارة ورأيت تلك العلامة المرورية فعليك عدم التوقف نهائياً. ()
- ٣ - الشخص الذي يحتاج إلى علاج واستجمام عليه زيارة العيون الكبريتية بسيوة. ()
- ٤ - يشرف وزير الداخلية على المشروعات القومية بالدولة. ()
- ٥ - تقلل الأمية من فرص العمل المتاحة أمام الفرد. ()



٢ اختر الإجابة الصحيحة مما بين القوسين فيما يلي:

- ١ - إذا أردت التمتع بالمناظر الخلابة والشعاب المرجانية فعليك بزيارة مدينة
(مرسى مطروح - شرم الشيخ - الإسكندرية - العلمين)
- ٢ - أرسلت حتشبسوت رحلاتها التجارية إلى بلاد بونت باستخدام
(السيارات - السفن - الطائرات - القطارات)



٣ - تتضمن العملة الورقية التي أمامك وسيلة نقل
أخذها المصريون القدماء عن

- (الفرس - الروم - الهكسوس - الإنجليز)
- ٤ - إذا أردت تصدير مصادر الطاقة عبر مواني البحر المتوسط فعليك بالتوجه إلى ميناء
(سفاجا - دمياط - السويس - الغردقة)
- ٥ - تؤدي مشكلات الأمية والفقر والبطالة إلى ارتفاع
(متوسط عمر الأفراد - معدل الرفاهية - معدل الادخار - معدل الجريمة)

٣ اجب عن الأسئلة الآتية:

- ١ - اكتب تفسيراً واحداً لاهتمام مصر بإنشاء الكباري والطرق.
- ٢ - اكتب أحد أدواركم كمواطن للحفاظ على الآثار.

ب لاحظ الخريطة، ثم اجب:



- ١ - يشير رقم (١) على الخريطة إلى محافظة يوجد بها محمية تضم مجموعة من الأشجار المتحجرة على شكل قطع صخرية وهي
محافظة
- ٢ - يشير رقم (٢) على الخريطة إلى مدينة يوجد بها قلعة صلاح
الدين الأيوبي وهي مدينة
- ٣ - يشير رقم (٣) على الخريطة إلى محمية



محافظة البحيرة إدارة بندر دمنهور التعليمية

٥

١ اكتب كلمة (صواب) أمام العبارة الصحيحة، وكلمة (خطأ) أمام العبارة غير الصحيحة:

- ١ - يساعد تنظيم الأسرة على زيادة عدد الأطفال لدى الأسرة الواحدة. ()
- ٢ - تتشابه لهجات السكان في كل البيئات المصرية. ()
- ٣ - تزداد نسبة الأمية بين الإناث عن الذكور. ()
- ٤ - يمثل أعضاء مجلس النواب جميع فئات المجتمع المصري. ()
- ٥ - تختار اليونسكو بعض الأماكن الفريدة والمميزة لتكون ضمن قائمة التراث العالمي. ()

٢ اختر الإجابة الصحيحة مما بين القوسين فيما يلي:

- ١ - تم بناء الكنيسة المعلقة على الأبراج الجنوبية لحصن بابلون
(الفرعوني - اليوناني - القبطي - الروماني)
- ٢ - إذا قمت بالتخطيط لرحلة سياحية لمناطق السياحة العلاجية في مصر فإنك تختار
(واحة سيوة - مكتبة الإسكندرية - المتحف المصري - خان الخليلي)
- ٣ - تم مد أول خط سكة حديد في مصر بين القاهرة و
(السويس - الجيزة - الإسكندرية - المنيا)
- ٤ - تطوير الطريق الدائري دليل على جهود الدولة في تطوير طرق النقل
(البحري - النهري - البري - الجوي)
- ٥ - كتب المصري القديم الرسائل على ورق
(البردي - التوت - الكتان - العنب)

٣ اجب عن الأسئلة الآتية:

- ١ - اكتب أحد أدوارك كمواطن للمحافظة على الآثار.
- ٢ - اكتب حالة واحدة يفضل فيها استخدام النقل المائي.

٣ لاحظ الخريطة، ثم اجب:

- ١ - يشير رقم (١) على الخريطة إلى مدينة أطلق عليها لقب مدينة السلام هي
- ٢ - يشير رقم (٢) على الخريطة إلى محافظة يوجد بها تمثال أبو الهول وهي
- ٣ - يشير رقم (٣) على الخريطة إلى إحدى المحافظات الصحراوية التي يقل عدد سكانها عن مليون نسمة وهي محافظة



٦ محافظة الإسكندرية إدارة المنتزه التعليمية

١ اكتب كلمة (صواب) أمام العبارة الصحيحة، وكلمة (خطأ) أمام العبارة غير الصحيحة:

- ١ - يساعد تنظيم الأسرة على زيادة عدد الأطفال لدى الأسرة. ()
 ٢ - محافظتي من المناطق التي ينتشر فيها إنشاد السيرة الهلالية وعزف الربابة. ()
 ٣ - إذا كنت من سكان محافظة المنيا فأنت تعيش في أعلى محافظات مصر من حيث نسبة الأمية. ()
 ٤ - يمثل أعضاء مجلس النواب جميع فئات المجتمع المصري. ()
 ٥ - يختص المحافظ بحفظ الأمن والنظام داخل محافظته. ()

٢ اختر الإجابة الصحيحة مما بين القوسين فيما يلي:

- ١ - إذا أردت زيارة إحدى مناطق التراث الثقافي في طابا فإنك سوف تتوجه لزيارة
 (محمية رأس محمد - الأهرامات - قلعة قايتباي - قلعة صلاح الدين)
 ٢ - أحد المواقع الأثرية التي ساهمت اليونسكو في إنقاذها من الغرق هو
 (معبد إيزيس - دير سانت كاترين - منطقة "أبو مينا" - وادي الريان)
 ٣ - تم بناء الكنيسة المعلقة على الأبراج الجنوبية لحصن بابلون
 (الفرعوني - اليوناني - القبطي - الروماني)
 ٤ - إذا قمت بالتخطيط لرحلة سياحية لمناطق السياحة العلاجية في مصر فإنك تختار
 (واحة سيوة - مكتبة الإسكندرية - المتحف المصري - خان الخليلي)
 ٥ - وسيلة نقل دخلت مصر في عهد الخديو توفيق وكانت تعمل بالبخار
 (البواخر - الطائرات - القوارب - السيارات)

٣ أجب عن الأسئلة الآتية:

- ١ - اكتب سببًا واحدًا لحدوث السياحة لزيارة بلادنا.
 ٢ - ماذا تقول في الموقف التالي: شخص يتحدث في الهاتف أثناء قيادة السيارة؟

٤ لاحظ الخريطة، ثم أجب:

- ١ - يشير رقم (١) على الخريطة إلى محمية تضم مجموعة من الأشجار المتحجرة على شكل قطع صخرية
 هي محمية
 ٢ - يشير رقم (٢) على الخريطة لمحمية تضم هيائل وعظام لحيتان ضخمة وحفريات لأسماك أخرى
 وهي محمية
 ٣ - يشير رقم (٣) على الخريطة إلى محافظة تشتهر
 بسباق الهجن وهي



7 محافظة المنوفية إدارة شبين الكوم التعليمية

١ اكتب كلمة (صواب) أمام العبارة الصحيحة، وكلمة (خطأ) أمام العبارة غير الصحيحة:

- ١ - يساعد الاهتمام بالتراث الثقافي على زيادة عدد السائحين لمصر. ()
- ٢ - تخضع السلطة التنفيذية للرقابة من السلطة التشريعية. ()
- ٣ - معبد الدير البحري من أقدم الأديرة الدينية في مصر. ()
- ٤ - عند زيارتك لمعرض القاهرة الدولي للكتاب فأنت تقوم بسياحة علاجية. ()
- ٥ - تُعد السفن أول وسيلة نقل مائي عرفها الإنسان المصري القديم. ()

٢ اختر الإجابة الصحيحة مما بين القوسين فيما يلي:

- ١ - المنظمة التي خصصت يوماً عالمياً للتوعية بحماية التراث الوطني هي منظمة
(اليونسيف - السياحة - الفاو - اليونسكو)
- ٢ - إذا أردت التمتع بالمناظر الخلابة والشعاب المرجانية فعليك زيارة مدينة
(مرسى مطروح - شرم الشيخ - الإسكندرية - العلمين)
- ٣ - مصر أول دول إفريقيا والشرق الأوسط استخداماً لـ
(السيارات - الطائرات - القطارات - السفن)
- ٤ - أي مما يلي يُعد من الآداب العامة لاستخدام وسائل النقل؟
(ترك المقاعد لكبار السن - العبور من مناطق عبور المشاة - استخدام آلة التنبيه - تهدئة السرعة في المناطق السكنية)
- ٥ - يُعد التراث النوبي في محافظة أسوان امتداداً للحضارة
(المصرية القديمة - الرومانية - اليونانية - الإسلامية)

٣ اجب عن الأسئلة الآتية:



- ١ - اكتب دليلاً واحداً على اهتمام مصر بالتنمية السياحية.
- ٢ - ما العلاقة بين استخدام السيارات والبيئة؟

ب لاحظ الخريطة المقابلة، ثم اجب:

- ١ - يشير رقم (١) إلى محافظة يوجد بها تمثال أبو الهول وهي
- ٢ - يشير رقم (٢) إلى محافظة بها سياحة ترفيهية وهي محافظة
- ٣ - يشير رقم (٣) إلى محافظة بها مدينة أطلق عليها مدينة السلام وهي محافظة



إدارة نبوه التعليمية

محافظة الدقهلية

٨

١ اكتب كلمة (صواب) أمام العبارة الصحيحة، وكلمة (خطأ) أمام العبارة غير الصحيحة:

- ١ - يعاني معظم سكان الريف من انخفاض الدخل ومستوى المعيشة. ()
 ٢ - يتنوع التراث الثقافي لسكان مصر بتنوع المناطق التي يعيشون فيها. ()
 ٣ - تزداد نسبة البطالة والامية في الحضر عن الريف. ()
 ٤ - بنى عمر بن الخطاب مسجده الشهير في حي مصر القديمة بعد الفتح الإسلامي لمصر. ()
 ٥ - يُعد تناول الطعام والشراب في المناطق الأثرية أمرًا مقبولًا. ()

٢ اختر الإجابة الصحيحة مما بين القوسين فيما يلي:

- ١ - تم مد أول خط هاتفي في مصر بين القاهرة و
 (السويس - الإسكندرية - الإسماعيلية - الجيزة)
 ٢ - تطوير الموانئ البحرية يساعد على
 (تنشيط التجارة - تنوع المحاصيل - ترشيد المياه - اكتشاف مصادر الطاقة)
 ٣ - الشخص الذي يعاني من بعض الأمراض الجلدية ويحتاج لعلاج يمكنه زيارة
 (واحة سيوة - الجيزة - الإسكندرية - القاهرة)
 ٤ - المنظمة التي خصصت يومًا عالميًا للتوعية بحماية التراث الوطني هي منظمة
 (اليونيسيف - السياحة - الفاو - اليونسكو)
 ٥ - تنتشر رقصة البمبوطية بين سكان محافظة
 (الإسكندرية - قنا - القاهرة - السويس)

٣ اجب عن الأسئلة الآتية:

- ١ - ماذا تقول في الموقف التالي: أثناء المشاركة في رحلة مدرسية شاهدت زميلك يكتب اسمه على أحد القطع الأثرية؟
 ٢ - قارن بين: مهام رئيس الجمهورية ومهام المحافظ.

مهام المحافظ	مهام رئيس الجمهورية
.....
.....
.....



ب لاحظ الخريطة، واكتب الرقم الدال على كل عبارة:

- ١ - محافظة تشتهر بسباقات الهجن هي رقم
 ٢ - محافظة بها ميناء الغردقة وسفاجا هي رقم
 ٣ - محافظة بها متحف النوبة هي رقم



١ اكتب كلمة (صواب) أمام العبارة الصحيحة، وكلمة (خطأ) أمام العبارة غير الصحيحة:

- ١ - تُظهر الساعة السكانية أعداد سكان مصر بشكل مستمر. ()
- ٢ - تساعد الحكومة رئيس الجمهورية في إدارة شئون البلاد. ()
- ٣ - بنى المصريون القدماء الأهرامات شرق البحر الأحمر لتكون بعيدة عن الفيضان. ()
- ٤ - يمكنك عبور الطريق إذا كانت إشارة المرور الضوئية الدائرية لونها أخضر. ()
- ٥ - تشير الصورة لأحد الجهود التي تقوم بها الدولة للحفاظ على الآثار. ()



٢ اختر الإجابة الصحيحة مما بين القوسين فيما يلي:

- ١ - مشكلة الأمية في مصر من المشكلات:
(الاقتصادية - السياسية - الاجتماعية - النفسية)
- ٢ - تم تشييد القلاع والحصون في مصر قديماً بهدف
(حماية البلاد - جذب السياح - توفير المساكن - تنمية الاقتصاد)
- ٣ - إذا أردت التمتع بالمناظر الخلابة والشعاب المرجانية فعليك زيارة مدينة
(مرسى مطروح - شرم الشيخ - الإسكندرية - العلمين)
- ٤ - تتضمن العملة الورقية التي أمامك وسيلة نقل أخذها المصريون القدماء عن
(الفرس - الروم - الهكسوس - الإنجليز)
- ٥ - إذا أردت تصدير السلع الزراعية عبر مواني البحر الأحمر فعليك بالتوجه إلى ميناء
(الإسكندرية - دمياط - أبو قير - الغردقة)



٣ أجب عن الأسئلة الآتية:

- ١ - اكتب تفسيراً لهذه العبارة: "للإنترنت فوائد متعددة في حياتنا".
- ٢ - اكتب دليلاً واحداً على اهتمام اليونسكو بالمناطق التراثية حول العالم.

ب لاحظ الخريطة ثم أجب:

- ١ - يشير رقم (١) على الخريطة إلى منطقة تشتهر بالاحتفال بعيد التمور والزيتون وهي
- ٢ - يشير رقم (٢) على الخريطة لمحمية تضم هياكل وعظام لحيثان ضخمة وحفريات لأسماك أخرى وتقع في محافظة
- ٣ - يشير رقم (٣) على الخريطة إلى محافظة بها إحدى قلاع صلاح الدين الأيوبي وهي محافظة



١٠ محافظة كفر الشيخ إدارة مطوبس التعليمية

١ اكتب كلمة (صواب) أمام العبارة الصحيحة، وكلمة (خطأ) أمام العبارة غير الصحيحة:

- ١ - تساعد الحكومة رئيس الجمهورية في إدارة شؤون البلاد. ()
- ٢ - منطقة القاهرة التاريخية من أهم وأكبر المدن التراثية في العالم. ()
- ٣ - تم توصيل أول خط هاتفي في مصر بين القاهرة والسويس. ()
- ٤ - تساعد علامات المرور الضوئية على شكل إنسان على تنظيم عبور المشاة. ()
- ٥ - ترتب على إنشاء الكباري والمحاور زيادة زمن الوصول بين الأماكن. ()

٢ اختر الإجابة الصحيحة مما بين القوسين:

- ١ - كتب المصري القديم الرسائل على ورق (البردي - التوت - الكتان - العنب)
- ٢ - المصدر الأول للعملات الأجنبية في مصر يتمثل في النشاط (الزراعي - الرعوي - الصناعي - السياحي)
- ٣ - أرسلت حتشبسوت رحلاتها التجارية إلى بلاد بونت باستخدام (السيارات - السفن - الطائرات - القطارات)
- ٤ - تنصح صديقك عند زيارة معبد أبو سمبل الكبير بـ (المحافظة على المكان - الكتابة على الجدران - أخذ كرة يلعب بها - تناول الطعام في المعبد)
- ٥ - يوجد المتحف القومي للحضارة في مدينة (المعادي - الفسطاط - شرم الشيخ - السادس من أكتوبر)

٣ اجب عن الأسئلة التالية:

- ١ - حدد سببًا واحدًا لنشاط السياحة في واحة سيوة في شهر أكتوبر من كل عام.
- ٢ - اكتب نتيجة واحدة تترتب على انتشار الأمية في الدولة.

ب لاحظ الخريطة، ثم اجب:



- ١ - يشير رقم (١) إلى أقل محافظات مصر من حيث عدد السكان وهي
- ٢ - يشير رقم (٢) إلى محافظة بها متحف النوبة وهي
- ٣ - يشير رقم (٣) إلى مدينة بها سياحة ترفيهية وهي



١١ محافظة الشرقية إدارة فاقوس التعليمية

١ اكتب كلمة (صواب) أمام العبارة الصحيحة، وكلمة (خطأ) أمام العبارة غير الصحيحة:

- ١ - يقيم معظم السكان الذين يعملون بالزراعة في المدن. ()
- ٢ - تزداد نسبة الأمية بين الإناث عن الذكور. ()
- ٣ - زيارة السائحين لمعبد الأقصر تُعد زيارة لمنطقة تراث طبيعي. ()
- ٤ - يُعد تناول الطعام والشراب في المناطق الأثرية أمرًا مقبولًا. ()
- ٥ - تُعد السفن أول وسيلة نقل ماثي عرفها المصري القديم. ()

٢ اختر الإجابة الصحيحة مما بين القوسين فيما يلي:

- ١ - تُجري جمهورية مصر العربية تعدادها السكاني كل
(خمس سنوات - عشر سنوات - عشرين سنة - خمس وعشرين سنة)
- ٢ - الجهة المسئولة عن سن قوانين لحماية الأطفال ومنع استغلالهم هي
(السلطة القضائية - السلطة التشريعية - السلطة التنفيذية - السلطة المحلية)
- ٣ - يوجد المتحف القومي للحضارة المصرية في مدينة
(المعادي - الفسطاط - شرم الشيخ - السادس من أكتوبر)
- ٤ - فشل الجيش الإسرائيلي في فك الشفرة المصرية المستخدمة في حرب أكتوبر عام ١٩٧٣ م بسبب إرسالها باللغة
(الهيروغليفية - الأمازيغية - اليونانية - النوبية)
- ٥ - تم مد أول خط سكة حديد في مصر بين القاهرة و
(السويس - الجيزة - الإسكندرية - الشرقية)

٣ ١ اجب عن الأسئلة الآتية:

- ١ - اكتب تفسيرًا لانخفاض عدد سكان محافظة جنوب سيناء.
- ٢ - ماذا يحدث إذا ارتفعت درجات الحرارة وزاد منسوب المياه في المناطق الأثرية؟

ب لاحظ الخريطة، ثم اجب:



- ١ - يشير رقم (١) على الخريطة إلى منطقة تشتهر بالاحتفال بعيد حصاد التمور والزيتون وهي
- ٢ - يشير رقم (٢) على الخريطة إلى محافظة بها متحف النوبة وهي
- ٣ - يشير رقم (٣) على الخريطة إلى محافظة تشتهر بسباق الهجن وهي

١٣ محافظة الإسماعيلية إدارة شمال الإسماعيلية التعليمية

١ اكتب كلمة (صواب) أمام العبارة الصحيحة، وكلمة (خطأ) أمام العبارة غير الصحيحة:

- ١ - يقيم معظم السكان الذين يعملون بالزراعة في المدن. ()
- ٢ - لعبت اللغة الأمازيغية دورًا مهمًا في الانتصار في حرب أكتوبر عام ١٩٧٣ م. ()
- ٣ - يختار رئيس الجمهورية نصف أعضاء مجلس النواب. ()
- ٤ - منطقة القاهرة التاريخية من أهم وأكبر المدن التراثية في العالم. ()
- ٥ - تمثل زيارتك لمكتبة الإسكندرية نوعًا من السياحة الترفيهية. ()

٢ اختر الإجابة الصحيحة مما بين القوسين فيما يلي:

- ١ - تم مد أول خط سكة حديد في مصر بين القاهرة و
(السويس - الجيزة - الإسكندرية - المنيا)
- ٢ - كتب المصري القديم الرسائل على ورق
(البردي - التوت - الكتان - العنب)
- ٣ - النشاط الاقتصادي الرئيسي للبدو هو
(الزراعة - الصناعة - التجارة - الرعي)
- ٤ - تؤدي مشكلات الأمية والفقر والبطالة إلى ارتفاع
(متوسط عمر الأفراد - معدل الرقاهية - معدل الادخار - معدل الجريمة)
- ٥ - تتكون السلطة التشريعية في مصر من مجلس الشيوخ و
(مجلس الوزراء - مجلس النواب - المجلس المحلي - مجلس الدولة)

٣ اجب عن الأسئلة الآتية:

- ١ - اكتب حالة واحدة يفضل فيها استخدام النقل المائي.
- ٢ - حدد سببًا واحدًا لزيادة عدد أفراد الأسرة في الريف عن الحضر.

٣ لاحظ الخريطة، ثم اجب:



- ١ - يشير رقم (١) على الخريطة إلى منطقة تشتهر بالاحتفال بعيد حصاد التمور والزيتون وهي
- ٢ - يشير رقم (٢) على الخريطة إلى محافظة بها متحف النوبة وهي
- ٣ - يشير رقم (٣) على الخريطة إلى محافظة تشتهر بسباق الهجن وهي

١٣ محافظة بورسعيد إدارة شمال بورسعيد التعليمية

١ اكتب كلمة (صواب) أمام العبارة الصحيحة، وكلمة (خطأ) أمام العبارة غير الصحيحة:

- ١ - تزداد نسبة الأمية بين الإناث عن الذكور. ()
- ٢ - تُعد الحكومة جزءاً من السلطة التنفيذية. ()
- ٣ - يعد معبد الدير البحري بالأقصر من المواقع التراثية المسجلة على خريطة التراث العالمي. ()
- ٤ - تُعد صيانة منطقة الأهرامات من مشروعات تطوير التراث العمراني بالقاهرة. ()
- ٥ - تُعد مصر أولى الدول عربياً وإفريقياً في إنشاء مترو الأنفاق. ()

٢ اختر الإجابة الصحيحة مما بين القوسين فيما يلي:

- ١ - المحافظة الأقل سكاناً في مصر هي محافظة
(الوادي الجديد - أسوان - جنوب سيناء - شمال سيناء)
- ٢ - أكثر المشكلات الاجتماعية المنتشرة في مصر هي
(الأمية - البطالة - الزواج المبكر - التلوث)
- ٣ - إذا أردت زيارة أحد مواقع التراث الطبيعي في القاهرة فإنك سوف تتجه لزيارة
(برج القاهرة - محمية الغابة المتحجرة - قلعة صلاح الدين - محمية وادي الريان)
- ٤ - يقع دير سانت كاترين في محافظة
(شمال سيناء - جنوب سيناء - البحر الأحمر - مطروح)
- ٥ - استخدم الإنسان للتواصل في عصور ما قبل التاريخ
(الرسائل النصية - الطبول - التليفون - التلغراف)

٣ اجب عن الأسئلة الآتية:

- ١ - اكتب تفسيراً لإصدار الدولة لقانون المرور.
- ٢ - اكتب حالة واحدة يُفضل فيها استخدام النقل الجوي.

ب لاحظ الخريطة، ثم اجب:



- ١ - يشير رقم (١) على الخريطة إلى محافظة تم إنشاء متحف النوبة بها وهي محافظة
- ٢ - يشير رقم (٢) على الخريطة إلى محافظة يوجد بها محمية وادي الريان وهي محافظة
- ٣ - يشير رقم (٣) على الخريطة إلى محافظة بها مدينة يطلق عليها لقب مدينة السلام وهي محافظة



IE محافظة السويس - إدارة شمال السويس التعليمية

١ اكتب كلمة (صواب) أمام العبارة الصحيحة، وكلمة (خطأ) أمام العبارة غير الصحيحة:

- ١ - كلما زادت نسبة الأمية زادت معها فرصة الحصول على عمل. ()
- ٢ - كان الوزير على رأس نظام الحكم في مصر القديمة. ()
- ٣ - تم تشييد برج القاهرة على شكل زهرة اللوتس. ()
- ٤ - إذا رأيت العلامة المرورية المقابلة على الطريق فهذا يعني وجود محطة وقود. ()
- ٥ - بدأت العصور التاريخية بمعرفة الإنسان الكتابة. ()



٢ اختر الإجابة الصحيحة مما بين القوسين فيما يلي:

- ١ - فشل الجيش الإسرائيلي في فك الشفرة المصرية المستخدمة في حرب أكتوبر عام ١٩٧٣ م بسبب إرسالها باللغة
(الهيروغليفية - الأمازيغية - اليونانية - النوبية)
- ٢ - الجهة المسئولة عن سن قوانين لحماية الأطفال ومنع استغلالهم هي
(السلطة القضائية - السلطة التشريعية - السلطة التنفيذية - السلطة المحلية)
- ٣ - تبذل الدولة جهودًا كبيرة للحفاظ على المناطق الأثرية منها
(تشجيع الاتجار في الآثار - ترميم المناطق الأثرية - استبدال الآثار بالمناطق السكنية - تشجيع السكان للبحث عن الآثار)
- ٤ - تم بناء الكنيسة المعلقة على الأبراج الجنوبية لحصن بابليون
(الفرعوني - اليوناني - القبطي - الروماني)
- ٥ - أرسلت حتشبسوت رحلاتها التجارية إلى بلاد بونت باستخدام
(السيارات - السفن - الطائرات - القطارات)

٣ اكتب سببًا واحدًا لكل من:

- ١ - أهمية الأهرامات عند المصريين القدماء.
- ٢ - استخدام الحمام الزاجل في إرسال الرسائل قديمًا.

ب لاحظ الخريطة، ثم أجب:



- ١ - يشير رقم (١) على الخريطة إلى محافظة بها مدينة أطلق عليها لقب مدينة السلام هي محافظة
- ٢ - يشير رقم (٢) على الخريطة إلى محافظة يوجد بها تمثال أبو الهول هي محافظة
- ٣ - يشير رقم (٣) على الخريطة إلى منطقة أثرية معرضة لتآكل التربة والمباني وهي منطقة



١ اكتب كلمة (صواب) أمام العبارة الصحيحة، وكلمة (خطأ) أمام العبارة غير الصحيحة:

- ١ - تم تشييد برج القاهرة ليكون على شكل زهرة اللوتس. ()
- ٢ - عند زيارتك معرض القاهرة الدولي للكتاب فإنك تقوم بسياحة علاجية. ()
- ٣ - تعتبر الحكومة جزءًا من السلطة التنفيذية في مصر. ()
- ٤ - يُعد مركب خوفو أقدم أثر مصنوع من الخشب في التاريخ الإنساني. ()
- ٥ - تشير الصورة المقابلة لأحد مظاهر التراث الثقافي في مصر. ()



قلعة قايتباي

٢ اختر الإجابة الصحيحة مما بين القوسين فيما يلي:

- ١ - تؤدي مشكلات الأمية والفقر والبطالة إلى ارتفاع
(متوسط عمر الفرد - معدل الرفاهية - معدل الادخار - معدل الجريمة)
- ٢ - يتولى رئيس الجمهورية الرئاسة عن طريق
(التعيين - الانتخاب - التوريث - التحكيم)
- ٣ - إذا أردت زيارة إحدى مناطق التراث الطبيعي في القاهرة فإنك سوف تتوجه لزيارة
(برج القاهرة - محمية الغابة المتحجرة - قلعة صلاح الدين - محمية وادي الريان)
- ٤ - تم مد أول خط سكة حديد بين القاهرة و
(السويس - الجيزة - الإسكندرية - المنيا)
- ٥ - عندما تريد الإقامة في محافظة حضرية فعليك التوجه إلى محافظة
(الوادي الجديد - بورسعيد - الجيزة - المنيا)

٣ اكتب تفسيرًا واحدًا لكل من:

- ١ - ضرورة الالتزام بقواعد وآداب المرور.
- ٢ - أهمية مجلس النواب المصري.

ب لاحظ الخريطة، ثم أجب:



- ١ - يشير رقم (١) على الخريطة إلى محافظة تشتهر بسباق الهجن وهي
- ٢ - يشير رقم (٢) على الخريطة إلى محمية
- ٣ - يشير رقم (٣) على الخريطة إلى منطقة تضم هياكل وعظام لحيثان توجد في محافظة



١٦ محافظة بني سويف إدارة بني سويف التعليمية

١ اكتب (صواب) أمام العبارة الصحيحة، وكلمة (خطأ) أمام العبارة غير الصحيحة:

- ١ - تم تشييد برج القاهرة على شكل زهرة اللوتس. ()
 ٢ - عند زيارتك لمدينة دهب على ساحل البحر الأحمر فأنت تقوم بسياحة علاجية. ()
 ٣ - يُعد تناول الطعام والشراب في المناطق الأثرية أمرًا مقبولًا. ()
 ٤ - يمثل رئيس الجمهورية السلطة القضائية في مصر. ()
 ٥ - أسس بنك مصر أول شركة طيران في العالم. ()

٢ اختر الإجابة الصحيحة مما بين القوسين فيما يلي:

- ١ - مشكلة الأمية في مصر من المشكلات (الاقتصادية - السياسية - الاجتماعية - النفسية)
 ٢ - المصدر الأول للعملة الأجنبية في مصر يتمثل في النشاط
 ٣ - المنظمة التي خصصت يومًا عالميًا للتوعية بحماية التراث الوطني هي منظمة
 (اليونيسيف - السياحة - الفاو - اليونسكو)
 ٤ - كان أول خط هاتفي في مصر يصل بين القاهرة و.....
 (الإسكندرية - السويس - البحيرة - الجيزة)
 ٥ - المحافظة الأقل سكانًا في جمهورية مصر العربية هي محافظة
 (الوادي الجديد - أسوان - جنوب سيناء - شمال سيناء)

٣ اكتب تفسيرًا لكل من:

- ١ - بناء القلاع والحصون في مناطق مختلفة في مصر قديمًا.
 ٢ - أهمية السياحة في مصر.

ب لاحظ الخريطة، ثم أجب:



- ١ - يشير رقم (١) إلى محافظة بها موقع أثري مسجل على قائمة التراث العالمي وهي محافظة
 ٢ - يشير رقم (٢) إلى واحدة من أكبر المدن التراثية في العالم وهي مدينة
 ٣ - يشير رقم (٣) إلى منطقة أثرية معرضة لتآكل التربة وهي منطقة



محافظة المنيا إدارة أبو قرقاص التعليمية IV

١ اكتب كلمة (صواب) أمام العبارة الصحيحة، وكلمة (خطأ) أمام العبارة غير الصحيحة:

- ١ - يعاني معظم سكان الريف من انخفاض الدخل ومستوى المعيشة. (-)
- ٢ - كلما زادت نسبة الأمية زادت معها فرصة الحصول على عمل. (-)
- ٣ - يرجع ارتفاع نسبة الأمية الهجائية بين الشعب المصري إلى التحاق جميع الأطفال بالمدارس. (-)
- ٤ - تساعد الحكومة رئيس الجمهورية في إدارة شئون البلاد. (-)
- ٥ - تستخدم شبكة الإنترنت في الحصول على المعلومات بسرعة. (-)

٢ اختر الإجابة الصحيحة مما بين القوسين فيما يلي:

- ١ - من المواقع التراثية المصرية المسجلة على خريطة التراث العالمي لليونسكو
(وادي الحيتان - السد العالي - برج القاهرة - الحاجز المرجاني)
- ٢ - تم بناء جامع عمرو بن العاص بمدينة الفسطاط في عهد الخليفة
(علي بن أبي طالب - عمر بن الخطاب - أبي بكر الصديق - عثمان بن عفان)
- ٣ - المصدر الأول للعملات الأجنبية في مصر يتمثل في النشاط
(الزراعي - الرعوي - الصناعي - السياحي)
- ٤ - أرسل الملك سنفرو رحلاته التجارية إلى بلاد فينيقيا باستخدام
(السيارات - السفن - الطائرات - القطارات)
- ٥ - إذا أردت تصدير مصادر الطاقة عبر مواني البحر المتوسط فعليك بالتوجه إلى ميناء
(سفاجا - دمياط - السويس - الغردقة)

٣ اجب عن الأسئلة التالية:

١ - ماذا تقول في الموقف التالي:



طفل يعبر الطريق وعلامة المرور الضوئية التي على شكل إنسان لونها أحمر؟

٢ - اكتب نتيجة واحدة ترتبت على معرفة الإنسان للكتابة.

٤ لاحظ الخريطة، ثم اجب:



- ١ - يشير رقم (١) إلى منطقة تشتهر بالاحتفال بعيد حصاد التمور والزيتون وهي
- ٢ - يشير رقم (٢) إلى محافظة بها متحف النوبة وهي
- ٣ - يشير رقم (٣) إلى محافظة تشتهر بسباق الهجن وهي



- ٢ - ١ - الجهاز المركزي للتعينة العامة والإحصاء.
٢ - النوبية.
٣ - بني سويف.
٤ - رئيس الجمهورية.
٥ - المحافظ.
٦ - محمية الغابة المتحجرة.
٧ - الفيوم.
٨ - واحة سيوة.
٩ - المحافظة على نظافة المكان.
١٠ - السفن.
١١ - الغردقة.
١٢ - حصر أماكن الكافلات المرورية.

- ٣ - ١ - بسبب وعورة السطح وقلة موارد المياه.
٢ - أجب بنفسك.
٣ - إدارة شئون المحافظة، متابعة جودة المرافق والخدمات العامة، حفظ الأمن والنظام بالمحافظة، الإشراف على تنفيذ المشروعات التنموية في المحافظة، توفير فرص عمل لأبناء المحافظة.

- ٤ - أجب بنفسك.
٥ - لتأمين البلاد وحمايتها من الأعداء.
٦ - لأنها تعاني من تآكل التربة والمباني.
٧ - لأن بها العديد من المناطق التراثية مثل مجمع الأديان والمتحف القومي للحضارة المصرية.
٨ - لتقليل زمن انتظار السفن خارج الميناء، زيادة كميات البضائع المتداولة ومساحات التخزين داخل الميناء لتنشيط حركة التجارة.
٩ - أجب بنفسك.
١٠ - لأنه أسرع من الأشخاص في توصيل الرسائل.
١ - ٣ - أجب بنفسك.

- ٤ - يؤدي إلى تقليل تلوث البيئة والحفاظ على مصادر الطاقة غير المتجددة من التفتاد.
٥ - أجب بنفسك.

- ٤ - ١ - الدليل: يقوم بحصر عدد السكان (التعداد السكاني) مما يساعد في وضع خطط التنمية في الدولة.
٢ - الدليل: وجود لوحة منقوشة على جدران معبد الكرنك للإله حورس وهو يعلم الملك أمنحتب الثالث التحطيب.
٣ - الدليل: اخترعوا الكتابة الهيروغليفية وأنشأوا المدارس وأول جامعة في التاريخ (جامعة أون).
٤ : ٦ - أجب بنفسك.
٥ - أجب بنفسك.

إجابات اختبارات سلاح التلميذ العامة على الفصل الدراسي الثاني

الاختبار الأول

- ١ - ١ - الدولة الحديثة.
٢ - اليونسكو.
٣ - الهكسوس.
٢ - ١ - صواب.
٢ - خطأ.
٣ - ٣ - خطأ.
٤ - صواب.
٢ - ٢ - بورسعيد.
٣ - ثقافية.

- ٤ - ١ - القاهرة.
٢ - دمياط.
٣ - طابا.

- ٥ - ١ - إيجابيات الإنترنت: جعل العالم قرية صغيرة - أصبح التواصل أسهل وأسرع بين البشر في كل دول العالم عبر التطبيقات المختلفة - سرعة الحصول على المعلومات - التواصل مع الزملاء والمعلمين لمناقشة الموضوعات العلمية والدراسية - البحث عن فرص عمل مناسبة - العمل عن بعد في مجالات متعددة - وفرت شبكة الإنترنت العديد من أنواع الترفيه والتسلية.

- ٢ - سلبيات الإنترنت: مشاركة أشخاص لا نعرفهم معلوماتنا وصورنا الشخصية - مشاركة معلومات غير صحيحة - إهدار الكثير من الوقت على شبكات التواصل الاجتماعي.
٢ - أجب بنفسك.

الاختبار الثاني

- ١ - ١ - البردي.
٢ - الجيزة.
٢ - الإسكندرية.
٤ - جنوب سيناء.
٢ - ١ - أجب بنفسك.
٢ - صواب.
٣ - خطأ.
٣ - ١ - محمية رأس محمد.
٢ - المطرية.
٢ - أرخص وسائل النقل.
٤ - ١ - بورسعيد.
٢ - شرم الشيخ.
٣ - خطأ.

- ٥ - ١ - انتشار الجهل والخرافات بين الناس - التقليل من فرص الحصول على عمل - انتشار البطالة والفقر - التأثير السلبي على برامج التنمية المستدامة.
٢ - حتى نحافظ على أرواح الناس.

الاختبار الثالث

- ١ - ١ - الفقر.
٢ - اليونسكو.
٣ - الغورية.
٢ - ١ - صواب.
٢ - خطأ.
٣ - خطأ.
٣ - ١ - فيلة.
٢ - الكتابة.
٣ - ٣ - جامع عمرو بن العاص.
٤ - السويس.
٤ - ١ - الإسماعيلية.
٢ - أسوان الدولي.
٣ - رأس محمد.

- ٥ - ١ - يعد الملك خوفو من الشخصيات المصرية العظيمة. لأنه صاحب الهرم الأكبر والذي يعد بناؤه أكبر نقلة حضارية في تاريخ مصر وشاهدًا على عظمة المصريين القدماء لما يمتاز به من إتقان في هندسته ودقة في تخطيطه.
٢ - العمل على أمن الوطن - رعاية مصالح الشعب.



محافظة الجيزة - إدارة الوراق التعليمية

١ - خطأ. ٢ - خطأ. ٣ - صواب.

٤ - صواب. ٥ - خطأ.



٢ - خطأ.

١ - بوابة مصر الرقمية.

٣ - دمياط. ٤ - السفن.

٥ - المحافظة على نظافة المكان.

٣ ١ - أتوقع تقليل عدد الأطفال في الأسرة الواحدة،

مما يساعد الأسرة على تربية الطفل وتعليمه

بشكل جيّد، والمحافظة على صحّة الأم وتقليل

وفيات الأطفال الرضع خاصة في الريف.

٢ - الدليل هو وجود لوحة منقوشة على حائط معبد الكرنك

في محافظة الأقصر تمثل الإله حورس وهو يعلم الملك

أمنحتب الثالث التحطيب.

١ - جنوب سيناء. ٢ - أسوان.

٣ - شمال سيناء.

محافظة الفيوم - إدارة شرق شبرا الخيمة التعليمية

١ - خطأ. ٢ - خطأ. ٣ - صواب.

٤ - خطأ. ٥ - صواب.

٢ ١ - شم النسيم. ٢ - الانتخاب. ٣ - الزمالك.

٤ - تنشيط التجارة. ٥ - الإسكندرية.

٣ ١ - برج القاهرة لأنه من التراث الثقافي بينما بقية العناصر

هي من التراث الطبيعي.

٢ - أجب بنفسك.

١ - أسوان. ٢ - طابا. ٣ - القاهرة التاريخية.

محافظة الغربية - إدارة غرب طنطا التعليمية

١ - صواب. ٢ - صواب. ٣ - صواب.

٤ - خطأ. ٥ - صواب.

٢ ١ - شرم الشيخ. ٢ - السفن. ٣ - الهكسوس.

٤ - دمياط. ٥ - معدل الجريمة.

٣ ١ - لتخفيف الضغط المروري.

٢ - إجابة استرشادية: الحفاظ على نظافة المناطق الأثرية.

١ - القاهرة. ٢ - طابا. ٣ - رأس محمد.

الاختبار الرابع

١ - الريف. ٢ - خوفو. ٣ - الخديو توفيق.

٢ ١ - خطأ. ٢ - خطأ.

٣ - صواب. ٤ - خطأ.

٣ ١ - أون. ٢ - الانتخابات.

٣ - دير سانت كاترين.

٤ ١ - خطأ. ٢ - وادي الريان. ٣ - الربابة.

٥ ١ - نقل السلع سريعة التلف.

٢ - توفر فرص عمل للشباب - تسهم بنحو ١٢٪ من

إجمالي الدخل القومي - تعد المصدر الأول للعملات

الأجنبية.

الاختبار الخامس

١ ١ - الأمازيغية. ٢ - السياحي. ٣ - الهكسوس.

٢ ١ - صواب. ٢ - خطأ. ٣ - صواب.

٣ ١ - البخور. ٢ - السفن.

٣ - يتبع قواعد النظافة. ٤ - سوهاج.

٤ ١ - سور مجرى العيون. ٢ - الجيزة.

٣ - برج العرب الدولي.

٥ ١ - لأنها تتميز بتعدد الآثار والمباني التاريخية التي تعبر عن

تاريخها الطويل بصفتها عاصمة سياسية وثقافية وتجارية

ودينة عريقة.

٢ - تختار اليونسكو الأماكن الفريدة والمميزة وفقاً لمعايير

محددة لتكون ضمن قائمتها للتراث العالمي، وساهمت

في ترميم مدينة صنعاء القديمة، وإنقاذ معبدي أبو

سمبل ومعبد إيزيس من الغرق، وقد خصصت اليونسكو

يوماً عالمياً للاحتفال بالتراث.

إجابات امتحانات الإدارات

محافظة القاهرة - إدارة غرب مدينة نصر

١ ١ - خطأ. ٢ - صواب. ٣ - صواب.

٢ ١ - الأتصر. ٢ - الأمية. ٣ - الفسطاط.

٣ ١ - السفن. ٢ - البردي.

٣ ١ - لأنه هو الذي يسن القوانين في الدولة.

٢ - قلعة صلاح الدين بطابا لأنها غير مدرجة على قائمة التراث

العالمي لليونسكو.

١ - جنوب سيناء. ٢ - القاهرة.

٣ - الوادي الجديد.



5 محافظة البحيرة - إدارة بندر دمنهور التعليمية

- 1 - خطأ. 2 - خطأ. 3 - صواب.
 4 - صواب. 5 - صواب.
 2 - الروماني. 3 - الإسكندرية.
 4 - البري. 5 - البردي.
 1 - إجابة استرشادية: عدم استخدام ضوء (فلاش) الكاميرا في تصوير القطع الأثرية.
 2 - عند نقل بضائع كبيرة الحجم وثقيلة الوزن.
 1 - مدينة شرم الشيخ. 2 - محافظة الجيزة.
 3 - الوادي الجديد.

6 محافظة الإسكندرية - إدارة المنزه التعليمية

- 1 - خطأ. 2 - أجب بنفسك. 3 - صواب.
 4 - صواب. 5 - صواب.
 1 - قلعة صلاح الدين. 2 - معبد إيزيس.
 3 - الروماني. 4 - واحة سيوة. 5 - السيارات.
 1 - لوجود أنواع متعددة من السياحة مثل السياحة الثقافية والسياحة الترفيهية والسياحة العلاجية وسياحة المؤتمرات والمهرجانات.
 2 - أجب بنفسك.
 1 - الغابة المتحجرة. 2 - وادي الحيتان.
 3 - شمال سيناء.

7 محافظة المنوفية - إدارة شبين الكوم التعليمية

- 1 - صواب. 2 - صواب. 3 - خطأ.
 4 - خطأ. 5 - خطأ.
 1 - اليونسكو. 2 - شرم الشيخ. 3 - القطارات.
 4 - ترك المقاعد لكبار السن. 5 - المصرية القديمة.
 1 - الدليل هو تشجيع مصر على ترشيد استهلاك الطاقة والمياه في المنشآت السياحية.
 2 - قامت الدولة بتحويل الكثير من السيارات لتعمل بالغاز الطبيعي بهدف خفض معدلات تلوث الهواء مما يساعد على حماية البيئة.
 1 - محافظة الجيزة. 2 - الإسكندرية.
 3 - جنوب سيناء.

8 محافظة الدقهلية - إدارة بروج التعليمية

- 1 - صواب. 2 - صواب. 3 - خطأ.
 4 - خطأ. 5 - خطأ.

2 - الإسكندرية. 3 - تنشيط التجارة.

3 - واحة سيوة. 4 - اليونسكو. 5 - السويس.

1 - إجابة استرشادية: أخبره بأن تصرفه غير صحيح وأنه يجب علينا عدم الكتابة على الآثار.

2 - مهام رئيس الجمهورية: مسئول عن أمن الوطن ورعاية مصالح الشعب، ويمثل مصر محلياً ودولياً، وتشارك معه الحكومة في وضع الخطة العامة للدولة، ويعين المحافظين.

مهام المحافظ: مسئول عن إدارة شئون المحافظة، وحفظ الأمن والنظام بها، ومتابعة جودة المرافق والخدمات العامة كالتهذيب والصحة والكهرباء والمياه النظيفة، كما يشرف على تنفيذ المشروعات التنموية في المحافظة، وتوفير فرص العمل لأبناء المحافظة.

1 - 2 2 - 3 3 - 2 4 - 1

9 محافظة دمياط - إدارة كفر سعد التعليمية

- 1 - صواب. 2 - صواب. 3 - خطأ.
 4 - خطأ. 5 - صواب.
 1 - الاجتماعية. 2 - حماية البلاد. 3 - شرم الشيخ.
 4 - الهكسوس. 5 - الغردقة.
 1 - حيث نستطيع من خلالها الحصول على المعلومات بسرعة.
 2 - الدليل أنها أقرت قائمتها للتراث العالمي وتضم العديد من المواقع حول العالم.
 1 - واحة سيوة. 2 - الفيوم. 3 - جنوب سيناء.

10 محافظة كفر الشيخ - إدارة مطوبس التعليمية

- 1 - صواب. 2 - صواب. 3 - خطأ.
 4 - صواب. 5 - خطأ.
 1 - البردي. 2 - السياحي. 3 - السفن.
 4 - المحافظة على المكان. 5 - الفسطاط.
 1 - حيث يتم الاحتفال بعيد حصاد التمور والزيتون والمعروف بعيد السياحة ويرتدي فيه السكان الملابس المحلية ويرددون الأغاني التراثية.
 2 - انتشار الجهل والخرافات.
 1 - محافظة جنوب سيناء. 2 - محافظة أسوان.
 3 - الإسكندرية.



١١ محافظة الشرقية : إدارة شاقوس التعليمية

١ - خطأ. ٢ - صواب. ٣ - خطأ.

٤ - خطأ. ٥ - خطأ.

٢ - عشر سنوات. ٢ - السلطة التشريعية.

٣ - الفسطاط. ٤ - النوبية. ٥ - الإسكندرية.

١ - بسبب صعوبة مظاهر سطحها وندره موارد المياه بها.

٢ - تعرض المناطق الأثرية للعديد من الأخطار مثل
تآكل التربة والفرق.

١ - واحة سيوة. ٢ - أسوان. ٣ - شمال سيناء.

١٢ محافظة الإسماعيلية : إدارة شمال الإسماعيلية التعليمية

١ - خطأ. ٢ - خطأ. ٣ - خطأ.

٤ - صواب. ٥ - خطأ.

١ - الإسكندرية. ٢ - البردي. ٣ - الرعي.

٤ - معدل الجريمة. ٥ - مجلس النواب.

١ - يفضل استخدام النقل المائي لنقل البضائع ثقيلة الوزن

وكبيرة الحجم.

٢ - بسبب كثرة الإنجاب.

١ - واحة سيوة. ٢ - أسوان. ٣ - شمال سيناء.

١٣ محافظة بورسعيد : إدارة شمال بورسعيد

١ - صواب. ٢ - صواب. ٣ - صواب.

٤ - خطأ. ٥ - صواب.

١ - جنوب سيناء. ٢ - الأمية.

٢ - محمية الغابة المتحجرة. ٤ - جنوب سيناء.

٥ - الطبول.

١ - لمعرفة مدى الالتزام بقواعد المرور ومن أجل الحفاظ

على أرواح الناس وتقليل الحوادث.

٢ - يفضل استخدام النقل الجوي لنقل البضائع سريعة التلف.

١ - أسوان. ٢ - الفيوم. ٣ - جنوب سيناء.

١٤ محافظة السويس : إدارة شمال السويس

١ - خطأ. ٢ - خطأ. ٣ - صواب.

٤ - خطأ. ٥ - صواب.

١ - النوبية. ٢ - السلطة التشريعية.

٢ - ترميم المناطق الأثرية. ٤ - الروماني.

٥ - السفن.

- ١ - كان يتم دفن الملك بها وكل الأشياء التي سوف يحتاج إليها
بعد البعث في حجرة داخل الهرم.
٢ - لأنه أسرع من الوسائل الأخرى وقتها.
١ - جنوب سيناء. ٢ - الجيزة. ٣ - أبو ميناء.

١٥ محافظة الفيوم : إدارة سنورس

١ - صواب. ٢ - خطأ. ٣ - صواب.

٤ - صواب. ٥ - صواب.

١ - معدل الجريمة. ٢ - الانتخاب.

٢ - محمية الغابة المتحجرة. ٤ - الإسكندرية.

٥ - بورسعيد.

١ - من أجل الحفاظ على أرواح الناس وتقليل الحوادث.

٢ - لأنه يقوم بسن القوانين في الدولة.

١ - شمال سيناء. ٢ - رأس محمد. ٣ - الفيوم.

١٦ محافظة بني سويف : إدارة بني سويف التعليمية

١ - صواب. ٢ - خطأ. ٣ - خطأ.

٤ - خطأ. ٥ - خطأ.

١ - الاجتماعية. ٢ - السياحي. ٣ - اليونسكو.

٤ - الإسكندرية. ٥ - جنوب سيناء.

١ - لحماية الطرق البرية والبحرية بين مصر وجيرانها -

تأمين السواحل المضربة من الأعداء.

٢ - لأن السياحة تسهم في دعم الاقتصاد المصري حيث:

• توفر فرص عمل للشباب.

• تسهم بنحو ١٢٪ من إجمالي الدخل القومي.

• تعد المصدر الأول للعملة الأجنبية.

١ - جنوب سيناء. ٢ - القاهرة التاريخية. ٣ - أبو ميناء.

١٧ محافظة المنيا : إدارة أبو قرقاص التعليمية

١ - صواب. ٢ - خطأ. ٣ - خطأ.

٤ - صواب. ٥ - صواب.

١ - وادي الحيطان. ٢ - عمر بن الخطاب. ٣ - السياحي.

٤ - السفن. ٥ - دمياط.

١ - أجب بنفسك.

٢ - استخدم الإنسان الكتابة في تسجيل الأحداث

والأخبار وأهم الإنجازات.

١ - واحة سيوة. ٢ - أسوان. ٣ - شمال سيناء.



اختبارات سلاح التلميذ العام على المنهج

٢٠

صواب خطأ

الاختبار الأول


اكمل العبارات الآتية بما يناسبها من كلمات:

- ١- يعد الجهاز المركزي للتعبئة العامة والإحصاء هو المسئول عن إجراء
- ٢- تم تخصيص يوم عالمي للتوعية بحماية التراث الوطني برعاية منظمة
- ٣- استخدم المصري القديم في حمل الأشياء والتنقل قبل معرفة العربات.
- ٤- يشتهر سكان مدن القناة بالعزف على آلة

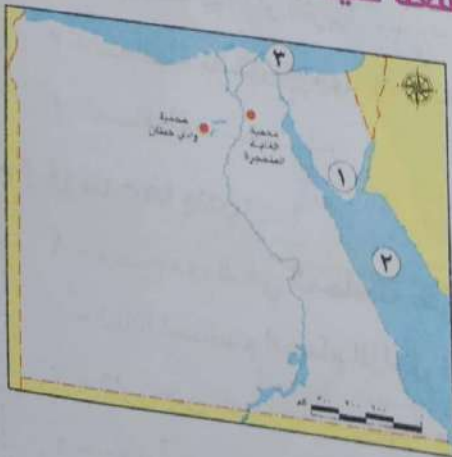
اكتب كلمة (صواب) أمام العبارة الصحيحة، وكلمة (خطأ) أمام العبارة غير الصحيحة:

- ١- قامت منظمة اليونسكو بإنقاذ معبد أبو سمبل من الغرق بعد بناء السد العالي. ()
- ٢- تزداد مشكلتنا الأمية والبطالة في الحضر عن الريف. ()
- ٣- تساهم السياحة بنحو ١٢٪ من إجمالي الصادرات السلعية. ()
- ٤- يلتزم مجلس النواب بالقوانين التي تضعها الحكومة. ()

اختر الإجابة الصحيحة مما بين القوسين:

- ١- تعيين المحافظين من مهام (رئيس الجمهورية - رئيس الوزراء - الوزير - القاضي)
- ٢- يقع المعلم الأثري الموضح في الصورة داخل محافظة

- ٣- من أهم موانئ البحر المتوسط ميناء (الغردقة - سفاجا - القصير - الإسكندرية)
- ٤- تسعى الدولة إلى تقليل عدد الاطفال في الأسرة الواحدة عن طريق (بناء المدارس - تنظيم الأسرة - الزواج المبكر - تأخير سن الزواج)

أمامك خريطة صماء لمصر، اكتب مدلول الأرقام الموقعة عليها:



- ١- يعبر الرمز الموجود بالخريطة عن مناطق التراث
- ٢- يشير رقم (١) إلى محافظة يعمل سكانها بالرعي
- ٣- يشير رقم (٢) إلى البحر
- ٤- يشير رقم (٣) إلى محافظة تشتهر برقصة البمبوتية

أجب عما يلي:

- ١- وضح أهمية تنوع التراث الثقافي بالنسبة للاقتصاد المصري.
- ٢- حدد أحد جهود الدولة في مواجهة مشكلة الأمية.
- ٣- ماذا يحدث إذا لم تضع الدولة قوانين لحماية الآثار؟
- ٤- ما النتيجة المترتبة على اهتمام الدولة بتنظيم حركة المرور؟

١ أكمل العبارات الآتية بما يناسبها من كلمات:

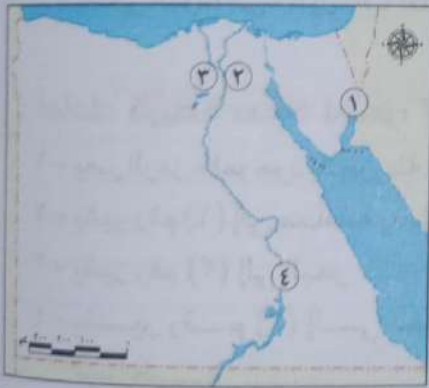
- ١ - تقام سباقات الهجن في
- ٢ - يعد مسجد أحمد بن طولون في القاهرة من التراث
- ٣ - اتخذ المصريون العربات الحربية من
- ٤ - من أهم الفنون الشعبية في محافظتي

٢ اكتب كلمة (صواب) أمام العبارة الصحيحة، وكلمة (خطأ) أمام العبارة غير الصحيحة:

- ١ - يربط مترو الأنفاق بين ثلاث مدن مصرية. ()
- ٢ - تنتشر لعبة التحطيب بين سكان الوجه البحري. ()
- ٣ - يرجع تمثال أبو الهول لعصر الملك خوفو. ()
- ٤ - يعد معبد أبو سمبل من المناطق التراثية المهددة بخطر تآكل التربة. ()

٣ اختر الإجابة الصحيحة مما بين القوسين:

- ١ - يجب منع جلوس في المقاعد الأمامية للسيارة.
(الأطفال - كبار السن - الشيوخ - الشباب)
- ٢ - معلم سياحي مصري صممه نعيم شبيب على شكل زهرة اللوتس
(أبو الهول - برج القاهرة - برج إيفل - حصن بابلون)
- ٣ - اخترع المصريون القدماء الكتابة
(الهيروغليفية - العربية - اليونانية - البابلية)
- ٤ - بنى المصريون القدماء لتكون مقابر لهم. (المعابد - الأهرامات - الحصون - القلاع)



٤ أمامك خريطة صماء لمصر لاحظها، ثم أجب:

- ١ - مدينة
- ٢ - محافظة بها دار الأوبرا
- ٣ - محافظة تشتهر بوجود الأهرامات الثلاثة
- ٤ - محافظة

٥ أجب عما يلي:

- ١ - وضح دورك في المحافظة على آثار بلدك .
- ٢ - لماذا استخدم الحمام الزاجل في إرسال الرسائل في العصور التاريخية؟
- ٣ - قارن بين السياحة الترفيهية وسياحة المؤتمرات.
- ٤ - حدد أحد مميزات النقل الجوي.

أكمل العبارات الآتية بما يناسبها من كلمات:

- ١ - تم تقدير عدد الأفراد الصالحين للتجنيد لأول مرة في عهد الملك
- ٢ - تشتهر محافظتي بـ كأحد الفنون الشعبية بها.
- ٣ - عرفت مصر النقل باستخدام بعد دخول الهكسوس إلى مصر.
- ٤ - الحرفة الرئيسية لسكان الصحاري هي

اكتب كلمة (صواب) أمام العبارة الصحيحة، وكلمة (خطأ) أمام العبارة غير الصحيحة:

- ١ - يرجع تاريخ محمية وادي الحيتان إلى فترة الحكم الروماني لمصر. ()
- ٢ - يعد الطريق الدائري من الطرق التي اهتمت الدولة بتطويرها. ()
- ٣ - تنوع البيئات المصرية أدى إلى تنوع التراث الثقافي. ()
- ٤ - شُيدت الكنيسة المعلقة على أنقاض حصن بابلليون. ()

اختر الإجابة الصحيحة مما بين القوسين:

- ١ - تشير العلامة المرورية **H** إلى وجود
- (مصنع - مستشفى - مدرسة - مسجد)
- ٢ - يعد دير سانت كاترين من أهم المعالم السياحية في محافظة
- (جنوب سيناء - الجيزة - البحر الأحمر - الإسكندرية)
- ٣ - قام المصريون القدماء بالكتابة على أوراق مصنوعة من
- (البردي - الجلد - القماش - الصوف)
- ٤ - مدينة اعتبرتها اليونسكو أفضل مدينة للسلام
- (بني سويف - الغردقة - شرم الشيخ - الجيزة)



أمامك خريطة صماء لمصر، لاحظها جيدا، ثم أجب:

- ١ - منطقة تشتهر بفن التحطيب، رقم (.....)
- ٢ - أكثر المحافظات سكاناً، رقم (.....)
- ٣ - المنطقة التي يوجد بها متحف النوبة، رقم (.....)
- ٤ - محافظة يوجد بها حمام كليوباترا، رقم (.....)

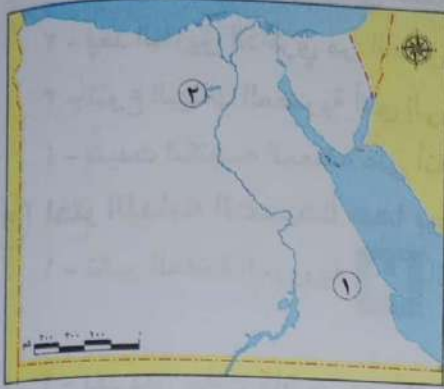
أجب عما يلي:

- ١ - وضح كيف يمكنك الحفاظ على محمية وادي الريان عند زيارتك لها.
- ٢ - ما النتيجة المترتبة على التطور العلمي الإيجابي بالنسبة لحياة أصحاب الهمم؟
- ٣ - قارن بين السياحة الثقافية والسياحة العلاجية.
- ٤ - حدد أحد جهود الدولة لتنمية السياحة في مصر.

١ - أكمل العبارات الآتية بما يناسبها من كلمات:

- ١ - تؤدي هجرة سكان الريف للمناطق الحضرية إلى ظهور
- ٢ - تعد محمية وادي الريان من مناطق التراث الطبيعي في محافظة
- ٣ - تعتبر مصر أول دولة إفريقية أنشئت
- ٤ - أنشئ متحف السيرة الهلالية في محافظة

٢ - اكتب كلمة (صواب) أمام العبارة الصحيحة، وكلمة (خطأ) أمام العبارة غير الصحيحة:



- ١ - يشير رقم (١) في الخريطة المقابلة لأقل محافظات مصر سكاناً ()
- ٢ - يشير رقم (٢) على الخريطة المقابلة لإحدى مناطق التراث الطبيعي. ()
- ٣ - يوافق عيد السياحة عيد حصاد التمور والزيتون في واحة سيوة. ()
- ٤ - يستخدم النقل المائي في نقل البضائع خفيفة الوزن. ()

٣ - اختر الإجابة الصحيحة مما بين القوسين:



- ١ - تعد جامعة أول جامعة في التاريخ. (بوتو - منف - أون - نخب)
- ٢ - المعلم السياحي المصري الذي يشبه الصورة المقابلة هو (برج القاهرة - حصن بابلون - الكنيسة المعلقة - أبو الهول)
- ٣ - إذا أردت الوصول إلى مطعم على الطريق فسوف تبحث عن علامة



- ٤ - تمثل المحاكم المتنوعة السلطة (القضائية - التنفيذية - التشريعية - الخارجية)

٤ - صوب ما تحته خط:

- ١ - يتولى رئيس الجمهورية رئاسة الحكومة في مصر حالياً.
- ٢ - من الأماكن المميزة التي يمكن زيارتها في واحة سيوة قلعة قايتبائي.
- ٣ - يتم مكافحة الجرائم الإلكترونية من خلال وزارة التربية والتعليم.
- ٤ - يستخدم النقل الجوي في نقل البضائع الكبيرة والثقيلة.

٥ - أجب عما يلي:

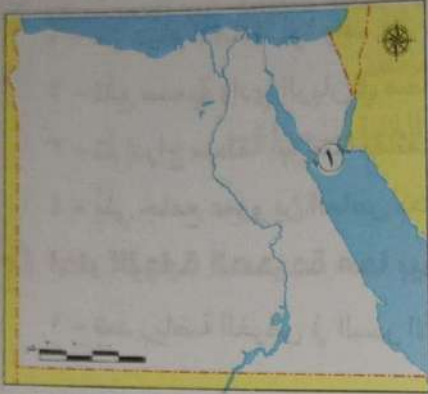
- ١ - حدد نتيجة واحدة مترتبة على إطلاق الدولة مبادرة حياة كريمة في الريف المصري.
- ٢ - دلل على تأثير العلم في تطور وسائل النقل البري.
- ٣ - ما العلاقة بين المحافظ والمجلس المحلي للمحافظة؟
- ٤ - ما سبب قيام الدولة بتطوير منطقة الأهرامات؟



أكمل العبارات الآتية بما يناسبها من كلمات:

- ١ - انتشار الأمية والبطالة يؤدي إلى انتشار مشكلة
- ٢ - شيد صلاح الدين قلعته التي تعد منطقة تراث ثقافي في جنوب سيناء على جزيرة
- ٣ - تعد شركة من أشهر شركات النقل الجوي في مصر وتأسست عام ١٩٣٢م.
- ٤ - أحد أشهر مظاهر الفنون الشعبية في منطقة القناة رقصة

اكتب كلمة (صواب) أمام العبارة الصحيحة، وكلمة (خطأ) أمام العبارة غير الصحيحة:



- ١ - تم إجراء تعداد سكاني استمر لمدة ٦ أشهر في العهد الإسلامي ()
- ٢ - تناول الطوعام أثناء قيادة السيارة تصرف مرفوض. ()
- ٣ - يشير رقم (١) على الخريطة إلى محمية وادي الحيطان. ()
- ٤ - تعتبر قطارات نقل البضائع من وسائل النقل البحري. ()

اختر الإجابة الصحيحة مما بين القوسين:

- ١ - تؤثر على الفرد والمجتمع تأثيراً سلبياً. (التنمية - الأمية - الزراعة - الصناعة)
- ٢ - يرجع حصن بابلليون إلى العصر (الروماني - القبطي - الفرعوني - الإسلامي)
- ٣ - إذا أردت الوصول إلى مستشفى على الطريق فعليك البحث عن علامة (H - H - H - H)
- ٤ - يمثل مجلس النواب السلطة (القضائية - التنفيذية - التشريعية - الوطنية)

موب ما تحته خط:

- ١ - المسئول عن مساعدة الملك في إدارة شؤون البلاد قديماً هو الكاتب.
- ٢ - زيارة معرض الكتاب يعتبر سياحة ترفيهية.
- ٣ - تم مد أول خط للهاتف بين القاهرة والجيزة.
- ٤ - يهدف مشروع تطوير مدينة الإسكندرية التاريخية إلى الحفاظ على المنطقة والآثار بها.

أجب عما يلي:

- ١ - ما النتيجة المترتبة على اختلاف أنماط السكان في مصر؟
- ٢ - اشرح كيف أثرت وسائل النقل على حياة البشر.
- ٣ - فسر: سبب وجود حاكم لكل إقليم في مصر القديمة.
- ٤ - ماذا يحدث إذا لم تقم الدولة بصيانة المناطق الأثرية؟

١ أكمل العبارات الآتية بما يناسبها من كلمات:

- ١ - أكثر المحافظات سكاناً محافظة لأنها عاصمة البلاد.
- ٢ - تشتق لهجة سكان واحة سيوة من اللغة
- ٣ - تؤثر مشكلة البطالة على المجتمع المصري تأثيراً
- ٤ - حاكم البلاد في مصر القديمة كان يطلق عليه

٢ اكتب كلمة (صواب) أمام العبارة الصحيحة، وكلمة (خطأ) أمام العبارة غير الصحيحة:

- ١ - من مهام المحافظ الإشراف على كافة المشروعات القومية ()
- ٢ - تقع محمية وادي الريان في محافظة الإسكندرية. ()
- ٣ - تم إدراج منطقة أبو مينا بقائمة التراث العالمي لأنه يعبر عن الإبداع البشري. ()
- ٤ - بُني جامع عمرو بن العاص بعد الفتح الإسلامي لمصر. ()

٣ اختر الإجابة الصحيحة مما بين القوسين:

- ١ - تعد رياضة الغوص في البحر الأحمر من السياحة
(الترفيهية - المؤتمرات والمهرجانات - العلاجية - الثقافية)
- ٢ - عدم قدرة الفرد على تشغيل الأجهزة التكنولوجية تسمى
(الأمية الهجائية - الأمية المعلوماتية - البطالة - الفقر)
- ٣ - يعبر الرمز التالي عن أحد السلوكيات التي يجب اتباعها أثناء زيارة المواقع الأثرية وهي
(عدم لمس الآثار - عدم تناول الطعام - عدم التصوير - الالتزام بالقواعد)
- ٤ - تعد هذه العلامة من العلامات
(التحذيرية - الإرشادية - الإلزامية - الأرضية)

٤ أمامك خريطة صماء لمصر، اكتب مدلول الأرقام الموقعة عليها:



- ١ - ثاني محافظات مصر من حيث الأمية
- ٢ - محمية
- ٣ - منطقة تراث عالمي
- ٤ - محافظة توجد بها منطقة أبو مينا

٥ أجب عما يلي:

- ١ - فسر سبب اهتمام الدولة بإنشاء الكباري والمحاور في المناطق المختلفة في مصر.
- ٢ - حدد أحد التأثيرات الإيجابية للإنترنت على حياة الناس.
- ٣ - وضح جهود الدولة لمساعدة سكان الصحاري على الاستقرار.
- ٤ - قارن بين الفنون الشعبية في مدن القناة والصعيد.

أكمل العبارات الآتية بما يناسبها من كلمات:

- ١- أقل محافظات مصر سكانًا محافظة
- ٢- يشتهر سكان الصعيد بالعزف على آلة
- ٣- أطلقت اليونسكو يوم ٨ سبتمبر احتفالًا باليوم العالمي الدولي لـ
- ٤- الوظيفة الحالية المقابلة لوظيفة حكام الأقاليم قديمًا

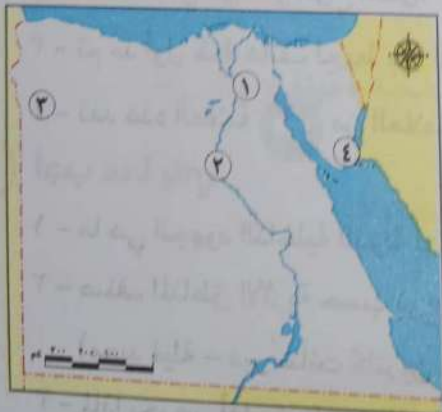
اكتب كلمة (صواب) أمام العبارة الصحيحة، وكلمة (خطأ) أمام العبارة غير الصحيحة:

- ١- من مهام رئيس الجمهورية متابعة إنشاء المدارس الجديدة في محافظتي. ()
- ٢- من أهم مناطق التراث الطبيعي في محافظة جنوب سيناء محمية الغابة المتحجرة. ()
- ٣- تضم محمية وادي الحيتان هياكل عظمية لحيتان من ملايين السنين. ()
- ٤- بنى الملك خفرع أبو الهول على شكل رأس إنسان وجسم أسد. ()

اختر الإجابة الصحيحة مما بين القوسين:

- ١- عدم قدرة الفرد على القراءة والكتابة تسمى
(الأمية الهجائية - الأمية المعلوماتية - البطالة - الفقر)
- ٢- يعبر الرمز التالي عن أحد السلوكيات التي يجب اتباعها أثناء زيارة المواقع الأثرية وهي
(عدم لمس الآثار - عدم تناول الطعام - عدم التصوير - الالتزام بالقواعد)
- ٢- يعتبر إحدى وسائل الاتصال في العصور التاريخية
(التليغراف - الإنترنت - الهاتف - الحمام الزاجل)
- ٤- يعني اللون الأصفر في إشارة المرور إلى استعداد السيارة لـ
(التوقف - الحركة - الصيانة - التفتيش)

أمامك خريطة صماء لمصر، اكتب مدلول الأرقام الموقعة عليها:



- ١- إحدى محافظات الحضر
- ٢- أعلى محافظات مصر من حيث الأمية
- ٢- واحة
- ٤- مدينة

أجب عما يلي:

- ١- اشرح أحد التأثيرات السلبية للإنترنت على حياة الناس.
- ٢- قارن بين احتفال المصريين بعيد شم النسيم قديمًا وحديثًا.
- ٣- وضح جهود الدولة لحل مشكلات سكان الريف المصري.
- ٤- حدد أحد عيوب النقل الجوي.

١ اكمل العبارات الآتية بما يناسبها من كلمات:

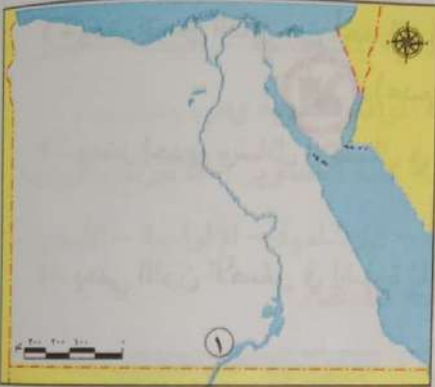
- ١ - اختلاف السكان في مصر يساعد على تحقيق بين السكان.
- ٢ - أحد أشهر المعالم السياحية في محافظتي
- ٣ - ترتفع نسبة الأمية بين الإناث عن
- ٤ - تعد المحاكم جزءاً من السلطة

٢ اكتب كلمة (صواب) أمام العبارة الصحيحة، وكلمة (خطأ) أمام العبارة غير الصحيحة:


- ١ - كل مواطن مسئول عن تحسين محافظته وتطويرها. ()
- ٢ - شيد صلاح الدين قلعته بجنوب سيناء على جزيرة شدوان. ()
- ٣ - تعد القاهرة التاريخية عاصمة سياسية وثقافية مهمة. ()
- ٤ - تعد مصر أول دولة عربية وإفريقية تقيم مترو الأنفاق. ()

٣ اختر الإجابة الصحيحة مما بين القوسين:

- ١ - من المدن الشاطئية الموجودة على البحر الأحمر مدينة
(العلمين - الإسكندرية - الغردقة - بورسعيد)
- ٢ - أشهر المراكب في مصر القديمة هو مركب الملك
(سنفرو - خوفو - خفرع - منكاورع)
- ٣ - يضم مجمع الأديان مجموعة آثار مهمة منها
(معبد الكرنك - المعبد اليهودي - دير سانت كاترين - مسجد محمد علي)
- ٤ - يشير رقم ١ في الخريطة إلى منطقة
(سور مجرى العيون - أبو مينا - معبد أبو سمبل - السد العالي)



٤ صوب ما تحته خط:

- ١ - نجح الأخوان رحباني في اختراع أول طائرة في التاريخ.
- ٢ - النقل المائي هو أغلى أنواع النقل.
- ٣ - تم مد أول خط هاتف ليربط بين القاهرة والإسماعيلية.
- ٤ - تعد هذه العلامة  من العلامات الضوئية.

٥ أجب عما يلي:

- ١ - ما هي الجهود الداخلية للدولة لدعم النقل المستدام؟
- ٢ - صنف المناطق الأثرية حسب نوع السياحة:
(معبد فيلة - دير سانت كاترين - نهر النيل)
- ٣ - لماذا يحرص أهل سيناء على إقامة سباقات الهجن؟
- ٤ - ما العلاقة بين سكان الريف والعشوائيات؟

٢٠

أكمل العبارات الآتية بما يناسبها من كلمات:

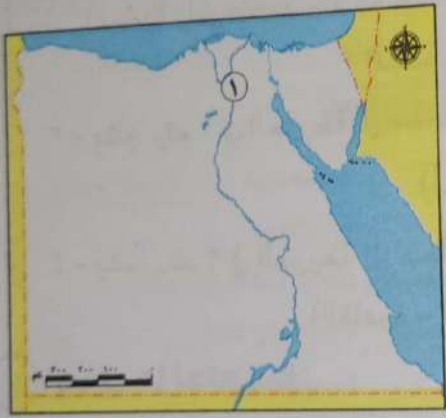
- ١ - يقلل تنظيم الأسرة من وفيات الأطفال
- ٢ - قامت الدولة بإنشاء متحف في محافظة قنا للحفاظ على التراث المصري.
- ٣ - تعد محافظة ثالث محافظات مصر من حيث الأمية.
- ٤ - سن القوانين بالدولة من مهام السلطة

اكتب كلمة (صواب) أمام العبارة الصحيحة، وكلمة (خطأ) أمام العبارة غير الصحيحة:

- ١ - متابعة تنفيذ خطط التنمية من واجبات المجلس المحلي.
 - ٢ - تعيش الفهود في محمية وادي الريان.
 - ٣ - تم إدارج دير سانت كاترين على قائمة التراث العالمي لليونسكو.
 - ٤ - بنى المصريون القدماء الأهرامات شرق النيل لتكون بعيدة عن الفيضان.
- ()
()
()
()

اختر الإجابة الصحيحة مما بين القوسين:

- ١ - يذهب العديد من المرضى للعلاج بالمياه الكبريتية في منطقة بسيناء.
(واحة سيوة - واحة الخارجة - حمام كليوباترا - عيون موسى)
- ٢ - شاركت مصر في مؤتمر النقل المستدام الذي عقد في عاصمة الصين.
(برلين - بكين - برشلونة - باريس)



- ٣ - تعد هذه العلامة من العلامات
(التحذيرية - الإرشادية - الضوئية - الأرضية)
- ٤ - يشير رقم ١ في الخريطة إلى محمية
(رأس محمد - وادي الحيتان - الغابة المتحجرة - وادي دجلة)

هوب ما تحته خط:

- ١ - أرسلت حثشبسوت رحلات تجارية إلى بلاد بونت بواسطة السفن والطائرات.
- ٢ - يستهدف القطار الكهربائي السريع الربط بين مدينة العين السخنة بمدينة الإسكندرية.
- ٣ - أول محاولة طيران صحيحة تنسب إلى عباس بن فرناس.
- ٤ - أصبح التواصل أسهل وأسرع في العصر الحديث بعد اختراع التلغراف.

أجب عما يلي:

- ١ - ما أسباب اهتمام الدولة بتطوير الموانئ البحرية؟
- ٢ - وضح أحد مشروعات الدولة في تطوير الأماكن الأثرية.
- ٣ - فسر سبب تسمية عيد الحصاد بسيوة بعيد السياحة.
- ٤ - حدد أحد إيجابيات تنظيم الأسرة.

١ أكمل العبارات الآتية بما يناسبها من كلمات:

- ١ - تظهر العشوائيات في محافظات نتيجة الهجرة إليها.
- ٢ - يتحدث أهل سيناء اللهجة التي تميل إلى اللغة العربية الفصحى.
- ٣ - أنشأت الدولة العديد من المدارس للاستيعاب الكامل ومواجهة التسرب لحل مشكلة
- ٤ - يتولى رئيس الجمهورية الرئاسة عن طريق

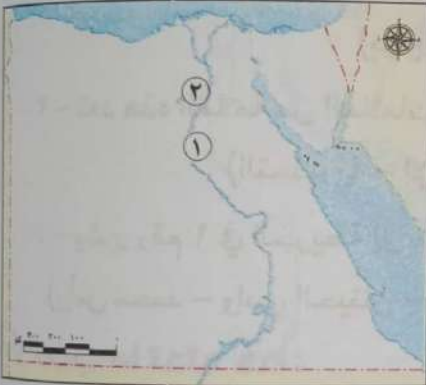
٢ اكتب كلمة (صواب) أمام العبارة الصحيحة، وكلمة (خطأ) أمام العبارة غير الصحيحة:

- ١ - يمكن لسكان محافظة الإسكندرية الترشح للمجلس المحلي بمحافظة الجيزة. ()
- ٢ - يهدف سور مجرى العيون توصيل مياه النيل إلى قلعة صلاح الدين بطابا. ()
- ٣ - يرجع تاريخ منطقة أبو مينا إلى فترة الحكم الفرعوني في مصر. ()
- ٤ - الحضارة المصرية القديمة هي أولى الحضارات التي ظهرت على أرض مصر. ()

٣ اختر الإجابة الصحيحة مما بين القوسين:


- ١ - انتقال الأشخاص من محل إقامتهم إلى أماكن أخرى بهدف التنزه والترفيه يسمى
(السياحة - التجارة - الزراعة - الصناعة)

- ٢ - إحدى المناطق المصرية المسجلة على خريطة التراث العالمي



- ٢ - إحدى المناطق المصرية المسجلة على خريطة التراث العالمي
(محمية رأس محمد - قلعة صلاح الدين بطابا - محمية الغابة المتحجرة - مدينة القاهرة التاريخية)
- ٣ - يشير رقم ١ في الخريطة إلى محافظة بها أعلى نسبة أمية في مصر
(أسيوط - المنيا - قنا - سوهاج)
- ٤ - يشير رقم ٢ في الخريطة إلى محافظة
(القاهرة - الجيزة - الإسكندرية - الفيوم)

٤ صوب ما تحته خط:

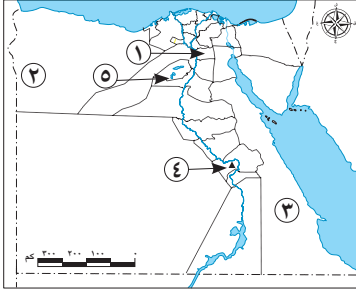
- ١ - دخلت أول سيارة تعمل بالطاقة الشمسية مصر في عهد الخديو توفيق.
- ٢ - يجب إغلاق الطريق أمام سيارة الإسعاف.
- ٣ - تعد هذه العلامة  من العلامات الإلزامية.
- ٤ - من إسهامات اليونسكو في الحفاظ على التراث العالمي ترميم مدينة بيروت في اليمن.

٥ أجب عما يلي:

- ١ - ما أسباب اهتمام الدولة بالنقل المستدام؟
- ٢ - حدد أحد السلوكيات التي عليك اتباعها عند زيارة المواقع الأثرية.
- ٣ - دلل على صحة العبارة: "اللغة النوبية لها دور عظيم في انتصارات أكتوبر ١٩٧٣م".
- ٤ - ما النتيجة المترتبة على ظاهرة الزواج المبكر بين سكان الريف؟

٣٠

الاختبار الأول



أ لاحظ الخريطة، ثم أجب:

- ١ - يشير السهم إلى محافظة بها أعلى كثافة سكانية.....
- ٢ - واحة.....
- ٣ - يشير السهم إلى أقل محافظات مصر في نسبة الأمية.....
- ٤ - اختر: يشير رقم (٤) إلى.....

(معبد الكرنك - متحف السيرة الهلالية - متحف النوبة - دير سانت كاترين)
٥ - صوب: يشير رقم (٥) إلى محمية رأس محمد.

ب دلل: تُعد محمية وادي الحيتان منطقة تراث عالمي.

أ أكمل العبارات التالية مستعينًا ببنك الكلمات:

(الروماني - اليونسكو - علاجية - الشيوخ - المؤتمرات والمهرجانات)

- ١ - تتمثل السلطة التشريعية في مجلسي النواب و.....
- ٢ - بُني حصن بابلليون في العصر.....
- ٣ - حضور مؤتمر الشباب العالمي في شرم الشيخ يُعد من سياحة.....
- ٤ - تُعرف منظمة الأمم المتحدة للتربية والعلوم والثقافة باسم منظمة.....

ب أثناء زيارتك إلى «المتحف القومي للحضارة المصرية» **وضح كيف يمكن**

الحفاظ على هذا المكان. (يكتفى بأربعة)

أ اكتب كلمة (صواب) أمام العبارة الصحيحة، وكلمة (خطأ) أمام

العبارة غير الصحيحة:

- ١ - تسعى الدولة لتحويل منطقة الأهرامات إلى متحف مفتوح. ()
- ٢ - تُعتبر محافظتي من المحافظات الريفية. ()
- ٣ - يُمثل رئيس الجمهورية مصر في المؤتمرات الدولية والمحلية. ()

- ٤ - استخدم الجيش المصري اللغة الأمازيغية أثناء حرب أكتوبر ١٩٧٣ م. ()
 ٥ - تنخفض نسبة الأمية بين سكان الريف عن سكان الحضر. ()

ب) صنف الآتي إلى تراث طبيعي وتراث ثقافي:

(معبد أبو سمبل الكبير - محمية الصحراء البيضاء - قلعة قايتباي - محمية رأس محمد)

تراث ثقافي	تراث طبيعي

أ) اختر الإجابة الصحيحة مما بين القوسين:

- ١ - الملك الذي أمر بنحت تمثال أبو الهول هو
 (خوفو - خفرع - سنفرو - منكاورع)
 ٢ - إذا أردت رؤية الأشجار المتحجرة على شكل قطع صخرية
 فيمكنك زيارة حي
 (مصر القديمة - المعادي - الزاوية الحمراء - القلعة)
 ٣ - إحدى المحافظات الحضرية
 (بني سويف - أسيوط - المنيا - بورسعيد)
 ٤ - يتم حصر عدد السكان لتحديد الخدمات من خلال
 (التعداد السكاني - التراث الثقافي - الأمية الهجائية - الساعة السكانية)
 ٥ - النشاط الذي يمثل المصدر الأول للعملات الأجنبية في مصر
 (الزراعة - الرعي - الصناعة - السياحة)



آلة السمسمية

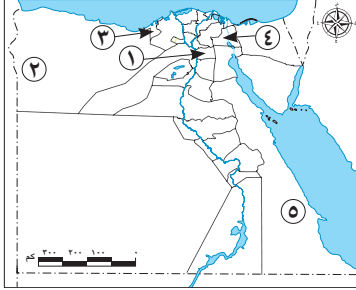
ب) لاحظ الصورة ثم أجب:

- ١ - ينتشر استخدام هذه الآلة في مدن
 ٢ - حدد: أحد المهرجانات الشهيرة في هذه المدن.
 ٣ - يشتهر سكان هذه المدن برقصة



الاختبار الثاني

أ لاحظ الخريطة، ثم أجب:



- ١ - يشير السهم إلى محافظة يزيد
عدد سكانها عن ٨ ملايين نسمة
- ٢ - واحة
- ٣ - يشير السهم لمحافظة حضرية
- ٤ - حدد أحد الفنون الشعبية المنتشرة في
المحافظة رقم (٤).
- ٥ - صواب أم خطأ:

يشير رقم (٥) إلى أكثر محافظات مصر من حيث الأمية. ()

ب **فسر:** تُعد محافظة جنوب سيناء أقل محافظات مصر سكاناً.

أ اكتب كلمة (صواب) أمام العبارة الصحيحة، وكلمة (خطأ) أمام

العبارة غير الصحيحة:

- ١ - يقيم معظم السكان الذين يعملون بالزراعة في الريف. ()
- ٢ - استخدم الجيش المصري اللغة المصرية القديمة كشفرة في
حرب أكتوبر ١٩٧٣ م. ()
- ٣ - تُعتبر الأمية مشكلة اقتصادية تواجه المجتمع المصري. ()
- ٤ - وجود أعضاء يمثلون الشباب والمرأة في المجالس النيابية يساعد
على تقدم المجتمع المصري. ()
- ٥ - زيارة السائحين لمعبد الأقصر تُعد زيارة لمنطقة تراث طبيعي. ()
- ٦ - ساهمت منظمة اليونسكو في إنقاذ معبد إيزيس بجزيرة فيلة. ()

ب **وضح:** أهمية الأهرامات عند المصريين القدماء.

أ أكمل العبارات التالية مستعيناً ببنك الكلمات:

- (السفن - خدمات - المعادي - الملك - مجلس النواب - السيارات)
- ١ - تقع محمية الغابة المتحجرة في شرق حي

- ٢ - أعلى منصب لدى المصريين القدماء هو
- ٣ - يساعد التعداد السكاني في تحديد ما يحتاجه السكان من
- ٤ - الجهة المسؤولة عن سن القوانين في الدولة هي
- ٥ - أرسل الملك سنفرو رحلاته التجارية إلى بلاد فينيقيا باستخدام
- ب** **قارن بين:** التراث الطبيعي والتراث الثقافي من حيث المفهوم.

أ اختر الإجابة الصحيحة مما بين القوسين:

- ١ - المصدر الأول للعملات الأجنبية في مصر يتمثل في نشاط
- (الزراعة - الرعي - الصناعة - السياحة)
- ٢ - تبذل الدولة جهودًا كبيرة للحفاظ على المناطق الأثرية منها
- (منع زيارة الآثار - ترميم المناطق الأثرية - إهمال المناطق الأثرية - تشجيع تجارة الآثار)
- ٣ - المسئول عن رعاية مصالح الشعب والحفاظ على أمن الوطن هو
- (رئيس الوزراء - المحافظ - الوزير - رئيس الجمهورية)
- ٤ - منطقة تسعى الدولة لتحويلها لمتحف مفتوح هي
- (الغورية - الأهرامات - السيدة عائشة - السيدة زينب)
- ٥ - رحلات السفاري في الصحاري المصرية تُعد سياحة
- (علاجية - ثقافية - ترفيهية - مؤتمرات)

ب **صنف الأماكن السياحية والأثرية الآتية في الجدول التالي حسب موقعها الجغرافي:**

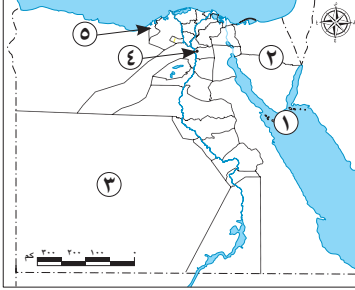
(شرم الشيخ - الأزهر الشريف - أبو الهول - المتحف القومي للحضارة المصرية - الأهرامات الثلاثة - دير سانت كاترين)

الجيزة	جنوب سيناء	القاهرة
.....
.....



الاختبار الثالث

أ لاحظ الخريطة، ثم أجب:



- ١ - منطقة تراث طبيعي
- ٢ - شبه جزيرة
- ٣ - محافظة يقل عدد السكان فيها عن مليون نسمة
- ٤ - صوب ما تحته خط: يشير رقم (٤) إلى محمية وادي الريان.

٥ - اختر: يشير رقم (٥) لمنطقة

(الدلتا - القاهرة التاريخية - سانت كاترين - أبو مينا)

ب ما النتائج المترتبة على: تنوع أنماط السكان في مصر؟

أ اكتب كلمة (صواب) أمام العبارة الصحيحة، وكلمة (خطأ) أمام العبارة غير الصحيحة:

- ١ - تتشابه لهجات السكان في جميع البيئات المصرية. ()
- ٢ - الأمية الهجائية تعني عدم معرفة القراءة والكتابة. ()
- ٣ - يختار رئيس الجمهورية نصف أعضاء مجلس النواب. ()
- ٤ - يُعد سور مجرى العيون من مظاهر التراث الطبيعي في مصر. ()
- ٥ - منطقة القاهرة التاريخية من أهم وأكبر المدن التراثية في العالم. ()
- ٦ - تم نحت تمثال أبو الهول برأس إنسان وجسم أسد. ()

ب وضح: اثنين من الجهود التي بذلتها الدولة لتنمية السياحة في مصر.

أ اختر الإجابة الصحيحة مما بين القوسين:

- ١ - إذا رغب أحد أصدقائك في القيام بسياحة علاجية في مصر فإنك تنصحه بزيارة
- (مكتبة الإسكندرية - واحة سيوة - المتحف المصري - خان الخليلي)

- ٢ - عند زيارتك لإحدى المناطق الأثرية عليك الالتزام بـ
- (لمس القطع الأثرية - التقاط الصور للآثار - حسن معاملة السياح - كتابة عبارات تذكارية)
- ٣ - تُعرف منظمة الأمم المتحدة للتربية والعلوم الثقافية باسم منظمة
- (الفاو - الأوبك - اليونسكو - اليونسيف)
- ٤ - يتم إجراء التعداد السكاني في مصر كل عشر سنوات عن طريق
- (وزارة الصحة والسكان - الجهاز المركزي للتعبئة العامة والإحصاء - الجهاز المركزي للرقابة الإدارية - الجهاز المركزي للمحاسبات)
- ٥ - يربط مترو الأنفاق بين ثلاث مدن مصرية هي القاهرة وشبرا الخيمة و
- (القليوبية - الجيزة - البحيرة - الشرقية)

ب ما العلاقة بين: قائمة التراث العالمي لليونسكو والمواقع الأثرية في مصر؟

أ أكمل العبارات التالية مستعينًا ببنك الكلمات:

- (أون - الريف - طبيعي - الحضر - الحكومة - المصرية القديمة - الثقافي)
- ١ - يُعد معبد أبو سمبل الكبير من مناطق التراث
- ٢ - يُعد التراث النوبي في محافظة أسوان امتدادًا للحضارة
- ٣ - أول جامعة في التاريخ بمصر القديمة جامعة
- ٤ - الإشراف على تنفيذ الخطة العامة للدولة من مهام
- ٥ - زيارة السائحين لمحمية الصحراء البيضاء تُعد زيارة لمنطقة تراث
- ٦ - الأفراد الذين يعملون بالخدمات والصناعة والتجارة هم سكان



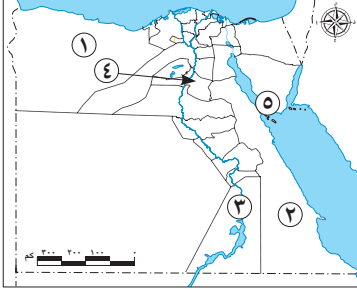
ب لاحظ الصورة، ثم أجب :

- ١ - أين يقع الأثر الموجود في الصورة المقابلة؟
- ٢ - ما سبب بناء هذا الأثر؟

٣٠

الاختبار الرابع

أ لاحظ الخريطة، ثم أجب:



- ١ - يشير الرقم (١) إلى محافظة يقل عدد سكانها عن مليون نسمة
- ٢ - صواب أم خطأ:
يشير الرقم (٢) لمحافظة بها دير سانت كاترين. ()
- ٣ - اختر: يشير رقم (٣) لمحافظة بها
(متحف النوبة - متحف السيرة الهلالية - معبد الكرنك - قلعة صلاح الدين)
- ٤ - صوب ما تحته خط:

يشير رقم (٤) إلى ثاني أعلى المحافظات المصرية ارتفاعاً من حيث نسبة الأمية وهي البحر الأحمر.

٥ - مدينة عُقد بها مؤتمر المناخ «COP 27»

ب حدد: اثنتين من السلوكيات الواجب اتباعها عند زيارتك للأماكن السياحية والمواقع الأثرية.

أ أكمل العبارات الآتية بما يناسبها من بنك كلمات:

(الفيوم - فيلة - البدو - الثقافية - اليونسكو - الملك - الحضر)

- ١ - حاكم البلاد في مصر القديمة كان يُطلق عليه
- ٢ - المنظمة التي خصصت يوماً عالمياً للتوعية بحماية التراث الوطني هي
- ٣ - بني معبد إيزيس على جزيرة
- ٤ - تقع المحمية الطبيعية الموضحة بالصورة المقابلة في محافظة
- ٥ - تُعد زيارتك لمكتبة الإسكندرية أحد أنواع السياحة
- ٦ - «يعيشون في الصحاري المصرية ويمارسون حرفة الرعي» تشير العبارة إلى



ب ما النتائج المترتبة على: تنوع أنماط السكان في مصر؟

٣

أ اكتب كلمة (صواب) أمام العبارة الصحيحة، وكلمة (خطأ) أمام

العبارة غير الصحيحة:

- ١ - الساعة السكانية هي «حصر عدد السكان لتحديد الخدمات التي يحتاجونها». ()
 - ٢ - يرجع حصن بابلليون إلى عصر الحكم البطلمي في مصر. ()
 - ٣ - تم إنقاذ معبدي «أبو سمبل الكبير والصغير» من الغرق بعد بناء السد العالي. ()
 - ٤ - يشمل مشروع تطويع مدينة القاهرة التاريخية كلاً من شارع المعز والغورية. ()
 - ٥ - تشترك المحاكم مع رئيس الجمهورية في وضع الخطة العامة للدولة. ()
- ب ١ - وضح أهمية الكتابة الهيروغليفية.
- ٢ - دلل: اللغة النوبية لها دور عظيم في حرب أكتوبر ١٩٧٣م.

٤

أ اختر الإجابة الصحيحة مما بين القوسين:

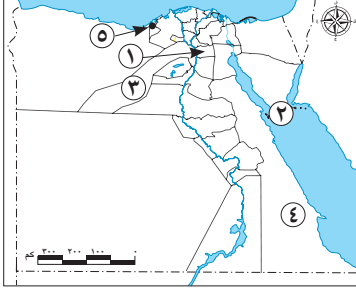
- ١ - شخص يجهل استخدام الإنترنت، فهو يعاني من الأمية
(الهجائية - المعلوماتية - الفنية - الصحية)
- ٢ - الحصر الشامل للسكان في مصر من مهام
(وزارة الصحة والسكان - الجهاز المركزي للتعبئة العامة والإحصاء - الجهاز المركزي للرقابة الإدارية - الجهاز المركزي للمحاسبات)
- ٣ - يوجد نقش يعبر عن فن التحطيب على جدران معبد
(الدير البحري - رأس السوداء - الكرنك - دندرة)
- ٤ - أشهر المراكب في مصر القديمة هي مركب
(خفرع - خوفو - حتشبسوت - سنفرو)
- ٥ - إحدى المناطق التاريخية التي تسعى الدولة لجعلها متحفاً مفتوحاً هي
(القاهرة التاريخية - الأهرامات - بولاق - السيدة زينب)
- ٦ - تسهم السياحة بنحو ١٢ ٪ من إجمالي
(الصادرات - الدخل القومي - الواردات - العملات الأجنبية)

ب قارن من حيث التعريف بين كل من: التراث الطبيعي والتراث الثقافي.



الاختبار الخامس

أ لاحظ الخريطة، ثم أجب:



- ١ - يشير الرقم (١) إلى عاصمة جمهورية مصر العربية
- ٢ - يشير الرقم (٢) إلى محمية طبيعية تتميز بانتشار الشعاب المرجانية
- ٣ - يشير رقم (٣) لمحافظة
- ٤ - محافظة
- ٥ - مدينة شاطئية على البحر المتوسط

ب حدد اثنين من: أهمية التراث الثقافي للاقتصاد المصري.

أ أكمل العبارات الآتية بما يناسبها من بنك الكلمات:

- (المطرية - الشيوخ - الهجن - فرعون - القاهرة - السمسمية - شدوان)
- ١ - شيدت قلعة صلاح الدين في جنوب سيناء على جزيرة
- ٢ - يشتهر أهل سيناء بإقامة سباقات
- ٣ - المجلس الذي يؤخذ برأيه في معاهدات الصلح هو مجلس
- ٤ - يشمل تطوير منطقة القاهرة التاريخية تطوير مسار العائلة المقدسة بحي
- ٥ - يتشابه سكان الإسماعيلية وبورسعيد في العزف على آلة
- ٦ - تقع محمية الغابة المتحجرة في محافظة

ب قارن بين مهام كل من:

(الملك قديماً - رئيس الجمهورية حديثاً)

أ اكتب كلمة (صواب) أمام العبارة الصحيحة، وكلمة (خطأ) أمام

العبارة غير الصحيحة:

- ١ - تُعد دار الأوبرا وخان الخليلي أحد أماكن السياحة العلاجية في مصر ()

- ٢ - تسعى الدولة لضبط متوسط عدد أفراد الأسرة في الريف المصري. ()
- ٣ - السلطة القضائية سلطة مستقلة تتولاها المحاكم المتنوعة. ()
- ٤ - عصور ما قبل التاريخ هي العصور التي بدأت بمعرفة الإنسان للكتابة. ()
- ٥ - البعث هو العودة إلى الحياة مرة أخرى بعد الموت. ()

ب) رتب الأماكن السياحية التالية من الأقدم إلى الأحدث حسب العصور التاريخية التي تنتمي إليها:

(برج القاهرة - معبد أبو سمبل الكبير - مسجد أحمد بن طولون - الكنيسة المعلقة)

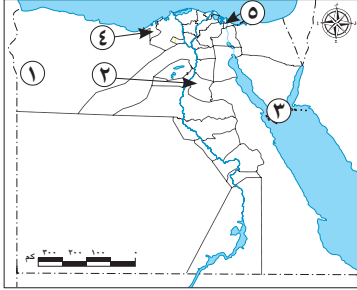
أ) اختر الإجابة الصحيحة مما بين القوسين:

- ١ - الملك الذي أمر بنحت تمثال أبو الهول
(خوفو - مينا - خفرع - منكاورع)
- ٢ - المدينة المصرية التي تم اختيارها كأفضل مدينة سلام في العالم
(مرسى مطروح - السويس - بورسعيد - شرم الشيخ)
- ٣ - الشخص الذي يتولى منصبه عن طريق الانتخابات العامة هو
(رئيس الوزراء - الوزير - رئيس الجمهورية - المحافظ)
- ٤ - تم تصميم برج القاهرة على شكل زهرة
(البردي - الياسمين - القرنفل - اللوتس)
- ٥ - محمية طبيعية تحتوي على حفريات وهياكل بحرية تعود إلى ٤٠ مليون سنة هي
(رأس محمد - الغابة المتحجرة - وادي الحيتان - جبل علبة)

ب) يتم اختيار المواقع على قائمة التراث العالمي لليونسكو وفق معايير محددة، اكتب ثلاثة معايير.

٣٠

الاختبار السادس



أ لاحظ الخريطة، ثم أجب:

- ١ - صواب أم خطأ:
يحتفل سكان المنطقة رقم (١) بعيد
حصاد التمور والزيتون. ()
- ٢ - يشير الرقم (٢) إلى محافظة تعاني
من ارتفاع نسبة الأمية.....
- ٣ - محمية.....
- ٤ - محافظة.....
- ٥ - محافظة حضرية.....

ب حدد اثنين من: جهود الدولة للحفاظ على المواقع الأثرية والأماكن السياحية.

أ أكمل مستعينا ببنك الكلمات:

- (الثقافي - الأزهر - الزيادة السكانية - فيلة - فرعون - شرم الشيخ - علاجية)
- ١ - المدينة التي اختارتها اليونسكو كأفضل مدينة سلام هي
- ٢ - إحدى المناطق بالقاهرة التاريخية التي تطورها الدولة هي منطقة
- ٣ - زيارتك لمنطقة عيون موسى تُعد سياحة
- ٤ - أحد أسباب انتشار مشكلة الأمية في مصر
- ٥ - يُعد سور مجرى العيون في القاهرة من التراث
- ٦ - يقع معبد إيزيس في جزيرة

ب فسر ما يلي:

- ١ - أهمية التعداد السكاني لمصر.
- ٢ - ضرورة الالتزام بقواعد المرور.

أ صوب ما تحته خط:

- ١ - يشتهر سكان محافظة بورسعيد بالعزف على آلة الربابة.

- ٢ - نستطيع مشاهدة الأشجار المتحجرة في محمية وادي الريان.
- ٣ - يقع المتحف القومي للحضارة المصرية بقلب مدينة الفسطاط في الأقصر.
- ٤ - تعد زيارتك لدار الأوبرا المصرية سياحة ترفيهية.
- ٥ - يقع دير سانت كاترين في محافظة الوادي الجديد.

ب حدد دليلًا واحدًا:

- ١ - ساهمت اليونسكو في الحفاظ على التراث الثقافي في مصر.
- ٢ - اهتمام الدولة بالفنون الشعبية في صعيد مصر.

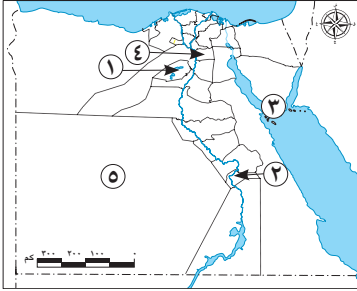
أ اختر الإجابة الصحيحة مما بين القوسين:

- ١ - أنشأها المصريون القدماء في الصحراء لتكون بعيدة عن خطر الفيضان
(المعابد - المقابر - المسلات - المتاحف)
 - ٢ - يُعد أحد نماذج السياحة الترفيهية
(رحلات السفاري - زيارة مكتبة الإسكندرية - زيارة الأهرامات - حضور مؤتمر المناخ)
 - ٣ - النشاط الاقتصادي الرئيسي لسكان البدو هو
(الزراعة - الصناعة - التجارة - الرعي)
 - ٤ - يُعين المحافظ من قبل
(رئيس الجمهورية - مجلس النواب - رئيس الوزراء - مجلس الشيوخ)
 - ٥ - أول جامعة أنشأها المصريون القدماء
(طيبة - منف - أون - الإسكندرية)
 - ٦ - تم إنشاء جامع عمرو بن العاص في عهد الخليفة
(عمر بن الخطاب - أبو بكر الصديق - عثمان بن عفان - علي بن أبي طالب)
- ب **قارن بين مهام الحكومة ومهام المحافظ.** (يكتفى بواحدة لكل منهما)



الاختبار السابع

أ لاحظ الخريطة، ثم أجب:



- ١ - محافظة ريفية
- ٢ - مطار
- ٣ - مدينة
- ٤ - محافظة
- ٥ - يشير الرقم (٥) إلى محافظة تشتهر بانخفاض نسبة الأمية

ب **قارن بين:** محمية رأس محمد ومحمية وادي الحيتان من حيث المميزات.

أ **اكتب كلمة (صواب) أمام العبارة الصحيحة، وكلمة (خطأ) أمام**

العبارة غير الصحيحة:

- ١ - تقوم مصر بإجراء تعداد سكاني كل عشر سنوات. ()
- ٢ - تُعد محافظة القاهرة عاصمة سياسية وتراثية عريقة. ()
- ٣ - لعبت اللغة الأمازيغية دورًا مهمًا في انتصار الجيش المصري في حرب أكتوبر عام ١٩٧٣ م. ()
- ٤ - يقابل منصب الوزير في مصر قديمًا منصب رئيس الجمهورية حديثًا. ()
- ٥ - يقع معبد الكرنك بمحافظة الأقصر. ()
- ٦ - يجب لمس القطع الأثرية عند زيارتنا لها. ()

ب **ما العلاقة بين:** الهجرة والعشوائيات؟

أ **اختر الإجابة الصحيحة مما بين القوسين:**

- ١ - يشمل مشروع تطوير مدينة القاهرة التاريخية شارع
(فيصل - المعز - الأهرام - النصر)

- ٢ - يتم اختيار المجلس المحلي عن طريق
- (الانتخابات - التعيين - الانتداب - التزكية)
- ٣ - إحدى المحافظات الحضرية في مصر محافظة
- (السويس - المنيا - الشرقية - الغربية)
- ٤ - تُعد سباقات الهجن رياضة تراثية يشتهر بها سكان
- (الدلتا - الوجه القبلي - سيناء - الوجه البحري)
- ٥ - أمر ببناء الهرم الأوسط هو الملك
- (خوفو - خفرع - منكاورع - سنفرو)

ب ماذا تقول في المواقف التالية مبرراً رأيك؟:

- ١ - صديق لك يلتقط صوراً باستخدام فلاش الكاميرا لبعض الآثار.
- ٢ - طفل يرفض الذهاب إلى المدرسة.

أ أكمل العبارات الآتية بكلمات مناسبة:

- ١ - تقع منطقة "أبو مينا" في محافظة
- ٢ - زيارتك لمتحف الفن الإسلامي تُعد سياحة
- ٣ - تؤدي البطالة إلى زيادة معدلات
- ٤ - ساهمت اليونسكو في ترميم مدينة صنعاء القديمة في
- ٥ - يسهم التراث الثقافي المصري في تنشيط
- ٦ - تمثيل مصر داخلياً وخارجياً من مهام

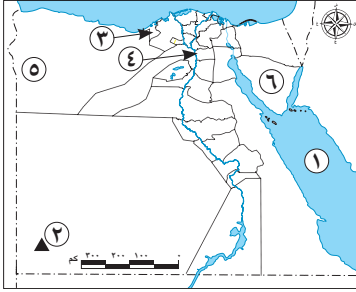
ب اكتب مثالا لكل من:

- ١ - سياحة المؤتمرات.
- ٢ - سياحة المهرجانات.



الاختبار الثامن

أ لاحظ الخريطة، ثم أجب:



- ١ - يشار لواجهة سيوة برقم
- ٢ - يشار لمحمية الغابة المتحجرة برقم
- ٣ - صواب أم خطأ:
أنشأت منظمة اليونسكو متحف النوبة في
المنطقة رقم (٣). ()

٤ - اختر: الرقم الذي يشير إلى أقل محافظات مصر سكاناً هو

(٦-٥-٤-٣)

٥ - يُشار للبحر الأحمر برقم

ب اكتب اثنين من جهود الدولة لمواجهة مشكلة الأمية في مصر.

أ اكتب كلمة (صواب) أمام العبارة الصحيحة، وكلمة (خطأ) أمام العبارة غير الصحيحة:

- ١ - يقوم مجلس النواب بسن القوانين في مصر. ()
- ٢ - انضم المتحف المصري بالقاهرة للقائمة المؤقتة لمواقع التراث العالمي. ()
- ٣ - التنزه عبر نهر النيل يُعد سياحة ثقافية. ()
- ٤ - يجب اتباع قواعد النظافة والأمن داخل المناطق الأثرية والسياحية. ()
- ٥ - نُحت تمثال أبو الهول على هيئة جسم أسد ورأس إنسان. ()
- ٦ - تقع محمية رأس محمد في محافظة البحر الأحمر. ()

ب وضع أهمية واحدة لكل من:

- ١ - منظمة اليونسكو.
- ٢ - الجهاز المركزي للتعبئة العامة والإحصاء.

٣

أ أكمل العبارات الآتية بما يناسبها من بنك الكلمات:

- (الملك - الخدمات - ثقافية - الكرنك - الثقافي - ترفيهية)
- ١ - تُعد الأقصر من التراث
 - ٢ - يظهر فن التحطيب على حائط معبد
 - ٣ - كان على رأس نظام الحكم في مصر قديماً
 - ٤ - تُعد زيارتك لمكتبة الإسكندرية سياحة
 - ٥ - يعاني سكان الريف من قلة

ب **أكتب اثنين** من معايير اختيار المواقع على قائمة التراث العالمي لليونسكو.

٤

أ اختر الإجابة الصحيحة مما بين القوسين:

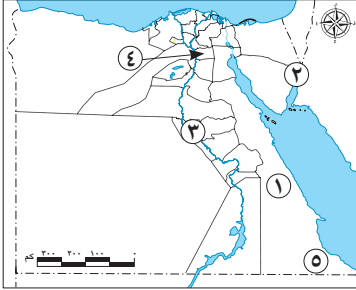
- ١ - يقع في حي مصر القديمة بالقاهرة
- (الغابة المتحجرة - المعبد اليهودي - قلعة صلاح الدين - الجامع الأزهر)
- ٢ - اخترع المصريون القدماء الكتابة
- (المسمارية - الهجائية - الهيروغليفية - الصينية)
- ٣ - قامت الدولة بتطوير مسار العائلة المقدسة في حي
- (المعادي - عابدين - المطرية - المرج)
- ٤ - يتراأس رئيس الوزراء
- (الحكومة - مجلس النواب - المحاكم - مجلس الشيوخ)
- ٥ - أحد الأعياد الرسمية في مصر القديمة عيد
- (الفطر - رأس السنة - الأضحى - القيامة المجيد)
- ٦ - إحدى خصائص سكان القاهرة
- (انخفاض مستوى المعيشة - انتشار المدارس - نقص فرص العمل - قلة الخدمات)

ب ما المقصود بـ ؟:

- ١ - عصور ما قبل التاريخ.
- ٢ - السلطة القضائية.

٣٠

الاختبار التاسع



أ لاحظ الخريطة ثم أجب:

- ١ - يُشار لجزيرة فرعون برقم
- ٢ - يُشار لموقع مجمع الأديان برقم
- ٣ - اختر: الرقم الذي يشير لأعلى محافظات مصر في نسبة التعليم
- (١ - ٢ - ٣ - ٤)
- ٤ - يُشار لنهر النيل برقم
- ٥ - صواب أم خطأ:

يشير رقم (٥) إلى موقع محمية وادي الحيتان. ()

ب **اكتب اثنين** من جهود الدولة لحل مشكلات البدو.

أ صوب ما تحته خط:

- ١ - المنظمة التي خصصت يوماً للاحتفال بالتراث العالمي هي منظمة اليونسيف.
- ٢ - يتم تطوير مسجد أحمد بن طولون ضمن مشروع تطوير منطقة الأهرامات.
- ٣ - تُعد زيارة المتحف القبطي سياحة ترفيهية.
- ٤ - تميل لهجة قبائل بدو سيناء إلى اللغة النوبية.
- ٥ - الجهة الحكومية المشرفة على تنفيذ التعداد السكاني هي منظمة التربية والعلوم والثقافة.

٦ - ترجع منطقة «أبو مينا» إلى فترة الحكم الفرعوني.

ب فسر ما يلي:

- ١ - تسمية الكنيسة المعلقة بهذا الاسم.
- ٢ - الأهمية الكبيرة للمتحف القومي للحضارة المصرية.

أ اختر الإجابة الصحيحة مما بين القوسين:

٣

- ١ - يقع برج القاهرة في جزيرة
(فرعون - شوان - الزمالك - فيلة)
 - ٢ - تؤدي الأمية إلى حدوث مشكلة
(الزيادة السكانية - التلوث - انتشار الأمراض - البطالة)
 - ٣ - أحد مظاهر احتفال المصريين القدماء بشم النسيم هو تناولهم لـ
(الألبان - الأسماك المملحة - المخبوزات - لحم الأبقار)
 - ٤ - يقع خان الخليلي في محافظة
(الحيزة - القاهرة - دمياط - الإسكندرية)
 - ٥ - أنشأت الدولة داخل منطقة الأهرامات
(ميناءً بحرياً - ممشى سياحياً - ملاهٍ مائية - أندية رياضية)
- ب **وضح اثنين** من مهام رئيس الجمهورية.

أ أكمل مستعيناً ببنك الكلمات:

٤

(التنفيذية - البري - التعداد السكاني - الغزلان - الإسماعيلية - الجوي -
آثار النوبة)

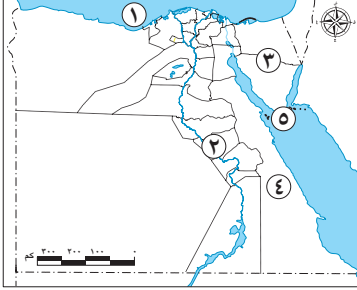
- ١ - أسرع أنواع النقل هو النقل
- ٢ - أحد الحيوانات البرية في محمية وادي الريان
- ٣ - تشمل المواقع المصرية المدرجة على قائمة التراث العالمي
- ٤ - تُعد الحكومة في مصر جزءاً من السلطة
- ٥ - تنتشر رقصة البمبوطية الفلكورية الشعبية في مدينة
- ٦ - يشرف الجهاز المركزي للتعبئة العامة والإحصاء على إجراء

ب أجب عما يلي:

- ١ - ما هو واجبك تجاه السائحين عند زيارتك للمناطق الأثرية؟
- ٢ - اكتب دليلاً واحداً على: اهتمام الدولة بالقضاء على مشكلة الأمية.

الاختبار العاشر

أ اقرأ الخريطة، ثم أجب:



- ١ - البحر
- ٢ - محافظة ريفية
- ٣ - صواب أم خطأ:
يقيم سكان المنطقة رقم (٣)
حفلات السامر . ()
- ٤ - اختر: يشير رقم ٤ لمحافظة
- (البحر الأحمر - الإسماعيلية - بني سويف - الشرقية)
- ٥ - يشير رقم (٥) إلى محمية

ب في رأيك: ما أهمية السياحة العلاجية والترفيهية؟

أ اكتب كلمة (صواب) أمام العبارة الصحيحة، وكلمة (خطأ) أمام العبارة غير الصحيحة:

- ١ - الساعة السكانية هي شاشة تظهر تقديرات لعدد سكان مصر. ()
- ٢ - يؤخذ رأي مجلس الشيوخ في معاهدات الصلح. ()
- ٣ - أنقذت منظمة اليونسكو منطقة «أبو مينا» من الغرق بعد بناء
السد العالي. ()
- ٤ - تقع محمية وادي الحيتان في محافظة المنيا. ()
- ٥ - يعد التراث النوبي جزءاً أصيلاً من الحضارة المصرية القديمة. ()
- ٦ - تقوم مصر بدعم السياحة المستدامة للحفاظ على البيئة. ()

ب ما الفرق بين الأمية الهجائية والمعلوماتية؟

٣

أ أكمل العبارات الآتية بكلمات مناسبة:

- ١ - تهدف مبادرة حياة كريمة إلى تحسين مستوى معيشة سكان
 - ٢ - يقع معبد الدير البحري في محافظة
 - ٣ - إحدى مناطق التراث العالمي في جنوب سيناء دير
 - ٤ - دخلت العربات الحربية مصر مع غزو
 - ٥ - المجلس المحلي هو مجلس منتخب من أبناء
- ب فسر:** أهمية محمية وادي الريان لسكان الفيوم.

٤

أ اختر الإجابة الصحيحة مما بين القوسين:

- ١ - أحد المواقع التي يتم تطويرها داخل القاهرة
 - (سور مجرى العيون - طريق الكباش - معبد الدير البحري - دير المحرق)
 - ٢ - تشير الصورة المقابلة إلى آلة موسيقية يشتهر بها
سكان
 - (دلتا النيل - صعيد مصر - الصحراء الغربية - الصحراء الشرقية)
 - ٣ - زيارة شاطئ مدينة دهب يعد سياحة
 - (علاجية - ترفيهية - ثقافية - مؤتمرات)
 - ٤ - تم تصميم برج القاهرة على شكل
 - (تمثال أبو الهول - الهرم الأكبر - زهرة اللوتس المصرية - نبات البردي)
 - ٥ - إعداد الموازنة العامة للدولة هي مسئولية
 - (الحكومة - رئيس الجمهورية - المحافظين - مجلس النواب)
 - ٦ - يؤدي تنوع أنماط السكان في مصر إلى
 - (تحقيق التنمية - تنظيم الأسرة - تقليل وفيات الأمهات - تقليل وفيات الرضع)
- ب سجل اثنين** من مميزات مدينة شرم الشيخ.



إجابات الاختبارات النهائية

الاختبار الثاني

- ١ - القاهرة. ١
٢ - سيوة. ٢
٣ - الإسكندرية. ٣
٤ - رقصة البمبوتية الفلكلورية الشعبية. ٤
٥ - خطأ. ٥
- ب - بسبب صعوبة مظاهر سطحها وندرة موارد المياه بها.
- ٢ - خطأ. ٢
٣ - خطأ. ٣
٤ - صواب. ٤
٥ - خطأ. ٥
٦ - صواب. ٦
- ١ - كان يتم دفن الملك «المتوفي» وكل الأشياء التي سوف يحتاج إليها بعد البعث مرة أخرى في حجرة داخل الهرم وذلك بسبب اعتقادهم في البعث والخلود.
- ١ - المعادي. ١
٢ - الملك. ٢
٣ - خدمات. ٣
٤ - مجلس النواب. ٤
٥ - السفن. ٥

التراث الثقافي	التراث الطبيعي
الصناعات والحرف التراثية، وعادات وتقاليد الشعوب في المأكّل والملبس والفنون الشعبية، والأماكن السياحية والأثرية ذات القيمة العظيمة مثل المعابد والأهرامات والقلاع والمساجد والكنائس والأديرة.	المواقع الطبيعية الجميلة ذات القيمة العالمية التي لم يتدخل الإنسان في صناعتها أو التأثير فيها.

- ١ - السياحة. ١
٢ - ترميم المناطق الأثرية. ٢
٣ - رئيس الجمهورية. ٣
٤ - الأهرامات. ٤
٥ - ترفيهية. ٥

إجابات اختبارات سلاح التلميذ على الفصل الدراسي الثاني

الاختبار الأول

- ١ - القاهرة. ١
٢ - سيوة. ٢
٣ - البحر الأحمر. ٣
٤ - متحف السيرة الهلالية. ٤
٥ - وادي الريان. ٥
- ب - لأنها تضم هياكل وعظاماً لحيتان ضخمة وحفريات لأسماك أخرى كانت تعيش في تلك المنطقة قبل ٤٠ مليون سنة.
- بها العديد من الكائنات الحية المتنوعة مثل الصقور والثعالب والغزلان.
- ١ - الشيوخ. ١
٢ - الروماني. ٢
٣ - المؤتمرات والمهرجانات. ٣
٤ - اليونسكو. ٤
- ب - عدم لمس القطع الأثرية.
- عدم تناول الطعام والشراب بجانب الآثار.
- اتباع قواعد النظافة والأمن داخل المتحف.
- عدم الكتابة على الآثار أو خدشها.
- ١ - صواب. ١
٢ - أجب بنفسك. ٢
٣ - صواب. ٣
٤ - خطأ. ٤
٥ - خطأ. ٥
- ب - تراث طبيعي: محمية الصحراء البيضاء - محمية رأس محمد.
- تراث ثقافي: معبد أبو سمبل الكبير - قلعة قايتباي.
- ١ - خفرع. ١
٢ - المعادي. ٢
٣ - بورسعيد. ٣
٤ - التعداد السكاني. ٤
٥ - السياحة. ٥
- ب - القناة. ١
٢ - مهرجان الإسماعيلية الدولي للفنون الشعبية. ٢
٣ - البمبوتية الفلكلورية الشعبية. ٣

- ب ١ - محافظة الجيزة.
٢ - بني لدفن الملك وكل الأشياء التي سوف يحتاج إليها بعد البعث.

الاختبار الرابع

- ١ ا ١ - مطروح. ٢ - خطأ.
٢ - متحف النوبة. ٤ - بني سويف.
٥ - شرم الشيخ.
- ب - اتباع قواعد النظافة والأمن داخل المواقع الأثرية والسياحية.

ب - عدم لمس القطع الأثرية أو الوقوف ملاصقاً لها.

- ٢ ا ١ - الملك. ٢ - اليونسكو.
٣ - فيلة ٤ - الفيوم.
٥ - الثقافية. ٦ - البدو.

ب - تحقيق التبادل بين السكان وتبادل المنتجات - تحقيق التنمية في جميع المجالات الاقتصادية.

- ٢ ا ١ - خطأ. ٢ - خطأ.
٣ - صواب ٤ - صواب.
٥ - خطأ.

ب ١ - استخدمت في تسجيل الأحداث والأخبار وأهم الإنجازات، مما ساعد على معرفة الحضارة المصرية القديمة.

٢ - حيث استخدمها الجيش المصري كسفرة للتواصل بين قياداته والفرق العسكرية المصرية في سيناء خلال حرب أكتوبر ١٩٧٣م.

- ٤ ا ١ - المعلوماتية.
٢ - الجهاز المركزي للتعبئة العامة والإحصاء.
٣ - الكرنك.
٤ - خوفو.
٥ - الأهرامات.
٦ - الدخول القومي.

ب

الجيزة	جنوب سيناء	القاهرة
- أبو الهول.	- شرم الشيخ.	- الأزهر الشريف.
- الأهرامات الثلاثة.	- دير سانت كاترين.	- المتحف القومي للحضارة المصرية.

الاختبار الثالث

- ١ ا ١ - محمية رأس محمد. ٢ - سيناء.
٣ - الوادي الجديد.

ب - تحقيق التكامل بين السكان وتبادل المنتجات - تحقيق التنمية في جميع المجالات الاقتصادية.

- ٢ ا ١ - خطأ. ٢ - صواب.
٣ - خطأ. ٤ - خطأ.
٥ - صواب. ٦ - صواب.

ب - دعم السياحة المستدامة للحفاظ على البيئة والموارد الطبيعية - استخدام الأساليب التكنولوجية في التسويق السياحي - إنشاء وتطوير المنشآت السياحية - صيانة المناطق الأثرية وترميمها - تطوير وسائل النقل والمواصلات. (يكتفى باثنين).

- ٣ ا ١ - واحة سيوة.
٢ - حسن معاملة السياح.
٣ - اليونسكو.
٤ - الجهاز المركزي للتعبئة العامة والإحصاء.
٥ - الجيزة.

ب - تضم قائمة التراث العالمي لليونسكو سبعة مواقع تراثية مصرية رسمية (٦ مواقع ثقافية وموقعاً واحداً طبيعياً وهو وادي الحيتان).

- ٤ ا ١ - الثقافي.
٢ - المصرية القديمة.
٣ - أون
٤ - الحكومة.
٥ - طبيعي.
٦ - الحضرة.

ب

التراث الطبيعي	التراث الثقافي
يشمل المعالم أو المواقع الطبيعية الجميلة ذات القيمة العالية التي لم يتدخل الإنسان في صناعتها أو التأثير فيها.	يشمل كلاً من الصناعات والحرف التراثية وعادات وتقاليد الشعوب في الأكل والملبس والفنون الشعبية وكذلك الأماكن السياحية والأثرية مثل المعابد والأهرامات والقلع والمساجد والكنائس والأديرة.

الاختبار الخامس

١

١ - القاهرة.

٢ - محمية رأس محمد.

٣ - الجيزة.

٤ - البحر الأحمر.

٥ - الإسكندرية.

ب - يؤدي إلى تنشيط السياحة - توفير فرص عمل للشباب - زيادة الدخل القومي. (يكتفى باثنين)

٢

١ - فروعن.

٢ - الهجن.

٣ - الشيوخ.

٤ - المطرية.

٥ - السسمية.

٦ - القاهرة.

ب

رئيس الجمهورية حديثاً	الملك قديماً
- الحفاظ على أمن الوطن.	- إدارة شؤون البلاد.
- يرفع مصالح الشعب.	- عقد المعاهدات.
- يمثل مصر محلياً ودولياً.	- إصدار القوانين.

٣

١ - خطأ.

٢ - صواب.

٣ - صواب.

٤ - خطأ.

٥ - صواب.

ب - الترتيب من القديم إلى الحديث.

- معبد أبو سمبل الكبير.

- الكنيسة المعلقة.

- مسجد أحمد بن طولون.

- برج القاهرة.

١ - خفرع. ٢ - شرم الشيخ.

٣ - رئيس الجمهورية. ٤ - اللوتس.

٥ - وادي الحيتان.

ب - ١ - أن يضم المكان مناطق طبيعية فائقة الجمال وظواهر طبيعية لا مثيل لها.

٢ - أن يعكس مراحل مهمة من التطور عبر العصور.

٣ - أن يمثل الأثر نموذجاً للإبداع البشري.

الاختبار السادس

١

١ - صواب.

٢ - بني سويف.

٣ - رأس محمد.

٤ - الإسكندرية.

٥ - بورسعيد.

ب - إصدار قوانين تجرم الاتجار بالآثار والاعتداء عليها - التخطيط لمشروعات تطوير للمناطق الأثرية - تنظيم عملية البحث والتنقيب عن الآثار والإشراف عليها - ترميم الآثار بواسطة مختصين. (يكتفى باثنين)

٢

١ - شرم الشيخ.

٢ - الأزهر.

٣ - علاجية.

٤ - الزيادة السكانية.

٥ - الثقافي.

٦ - فيلة.

ب - ١ - حيث يساعد على تحديد الخدمات التي يحتاجها السكان في الحاضر والمستقبل.

٢ - حتى نستطيع الحفاظ على أرواحنا وأرواح الآخرين، ونقل من الحوادث.

١ - السسمية.

٢ - الغابة المتحجرة.

٣ - القاهرة.

٤ - ثقافية.

٥ - جنوب سيناء.

- ٢
- ١- صواب. ٢- صواب.
٣- خطأ. ٤- خطأ.
٥- صواب. ٦- خطأ.
- ب - تتسبب هجرة سكان الريف إلى المدن في ظهور العشوائيات.
- ٣
- ١- المعز. ٢- الانتخابات.
٣- السويس. ٤- سيناء.
٥- خفرع.
- ب - أجب بنفسك.
- ٤
- ١- الإسكندرية. ٢- ثقافية.
٣- الجريمة. ٤- اليمن.
٥- السياحة.
- ٦- رئيس الجمهورية.
- ب
- ١- حضور مؤتمر المناخ في شرم الشيخ.
٢- مهرجان الإسماعيلية للفنون الشعبية.

الاختبار الثامن

- ١
- ١- (٥). ٢- (٤).
٣- خطأ. ٤- (٦).
٥- (١).
- ب - إنشاء الهيئة العامة لتعليم الكبار ومحو الأمية عام ١٩٩٢م.
- إنشاء العديد من المدارس للاستيعاب الكامل للأطفال.
- إطلاق العديد من المبادرات المجتمعية لتنفيذ برامج محو الأمية.
- زيادة وعي الأفراد بأهمية التعليم عبر وسائل الإعلام المختلفة. (يكتفى باثنين).
- ٢
- ١- صواب. ٢- صواب.
٣- خطأ. ٤- صواب.
٥- صواب. ٦- خطأ.
- ب
- ١- منظمة اليونسكو تعمل على: حماية التراث العالمي.

- ب
- ١- حيث ساهمت في إنقاذ معبدي أبو سمبل ومعبد إيزيس من الغرق بعد بناء السد العالي.
- ٢- إنشاء الدولة لمتحف السيرة الهلالية في محافظة قنا.
- ٤
- ١- المقابر. ٢- رحلات السفاري.
٣- الرعي. ٤- رئيس الجمهورية.
٥- أون. ٦- عمر بن الخطاب.
- ب (يكتفى بواحدة لكل منهم).

مهام المحافظ	مهام الحكومة
- إدارة شؤون المحافظة.	- الاشتراك مع الرئيس في وضع الخطة العامة.
- متابعة جودة المرافق والخدمات.	- إعداد الموازنة العامة للدولة.
- الإشراف على تنفيذ المشروعات التنموية بالمحافظة.	- إصدار القرارات وفقها للقوانين.
- توفير فرص عمل لأبناء المحافظة.	

الاختبار السابع

- ١
- ١- الفيوم. ٢- الأقصر.
٣- شرم الشيخ. ٤- القاهرة.
٥- الوادي الجديد.
- ب
- | محمية رأس محمد | محمية وادي الحيتان |
|--|---|
| - وجود الشعاب المرجانية. | - وجود هياكل وعظام لحياتان ضخمة وحفريات لأسماك أخرى كانت تعيش قبل ٤٠ مليون سنة في تلك المنطقة التي كان يغطيها البحر قديماً. |
| - وجود الأسماك الملونة والسلاحف البحرية المهددة بالانقراض، والأحياء المائية النادرة. | - وجود كائنات بحرية متنوعة كالصقور والثعالب والغزلان. |

الاختبار التاسع

- ١ - ٢ (٤) - ٢
٣ - (١) . ٢ - ٤ (٣) - ٤
٥ - خطأ .
- ب - قامت الدولة بـ:
٥ - بناء مساكن لهم .
٥ - توفير فرص عمل لهم في مجالى الزراعة والتعدين .
- ٢ - ١ - ١ (٢) i
٢ - القاهرة التاريخية .
٣ - ثقافية .
٤ - العربية .
٥ - الجهاز المركزي للتعبئة العامة والإحصاء .
٦ - الروماني .
- ب ١ - لأنها بنيت على الأبراج الجنوبية من حصن بابلون وترتفع عدة أمتار عن سطح الأرض .
٢ - لأنه يعتبر الأول من نوعه في مصر والعالم العربي، حيث يقدم نظرة شاملة على الحضارة المصرية عن طريق عرض قطع أثرية تساعد الزائر على فهم الحضارة المصرية عبر العصور المختلفة .
- ٣ - ١ - ١ (٣) i
٣ - الأسماك المملحة . ٤ - القاهرة .
٥ - ممشى سياحياً .
- ب - الحفاظ على أمن الوطن .
٤ - رعاية مصالح الشعب .
٥ - تمثيل مصر محلياً ودولياً .
٥ - وضع الخطة العامة للدولة وتشارك معه الحكومة في ذلك . (يكتفى باثنين) .
- ٤ - ١ - ١ (٤) i
٣ - آثار النوبة . ٤ - التنفيذية .
٥ - الإسماعيلية .
٦ - التعداد السكاني .

- ٥ - إرساء السلام ونبذ العنف والكرهية .
٥ - تحقيق أهداف التنمية المستدامة .
٥ - توفير فرص التعليم الجيد لجميع الأفراد .
٥ - القضاء على الفقر والمساواة بين الجنسين .
٥ - الحفاظ على التراث الطبيعي والثقافي واستدامته في ١٦٧ دولة حول العالم . (يكتفى بواحدة) .
- ٢ - الجهاز المركزي للتعبئة العامة والإحصاء يقوم بـ:
٥ - بجمع البيانات وينشر الإحصاءات والتقارير السنوية .
٥ - إجراء التعدادات السكانية كل عشر سنوات . (يكتفى بواحدة) .
- ٣ - ١ - ١ (٣) i
٢ - الكرنك . ٤ - ثقافية .
٣ - الملك .
٥ - الخدمات .
- ب - يضم المكان مناطق وظواهر طبيعية لا مثيل لها .
٥ - يعكس مراحل مهمة من التطور عبر العصور .
٥ - يمثل الأثر نموذجاً للإبداع البشري .
٥ - يكون شاهداً على حضارة عظيمة .
٥ - يعكس نموذجاً بارزاً لتطور الهندسة المعمارية أو التكنولوجيا . (يكتفى باثنين) .
- ٤ - ١ - ١ (٤) i
٣ - المطرية . ٤ - الحكومة .
٥ - رأس السنة .
٦ - انتشار المدارس .
- ب ١ - العصور التي بدأت قبل معرفة الإنسان للكتابة .
٢ - سلطة مستقلة تتولاها المحاكم المتنوعة .

ب - الأمية الهجائية هي عدم قدرة الفرد على القراءة أو الكتابة، بينما الأمية المعلوماتية هي عدم قدرة الفرد على تشغيل الأجهزة التكنولوجية والتواصل من خلالها أو الوصول إلى المعلومات.

١ - الريف. ٢ - الأقصر.

٣ - سانت كاترين. ٤ - الهكسوس.

٥ - المحافظة.

ب - لأنها مصدر دخل لهم من السياحة - وتمثل تراثاً طبيعياً يميز محافظتهم.

١ - سور مجرى العيون.

٢ - صعيد مصر.

٣ - ترفيهية.

٤ - زهرة اللوتس المصرية.

٥ - الحكومة.

٦ - تحقيق التنمية.

ب - يوجد بها الجبال الشامخة - مياه البحر الأحمر الصافية - الشعاب المرجانية الملونة (يكتفى باثنين).

ب ١ - حسن التعامل مع السائقين وتقديم المساعدة إذا طلبوا ذلك.

٢ - إقامة الهيئة العامة لتعليم الكبار ومحو الأمية عام ١٩٩٢م.

- إنشاء العديد من المدارس.

- إطلاق العديد من المبادرات المجتمعية للمشاركة في تنفيذ برامج محو الأمية.

- زيادة وعي الأفراد بأهمية التعليم. (يكتفى بواحدة).

الاختبار العاشر

١ ١ - المتوسط.

٢ - سوهاج.

٣ - صواب.

٤ - البحر الأحمر.

٥ - رأس محمد.

ب - أجب بنفسك.

٢ ١ - صواب.

٢ - خطأ.

٢ - صواب.

٤ - خطأ.

٦ - صواب.

٥ - صواب.

الاختبار ١

السؤال الأول اختر الإجابة الصحيحة مما بين القوسين:

- ١ إحدى مناطق التراث الطبيعي بالقاهرة محمية
(وادي الحيطان - الغابة المتحجرة - رأس محمد - وادي الريان)
- ٢ المحافظة التي يغلب عليها الطابع الريفي هي محافظة
(المنيا - الإسكندرية - السويس - القاهرة)
- ٣ أرسلت الملكة حتشبسوت رحلات تجارية إلى بلاد
(بونت - فينيقيا - المغرب - النوبة)
- ٤ لغة ساهمت في انتصار حرب أكتوبر ١٩٧٣ م هي اللغة
(الفرنسية - النوبية - الإنجليزية - الأمازيغية)
- ٥ أحد أقدم الأديرة المصرية، ومدرج على قائمة التراث العالمي لليونسكو هو دير
(سانت كاترين - الأنبا مقار - المحرق - العذراء)

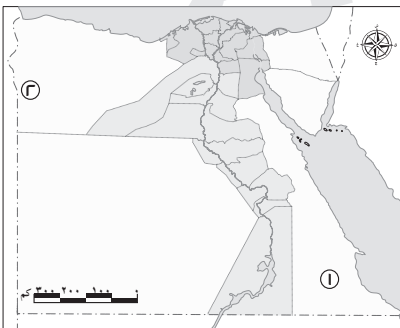
السؤال الثاني اكتب كلمة (صواب) أمام العبارة الصحيحة، وكلمة (خطأ) أمام العبارة غير الصحيحة:

- ١ حفاظي على البيئة المحيطة بي يساعد في تطوير محافظتي. ()
- ٢ يجب علينا عدم تشويه الآثار بالكتابة عليها. ()
- ٣ يعد النقل المائي هو الأعلى سعرًا بين وسائل النقل المختلفة. ()
- ٤ يجب علينا إفساح الطريق أمام سيارة الإسعاف. ()
- ٥ تم تصميم برج القاهرة على شكل زهرة اللوتس. ()

السؤال الثالث (أ) أجب عن الأسئلة التالية:

- ١ فسر: بنى المصريون القدماء الأهرامات الثلاثة على هضبة مرتفعة.
- ٢ اكتب اثنين من السلوكيات التي يجب أن تتجنبها عند استخدامك الإنترنت.
- ٣ لماذا يعد الجهاز المركزي للتعبئة العامة والإحصاء من أهم المؤسسات المؤثرة في المجتمع المصري؟

(ب) أمامك خريطة صماء مصر، اكتب مدلول الأرقام الموضحة عليها:



- ١ أقل محافظات مصر في نسب الأمية
- ٢ يشير رقم (٢) إلى واحة



الاختبار ٢

السؤال الأول اختر الإجابة الصحيحة مما بين القوسين:

- ١ تتمثل السلطة المستقلة في مصر في المتنوعة.
(المحاكم - الوزارات - المستشفيات - المدارس)
- ٢ الأمية المعلوماتية هي عدم قدرة الفرد على
(استخدام التكنولوجيا - القراءة والكتابة - القراءة - الكتابة)
- ٣ نجح الأخوان رايت في اختراع أول
(سفينة - قمر صناعي - طائرة - سيارة كهربائية)
- ٤ زيارتك لأهرامات الجيزة تعد سياحة
(ثقافية - علاجية - ترفيهية - مؤتمرات)
- ٥ من المحافظات التي ينتشر فيها الفن الموجود في الصورة
(جنوب سيناء - الأقصر - القاهرة - الإسكندرية)



السؤال الثاني اكتب كلمة (صواب) أمام العبارة الصحيحة، وكلمة (خطأ) أمام العبارة غير الصحيحة:

- ١ استخدم الإنسان قديماً الدخان كوسيلة للتواصل مع الآخرين. ()
- ٢ تقوم الدولة بوضع كاميرات في الطرق لمعرفة مدى الالتزام بقواعد المرور. ()
- ٣ يمكن لسكان أسوان أن يترشحوا لانتخابات المجلس المحلي لمحافظة الفيوم. ()
- ٤ سور مجرى العيون يعد منطقة تراث طبيعي. ()
- ٥ يمكن لأي فرد أن يشارك في عملية ترميم الآثار. ()

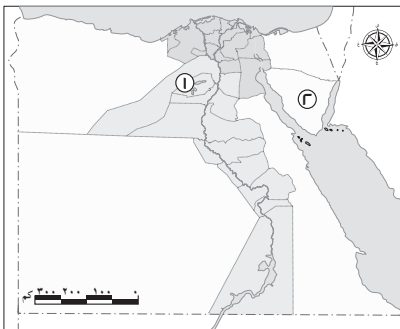
السؤال الثالث (أ) أجب عن الأسئلة التالية:

- ١ ما العلاقة بين الكنيسة المعلقة والآثار الرومانية؟
- ٢ صنف وسائل النقل التالية حسب الجدول: (مونوريل - غواصة - سيارة إسعاف - طائرة حربية - سفينة)

نقل بري	نقل جوي	نقل مائي

- ٣ صوب ماتحته خط: يشتهر سكان بورسعيد بالعزف على آلة الربابة.

(ب) أمامك خريطة صماء مصر، اكتب مدلول الأرقام الموضحة عليها:



- ١ منطقة مدرجة على قائمة التراث العالمي وهي
- ٢ أقل المحافظات المصرية سكاناً محافظة



الاختبار ٣

السؤال الأول اختر الإجابة الصحيحة مما بين القوسين:

- ١ تسعى الدولة لتحويل منطقة بمحافظة الجيزة لمتحف أثري مفتوح.
(الأهرامات- بولاق- السيدة زينب - المقطم)
- ٢ تعد هذه العلامة **H** من العلامات
(التحذيرية - الإرشادية - الضوئية - الأرضية)
- ٣ أشهر مركب في التاريخ هي مركب الملك
(خوفو- خفرع - منكاورع - مينا)
- ٤ إذا أردت نقل كمية من الخضراوات من مصر إلى فرنسا، فإن أنسب وسائل النقل هي
(السيارة - السفينة - الطائرة - القطار)
- ٥ عيد السياحة في واحة سيوة يوافق عيد
(زراعة التمر والزيتون - حصاد التمر والزيتون - الفطر المبارك - الأضحى المبارك)

السؤال الثاني اكتب كلمة (صواب) أمام العبارة الصحيحة، وكلمة (خطأ) أمام العبارة غير الصحيحة:

- ١ يتولى رئيس مجلس النواب رئاسة الحكومة. ()
- ٢ يعد ميناء سفاجا من أهم الموانئ على البحر المتوسط. ()
- ٣ إذا أردنا مشاهدة الأشجار المتحجرة فعلينا الذهاب إلى محمية الصحراء البيضاء. ()
- ٤ يمثل أهل الريف أكثر من نصف سكان مصر. ()
- ٥ بني جامع عمرو بن العاص في محافظة الجيزة. ()

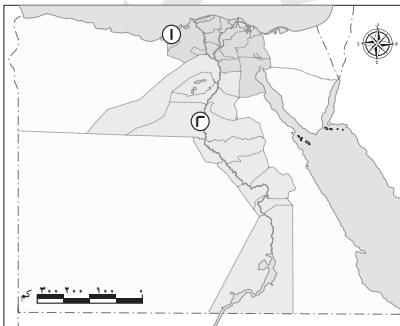
السؤال الثالث (أ) أجب عن الأسئلة التالية:

- ١ وضح كيف تساهم السياحة في دعم الاقتصاد المصري.
- ٢ ما العلاقة بين تطور وسائل الاتصال وأصحاب الهمم؟
- ٣ رتب وسائل النقل البري التالية على الخط الزمني حسب تطورها من الأقدم للأحدث:
(السكك الحديدية - العربات الحربية - السيارات)

الأحدث

الأقدم

(ب) أمامك خريطة صماء مصر، اكتب مدلول الأرقام الموضحة عليها:




- ١ منطقة مهددة بخطر التآكل
- ٢ أعلى محافظات مصر من حيث نسبة الأمية



الاختبار ٤

السؤال الأول اختر الإجابة الصحيحة مما بين القوسين:



١ أي من العلامات الآتية تشير إلى منع استخدام آلة التنبيه

٢ يقابل منصب حاكم الإقليم قديماً منصب حالياً.

(الوزير - رئيس الوزراء - المحافظ - رئيس الجمهورية)

٣ يمثل مجلس النواب السلطة

(القضائية - التنفيذية - التشريعية - الوطنية)

٤ أول من حاول الطيران في الجو هو

(عباس بن فرناس - أحمد بن طولون - خفرع - خوفو)

٥ المصدر الأول للعملة الأجنبية في مصر هو

(الزراعة - الرعي - السياحة - الصناعة)

السؤال الثاني اكتب كلمة (صواب) أمام العبارة الصحيحة، وكلمة (خطأ) أمام العبارة غير الصحيحة:

١ يمكننا تسجيل طلب الحصول على لقاح فيروس كورونا من موقع بنك المعرفة المصري. ()

٢ تم إدراج فن التحطيب كفن تراثي على قائمة اليونسكو. ()

٣ يجب على الدولة تنظيم التنقيب عن الآثار لعدم سرقتها. ()

٤ قامت اليونسكو بإنقاذ معبدي الأقصر والكرنك بعد بناء السد العالي. ()

٥ الأمية الهجائية هي عدم معرفة القراءة والكتابة. ()

السؤال الثالث (أ) أجب عن الأسئلة التالية:

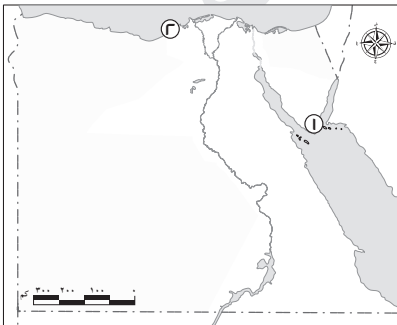
١ وضح جهود الدولة لحل مشكلات سكان البدو.

٢ صوب ما تحته خط: أرسل الملك خوفو البعثات إلى سيناء بهدف الحصول على النحاس والحديد.

٣ قارن بين الطائرة والسفينة من حيث نوع النقل ومميزاته.

وجه المقارنة	الطائرة	السفينة
نوع النقل		
المميزات		

(ب) أمامك خريطة صماء لمصر، اكتب مدلول الأرقام الموضحة عليها:



١ مدينة اعتبرتها اليونسكو أفضل مدينة للسلام وهي مدينة

٢ ميناء



السؤال الأول اختر الإجابة الصحيحة مما بين القوسين:

- ١ عند نقل السلع ثقيلة الوزن فإن أنسب أنواع النقل المستخدم هو النقل
(البري - المائي - الجوي - الفضائي)
- ٢ متابعة تنفيذ خطط التنمية في محافظة الجيزة من مهام
(مجلس الوزراء - المجلس المحلي - وزارة الخارجية - دار القضاء)
- ٣ أول جامعة في التاريخ هي جامعة
(بوتو - منف - أون - نخب)
- ٤ أنقذت منظمة اليونسكو معبد من الغرق بعد بناء السد العالي.
(إيزيس - الكرنك - الأقصر - حتشبسوت)
- ٥ عرفت مصر استخدام العربات الحربية مع غزو
(الإنجليز - الهكسوس - المغول - الفرس)

السؤال الثاني اكتب كلمة (صواب) أمام العبارة الصحيحة، وكلمة (خطأ) أمام العبارة غير الصحيحة:

- ١ تقام في محافظتي سباقات الهجن. ()
- ٢ كان أول خط هاتفي في مصر يصل بين القاهرة والسويس. ()
- ٣ تعتبر محمية الغابة المتحجرة منطقة تراث طبيعي. ()
- ٤ التمتع بالشعاب المرجانية في البحر الأحمر يعد سياحة ترفيهية. ()
- ٥ تنظم الدولة عملية البحث والتنقيب عن الآثار. ()

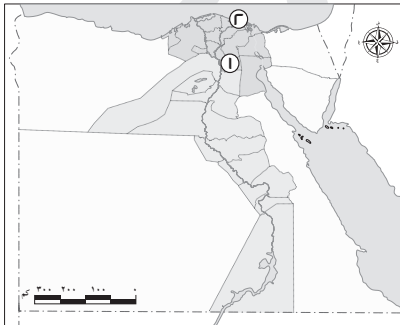
السؤال الثالث (أ) أجب عن الأسئلة التالية:

- ١ حدد المختلف مع ذكر السبب: (بورسعيد - السويس - أسيوط - الإسماعيلية)
- ٢ ما النتيجة المترتبة على اهتمام الدولة بتنظيم حركة المرور؟
- ٣ صنف حسب الجدول:
استخدام كوبري المشاه - عدم تجاوز السرعة المحددة - السير على الرصيف - عدم استخدام الهاتف المحمول أثناء القيادة.

قواعد المشاة

قواعد قيادة السيارة

(ب) أمامك خريطة صماء لمصر، اكتب مدلول الأرقام الموضحة عليها:



- ١ أكبر محافظات مصر سكاناً
- ٢ ميناء



إجابة الاختبار |

السؤال الأول:

- ١ الغابة المتحجرة.
- ٣ بونت.
- ٥ سانت كاترين.

- ٢ المنيا.
- ٤ النوبية.

السؤال الثاني:

- ١ صواب.
 - ٣ خطأ.
 - ٥ صواب.
- ٢ صواب.
 - ٤ صواب.

السؤال الثالث (أ):

- ١ لتكون بعيدة عن الفيضان.
- ٢ مشاركة أشخاص لا نعرفهم معلوماتنا وصورنا الشخصية - مشاركة معلومات غير صحيحة على شبكة الإنترنت.
- ٣ لأنه يقوم بجمع البيانات ومعالجتها وتحليلها ونشر الإحصاءات والتقارير السنوية الخاصة بأجهزة الدولة، كما يقوم بإجراء التعدادات السكانية كل عشر سنوات وكان آخر تعداد عام ٢٠١٧ م.

السؤال الثالث (ب):

- ١ البحر الأحمر.
- ٢ سيوة.



إجابة الاختبار ٢

السؤال الأول:

- ١ المحاكم.
- ٢ استخدام التكنولوجيا.
- ٣ طائرة.
- ٤ ثقافية.
- ٥ الأقصر.

السؤال الثاني:

- ١ صواب.
- ٢ صواب.
- ٣ خطأ.
- ٤ خطأ.
- ٥ خطأ.

السؤال الثالث (أ):

- ١ بنيت الكنيسة المعلقة على الأبراج الجنوبية من حصن بابلين، وقد بني حصن بابلين في العصر الروماني لذا فهو يعد من الآثار الرومانية وبالتالي فهناك علاقة بين الكنيسة المعلقة والآثار الرومانية.

٢

نقل بري	نقل جوي	نقل مائي
مونوريل - سيارة إسعاف	طائرة حربية	غواصة - سفينة

- ٣ السمسمة.

السؤال الثالث (ب):

- ١ محمية وادي الحيتان.
- ٢ جنوب سيناء.



إجابة الاختبار ٣

السؤال الأول:

- ١ الأهرامات.
- ٢ الإرشادية.
- ٣ خوفو.
- ٤ الطائرة.
- ٥ حصاد التمور والزيتون.

السؤال الثاني:

- ١ خطأ.
- ٢ خطأ.
- ٣ خطأ.
- ٤ صواب.
- ٥ صواب.

السؤال الثالث (أ):

١ توفر السياحة فرص عمل للشباب - وتساهم السياحة بنحو ١٢٪ من إجمالي الدخل القومي - تعد السياحة المصدر الأول للعملات الأجنبية.

٢ أدى تطور وسائل الاتصال إلى ابتكار تطبيقات عديدة تساعد ذوي الهمم في حياتهم مثل إدارة ذوي الهمم لمطعم في اليابان حيث يتحكمون من بعد (عبر الإنترنت) في الروبوتات التي تقدم الطلبات للزبائن.

- ٣ الأقدم الدواب العربات الحربية السكك الحديدية السيارات الأحدث

السؤال الثالث (ب):

- ١ أبو مينا.
- ٢ المنيا.



إجابة الاختبار ٤

السؤال الأول:



١ التشريعية.

٢ السياحة.

٣ المحافظ.

٤ عباس بن فرناس.

السؤال الثاني:

١ خطأ.

٢ صواب.

٣ صواب.

٤ خطأ.

٤ خطأ.

السؤال الثالث (أ):

١ قامت الدولة ببناء المساكن وتوفير فرص عمل في مجالي الزراعة والتعدين.

٢ الفيروز.

٣

وجه المقارنة	الطائرة	السفينة
نوع النقل	النقل الجوي	النقل المائي
المميزات	يتميز النقل الجوي بـ: يستخدم في نقل الركاب والبضائع سريعة التلف. يتميز بالسرعة والانتشار وتخطى المرتفعات والبحار.	يتميز النقل المائي بـ: أنه أرخص وسائل النقل. يستخدم في نقل البضائع كبيرة الحجم وثقيلة الوزن.

السؤال الثالث (ب):

١ شرم الشيخ.

٢ الإسكندرية.



إجابة الاختبار ٥

السؤال الأول:

- ١ المائي.
- ٢ المجلس المحلي.
- ٣ أون.
- ٤ إيزيس.
- ٥ الهكسوس.

السؤال الثاني:

- ١ أجب بنفسك.
- ٢ خطأ.
- ٣ صواب.
- ٤ صواب.
- ٥ صواب.

السؤال الثالث (أ):

- ١ أسيوط لأنها لا تعد من مدن قناة السويس.
- ٢ يترتب عليها الحفاظ على أرواح الناس وتقليل الحوادث، وضمان انسياب حركة المرور. (يكتفى باثنتين)
- ٣

قواعد المشاة	قواعد قيادة السيارة
<ul style="list-style-type: none">• استخدام كوبرى المشاة.• السير على الرصيف.	<ul style="list-style-type: none">• عدم تجاوز السرعة المحددة.• عدم استخدام الهاتف المحمول أثناء القيادة.

السؤال الثالث (ب):

- ١ القاهرة.
- ٢ دمياط.



امتحانات المحافظات والإدارات ٢٠٢٢م

تم تعديل الامتحانات طبقاً لأحدث تعديلات وزارة لسنة ٢٠٢٣م

محافظة القاهرة (إدارة شبرا التعليمية) مجاب عنه

١- اكتب كلمة (صواب) أمام العبارة الصحيحة، وكلمة (خطأ) أمام العبارة غير الصحيحة:

- ١- تُظهر الساعة السكانية نتائج التعداد السكاني الذي يتم إجراؤه كل عشر سنوات.
- ٢- استخدم المصريون القدماء الكتابة الهيروغليفية في تسجيل أخبارهم وإنجازاتهم.
- ٣- يعاون المجلس المحلي المحافظ في إدارة المحافظة.
- ٤- كانت طائرة الأخوين رايت أول طائرة في التاريخ.
- ٥- يتميز النقل المائي عن غيره بأنه أسرع ولكنه مرتفع التكلفة.

٢- ضع خطاً تحت الإجابة الصحيحة فيما بين القوسين:

- ١- يعد التراث النوبي في محافظة أسوان امتداداً للحضارة.....
- ٢- أتوقع أن المسئول عن إصدار قرار إعلان الحرب في حالة تعرض البلاد لأخطار خارجية هو.....
- ٣- يقع دير سانت كاترين في محافظة.....
- ٤- عند زيارتك للأهرامات الثلاثة فإنك تشاهد آثاراً ترجع للحضارة.....
- ٥- إذا أردت التمتع بالمناظر الخلابة والشعاب المرجانية فعليك زيارة مدينة.....

٣- (١) أجب عن الأسئلة التالية:

- ١- اكتب تفسيراً لأهمية السياحة في مصر.....
 - ٢- حدد سبباً واحداً لزيادة عدد أفراد الأسرة في الريف عن الحضر.
- (ب) أملك خريطة صماء لمصر، اكتب مدلول الأرقام التالية:

- ١- يشير رقم (١) إلى محافظة يوجد بها محمية تضم مجموعة من الأشجار المتحجرة على شكل قطع صخرية وهي محافظة.....
- ٢- يشير رقم (٢) إلى إحدى المحافظات الصحراوية التي يقل عدد سكانها عن مليون نسمة وهي محافظة.....
- ٣- يشير رقم (٣) على الخريطة إلى محافظة يوجد بها تمثال أبو الهول.....



محافظة القاهرة (إدارة حدائق القبة التعليمية) مجاب عنه

اكتب كلمة (صواب) أمام العبارة الصحيحة، وكلمة (خطأ) أمام العبارة غير الصحيحة:

- ١- بدأت العصور التاريخية بمعرفة الكتابة.
- ٢- كان الوزير على رأس نظام الحكم في مصر القديمة.
- ٣- يعد تناول الطعام والشراب بالمناطق الأثرية أمراً مقبولاً.
- ٤- أخذ الهكسوس العربات الحربية عن المصريين القدماء.
- ٥- يمكنك عبور الطريق إذا كانت إشارة المرور الضوئية الدائرية لونها أخضر.

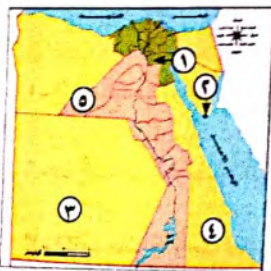
٢- اختر الإجابة الصحيحة مما بين القوسين:

- ١- عند التخطيط لنزهة نيلية أنت وأسررتك فتصح باستخدام.....
- ٢- يقع دير سانت كاترين في محافظة.....
- ٣- عند زيارتك للأهرامات الثلاثة فأنت تشاهد آثاراً ترجع للحضارة.....
- ٤- متابعة جودة الخدمات والمرافق في محافظتي من مهام.....
- ٥- السكان الذين يشتهرون بالعزف على آلة السمسمية هم سكان.....

٢- اكتب مدلول الأرقام على الخريطة التالية مستعيناً بالكلمات التالية:

(الجيزة - القاهرة - الوادي الجديد - رأس محمد - البحر الأحمر)

- ١- يشير رقم (١) إلى محافظة تتمتع بازدهار مناطق السياحة الثقافية؛ هي محافظة.....
- ٢- يشير رقم (٢) إلى محمية.....
- ٣- يشير رقم (٣) إلى إحدى المحافظات الصحراوية التي يقل عدد سكانها عن مليون نسمة؛ هي محافظة.....
- ٤- يشير رقم (٤) إلى محافظة من أقل محافظات مصر من حيث الأمية؛ هي محافظة.....
- ٥- يشير رقم (٥) إلى محافظة يوجد بها تمثال أبو الهول؛ هي محافظة.....



١- اكتب كلمة (صواب) أمام العبارة الصحيحة، وكلمة (خطأ) أمام العبارة غير الصحيحة:

- ١- تزداد نسبة الأمية بين الإناث عن الذكور. ()
- ٢- يقيم معظم السكان الذين يعملون بالزراعة في المدن. ()
- ٣- يساعد الاهتمام بالتراث الثقافي على زيادة عدد السائحين لمصر. ()
- ٤- شيدت الكنيسة المعلقة على أحد الأبراج الجنوبية لحصن بابلون. ()
- ٥- يمكنك استخدام النقل الجوي عندما تريد نقل بضائع سريعة التلف. ()

٢- ضع خطأ تحت الإجابة الصحيحة فيما بين القوسين:

- ١- يعد التراث النوبي في محافظة أسوان امتدادًا للحضارة
(المصرية القديمة - الرومانية - اليونانية - الإسلامية)
- ٢- تم تشييد القلاع والحصون في مصر قديمًا بهدف
(حماية البلاد - جذب السياح - توفير المساكن - توفير حياة كريمة)
- ٣- تم مد أول خط سكك حديد في مصر بين القاهرة و (السويس - الجيزة - الإسكندرية - المنيا)
- ٤- يجب عليك عند عبور الطريق الالتزام بقواعد عبور المشاة مثل
(استخدام كبارى العبور - ترك المقاعد لكبار السن - السير وسط الطريق - استخدام آلة تنبيه)
- ٥- تبذل الدولة جهودًا كبيرة للحفاظ على المناطق الأثرية منها
(تشجيع الاتجار في الآثار - ترميم المناطق الأثرية - استبدال الآثار بالمناطق السكنية - تشجيع السكان للبحث عن الآثار)

٣- (١) أمامك خريطة صماء لمصر، اكتب مدلول الأرقام التالية:



- ١- يشير رقم (١) على الخريطة إلى محافظة يوجد بها محمية تضم مجموعة من الأشجار المتحجرة على شكل قطع صخرية، وهي محافظة
 - ٢- يشير رقم (٢) على الخريطة إلى مدينة يوجد بها قلعة صلاح الدين، وهي مدينة
- (ب) اجب عن الأسئلة التالية:
- ١- اكتب تفسيرًا واحدًا لأهمية مجلس النواب المصري.

٢- ما رأيك في الموقف التالي؟ تستخدم نهى الهاتف المحمول وقتًا طويلاً في الألعاب الإلكترونية.

٣- اكتب مقترحًا واحدًا للحفاظ على المناطق الأثرية.

١- اكتب كلمة (صواب) أمام العبارة الصحيحة، وكلمة (خطأ) أمام العبارة غير الصحيحة:

- ١- يختلف توزيع سكان مصريين المحافظات. ()
- ٢- يمثل رئيس الجمهورية السلطة القضائية في مصر. ()
- ٣- عند زيارتك لمدينة دهب على ساحل البحر الأحمر فانت تقوم بسياحة علاجية. ()
- ٤- توضح علامات المرور الأرضية مسارات تحرك السيارات. ()
- ٥- أخذ الهكسوس العربيات الحربية عن المصريين القدماء. ()

٢- ضع خطأ تحت الإجابة الصحيحة مما بين القوسين:

- ١- الأمية في مصر من المشكلات (الاقتصادية - السياسية - الاجتماعية - النفسية)
- ٢- الجهة المسئولة عن سن القوانين في مصر هي
(مجلس النواب - المجلس المحلي - دار القضاء العالي - مجلس الوزراء)
- ٣- الشخص الذي يعاني من بعض الأمراض الجلدية يمكنه زيارة
(واحة سيوة - الجيزة - مدينة الإسكندرية - مدينة القاهرة)
- ٤- ننصح زميلك عند زيارته لأحد الأماكن الأثرية بأن يقوم بـ
(تصوير القطع الأثرية - تناول الأطعمة والمشروبات - تسجيل زيارته على قطعة أثرية - المحافظة على نظافة المكان)
- ٥- تطوير الطريق الدائري دليل على جهود الدولة بتطوير طرق النقل
(البحري - النهري - البري - الجوي)

٣- (١) أمامك خريطة صماء لمصر، اكتب مدلول الأرقام التالية:



- ١- يشير رقم (١) إلى أقل محافظات مصر سكانًا وهي محافظة
 - ٢- يشير رقم (٢) إلى محافظة تم إنشاء متحف النوبة بها
 - ٣- يشير رقم (٣) إلى محافظة يوجد بها تمثال أبو الهول
- (ب) اجب عن الأسئلة التالية:

١- اكتب نتيجة واحدة قد تترتب على عدم تنظيم الأسرة في مصر.

٢- ما رأيك في الموقف التالي؟ شخص يساعد امرأة عجوزًا في عبور الطريق.

١- اكتب كلمة (صواب) أمام العبارة الصحيحة، وكلمة (خطأ) أمام العبارة غير الصحيحة:

- ١- يختلف توزيع سكان مصريين المحافظات.
- ٢- تتشابه لهجات السكان في كل البيئات المصرية.
- ٣- تزداد نسبة الأمية بين الإناث عن الذكور.
- ٤- أسس بنك مصر أول شركة طيران في العالم.
- ٥- تعد مصر أولى الدول عربيًا وإفريقيًا في إنشاء مترو الأنفاق.

٢- ضع خطًا تحت الإجابة الصحيحة فيما بين القوسين:

- ١- يعد التراث النوبي في محافظة أسوان امتدادًا للحضارة
(المصرية القديمة - الرومانية - اليونانية - الإسلامية)
- ٢- تؤدي البطالة إلى ارتفاع
(متوسط عمرا الأفراد - معدل الرفاهية - معدل الادخار - معدل الجريمة)
- ٣- متابعة جودة الخدمات والمرافق في محافظتي من مهام
(رئيس الوزراء - الوزراء - المحافظ - رئيس الجمهورية)
- ٤- أرسل الملك سنفرورحلاته التجارية إلى بلاد فينيقيا باستخدام
(السيارات - السفن - الطائرات - القطارات)
- ٥- تم مد أول خط هاتفى في مصر بين القاهرة و.....
(السويس - الإسكندرية - الإسماعيلية - الجيزة)

٣- (١) أجب عن الأسئلة الآتية:

١- اكتب تفسيرًا واحدًا لأهمية السكك الحديدية.

٢- اكتب دليلًا واحدًا على اهتمام مصر بالتنمية السياحية.

(ب) أمامك خريطة صماء لمصر، اكتب مدلول الأرقام التالية:

- ١- يشير رقم (١) إلى إحدى المحافظات الصحراوية التي يقل بها عدد السكان عن مليون نسمة وهى
- ٢- يشير رقم (٢) إلى محافظة تشتهر بسباق الهجن وهى
- ٣- يشير رقم (٣) إلى محافظة بها ميناء الغردقة وميناء سفاجا وهى



١- اكتب كلمة (صواب) أمام العبارة الصحيحة، وكلمة (خطأ) أمام العبارة غير الصحيحة:

- ١- أدى الزواج المبكر إلى زيادة نسبة السكان في الريف بمصر.
- ٢- يمثل رئيس الجمهورية السلطة القضائية في مصر.
- ٣- تضم منطقة وادي الحيطان مجموعة من الأشجار المتحجرة على شكل قطع صخرية.
- ٤- بنى المصريون القدماء الأهرامات شرق البحر الأحمر لتكون بعيدة عن الفيضان.
- ٥- لتحقيق النقل المستدام قامت مصر بتحويل السيارات التي تعمل بالغاز الطبيعي إلى بنزين.

٢- ضع خطًا تحت الإجابة الصحيحة فيما بين القوسين:

- ١- الأمية في مصر من المشكلات
(الاقتصادية - السياسية - الاجتماعية - النفسية)
- ٢- الشخص الذى يعانى من بعض الأمراض الجلدية يمكنه زيارة
(واحة سيوة - الجيزة - مدينة الإسكندرية - مدينة القاهرة)
- ٣- عند زيارتك لإحدى المناطق الأثرية عليك الالتزام ب.....
(تصوير القطع الأثرية - التقاط الصور بجوار الآثار - حسن معاملة السياح - كتابة عبارات تذكارية على الآثار)
- ٤- تعد السكك الحديدية المصرية ثانى خطوط تم مدها عالمياً بعد خطوط السكك الحديدية فى
(المملكة المتحدة - المملكة الأردنية - فرنسا - الولايات المتحدة)
- ٥- تطوير الطريق الدائرى دليل على جهود الدولة بتطوير طرق النقل
(البحرى - النهري - البرى - الجوى)

٣- (١) أجب عن الأسئلة الآتية:

١- دلل على صحة العبارة (المحافظ يقوم ببعض مهام رئيس الجمهورية فى محافظته).

٢- اكتب سببًا واحدًا لتسجيل الحكومة المصرية منطقة وادي الريان كمحمية طبيعية.



(ب) أمامك خريطة صماء لمصر، اكتب مدلول الأرقام التالية:

- ١- يشير رقم (١) إلى منطقة تشتهر بالاحتفال بعيد حصاد التمور والزيتون كل عام
- ٢- يشير رقم (٢) إلى محافظة تم إنشاء متحف النوبة بها
- ٣- يشير رقم (٣) إلى محافظة تشتهر بسباق الهجن هى

محافظة الغربية (إدارة شرق المحلة الكبرى التعليمية) مجاب عنه

(1) لاحظ الخريطة المقابلة، واستنتج:

- ١- يشير رقم (١) إلى محافظة بها موقع أثري مسجل على قائمة التراث العالمي وهي محافظة
- ٢- يشير رقم (٢) إلى المتحف القومي للحضارة بمحافظة
- ٣- يشير رقم (٣) لمنطقة أثرية معرضة لتآكل التربة والمباني، وهي منطقة



(ب) اجب عن الأسئلة التالية:

- ١- حدد سببًا واحدًا: لاستخدام الحمام الزاجل في إرسال الرسائل قديمًا.
- ٢- اكتب مقترحًا واحدًا: لتقليل الآثار السلبية المترتبة على استخدام السيارات.

(٢) اكتب كلمة (صواب) أمام العبارة الصحيحة، وكلمة (خطأ) أمام العبارة غير الصحيحة:

- ١- يعمل معظم سكان الحضرة بالتجارة والصناعة والخدمات. ()
- ٢- يمثل أعضاء مجلس النواب جميع فئات المجتمع المصري. ()
- ٣- تقلل الأمية من فرص العمل المتاحة أمام الفرد. ()
- ٤- يتشابه حكام الأقاليم قديمًا والمحافظةين حاليًا في بعض المهام المكلفين بها. ()
- ٥- تم إنشاء القلاع لحماية البلاد من الأعداء، وهي تعد من مناطق التراث الطبيعي. ()

(٣) اختر الإجابة الصحيحة مما بين القوسين:

- ١- تنصح زميلًا لك باستخدام النقل المائي؛ وذلك لأنه
- (أرخص وسائل النقل - أغلى وسائل النقل - أسرع وسائل النقل - منتشر في كل محافظات مصر)
- ٢- استخدم الإنسان قديمًا في إرسال الرسائل (النار - الهاتف - البريد - الحمام الزاجل)
- ٣- إذا أردت التمتع بالمناظر الخلابة والشعاب المرجانية، فعليك بزيارة مدينة
- (مرسى مطروح - شرم الشيخ - الإسكندرية - العلمين)
- ٤- تنصح زميلك عند زيارته تُحد الأماكن الأثرية بأن يقوم بـ
- (تصوير القطع الأثرية - تناول الأطعمة والمشروبات - تسجيل زيارته على قطعة أثرية - المحافظة على نظافة المكان)
- ٥- يوجد برج القاهرة في جزيرة
- (فرعون - شدوان - الزمالك - الروضة)

محافظة الدقهلية (إدارة بلقاس التعليمية) مجاب عنه

ضع علامة (✓) أمام العبارة الصحيحة، وعلامة (X) أمام العبارة غير الصحيحة:

- () تعد مدينة طيبة من المواقع التراثية المسجلة على قائمة التراث العالمي.
- () شيدت الكنيسة المعلقة على أحد الأبراج الجنوبية لحصن بابلون.
- () تراعى المدونة العالمية لأخلاقيات السياحة حقوق ذوي الاحتياجات الخاصة والأطفال والشيوخ.
- () تعد الدراجة البخارية من وسائل النقل النظيفة.
- () يساعد التطور العلمي وزارة الداخلية على مكافحة الجرائم.

ضع خطًا تحت الإجابة الصحيحة فيما بين القوسين:

إذا أردت الاستمتاع بشكل هياكل الحيتان التي تكونت في مصر منذ ٤٠ مليون سنة فإنك ستزور إحدى المحميات الطبيعية في محافظة (القاهرة - البحيرة - الفيوم - أسوان)

يمكنك استخراج جواز سفر من خلال موقع

(بنك المعرفة المصري - بوابة مصر الرقمية - منصة مصر التعليمية - التحول الرقمي)

إذا أرادت الدولة جمع بيانات عن سكانها لتلبية احتياجاتهم في المستقبل فعليها إجراء

(حصار للاحتياجات - تعداد سكاني - حصر للوفيات - حصر للمتقدمين للخدمة العسكرية)

السكان الذين يشتهرون بالعزف على الآلة المقابلة هم سكان

(مدن القناة - الصعيد - سيناء - واحة سيوة)

منابعة جودة الخدمات والمرافق في محافظتي من مهام

(رئيس الوزراء - الوزراء - المحافظ - رئيس الجمهورية)

(1) أجب عن الأسئلة الآتية:

١- استبعد المكان الذي لا ينتمي للمجموعة التالية، مع ذكر السبب.

(دير سانت كاترين - منطقة أبو مينا - معبد أبو سمبل - المتحف المصري الكبير).

٢- اكتب دليلًا واحدًا على اهتمام سكان محافظة الفيوم بحماية

وادي الريان.

(ب) أمامك خريطة صماء لمصر، اكتب مدلول الأرقام التالية:

١- يشير رقم (١) إلى

٢- يشير رقم (٢) إلى

٣- يشير رقم (٣) إلى



محافظة دمياط (إدارة دمياط التعليمية) مجاب عنه

١- اكتب كلمة (صواب) أمام العبارة الصحيحة، وكلمة (خطأ) أمام العبارة غير الصحيحة:

١- يختلف توزيع سكان مصريين المحافظات. ()

٢- يشابه لهجات السكان في كل البيئات المصرية. ()

٣- يمثل أعضاء مجلس النواب جميع فئات المجتمع المصري. ()

٤- يشرف المحافظ على المشروعات القومية بالدولة. ()

٥- تعد مصر أولى الدول عربيًا وإفريقيًا في إنشاء مترو الأنفاق. ()

٦- ضع خطًا تحت الإجابة الصحيحة فيما بين القوسين:

١- يمثل السلطة التشريعية في مصر

(مجلس الوزراء - مجلس النواب - المجلس المحلي - مجلس الدولة)

٢- المنظمة التي خصصت يومًا عالميًا للتوعية بحماية التراث الوطنى هي منظمة

(اليونيسيف - السياحة - الفاو - اليونسكو)

٣- تنصح زميلك عند زيارته لأحد الأماكن الأثرية بأن يقوم ب.....

(تصوير القطع الأثرية - تناول الأطعمة والمشروبات - تسجيل زيارته على قطعة أثرية - المحافظة على نظافة المكان)

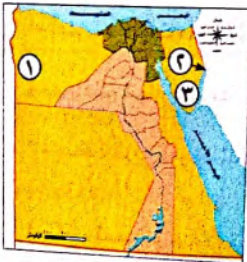
٤- إذا كنت ترغب فى نقل بضائع كبيرة الحجم وثقيلة الوزن فعليك باختيار.....

(النقل البرى - النقل المائى - النقل الجوى - الشاحنات)

٥- كتب المصرى القديم الرسائل على ورق

(البردى - التوت - الكتان - العنب)

٣ (١) لاحظ الخريطة المقابلة، واكتب مدلول الأرقام على الخريطة:



١- يشير رقم (١) على الخريطة إلى منطقة تشتهر بالاحتفال بعيد حصاد التمور والزيتون كل عام

٢- يشير رقم (٢) على الخريطة إلى مدينة يوجد بها قلعة صلاح الدين، وهى مدينة

٣- يشير رقم (٣) على الخريطة إلى محافظة بها موقع أثرى مسجل على قائمة التراث العالمى، وهى محافظة

(ب) ما رايك فى الموقف التالى...؟

شخص يساعد امرأة عجوزًا فى عبور الطريق.

(ج) اكتب تفسيرًا لأهمية السياحة فى مصر.

محافظة البحيرة (إدارة ابوالمظاير التعليمية) مجاب عنه

١- اكتب كلمة (صواب) أمام العبارة الصحيحة، وكلمة (خطأ) أمام العبارة غير الصحيحة:

١- يتنوع التراث الثقافى لسكان مصر لتنوع المناطق التى يعيشون فيها. ()

٢- استخدم الجيش المصرى اللغة المصرية القديمة كشفرة فى حرب أكتوبر ١٩٧٣. ()

٣- تزداد نسبة الأمية بين الإناث عن الذكور. ()

٤- الشخص الذى يحتاج إلى علاج واستجمام عليه زيارة العيون الكبريتية بسيوة. ()

٥- تُعد السفن أول وسيلة نقل مائى عرفها المصرى القديم. ()

٢- ضع خطًا تحت الإجابة الصحيحة فيما بين القوسين:

١- إذا أرادت الدولة جمع بيانات عن سكانها لتلبية احتياجاتهم فى المستقبل فعليها إجراء

(حصر للاحتياجات - تعداد سكانى - حصر للمتقدمين للخدمة العسكرية)

٢- الجهة المسئولة عن سن القوانين فى مصر هي

(مجلس النواب - المجلس المحلى - دارالقضاء العالى - مجلس الوزراء)

٣- استخدم الإنسان قديمًا فى إرسال الرسائل

(النار - الهاتف - البريد - الحمام الزاجل)

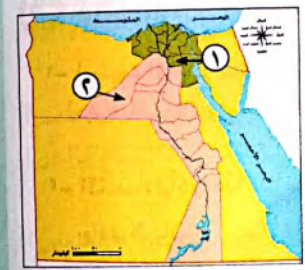
٤- انقطعت المياد عن محافظة المنوفية لمدة ثلاثة أيام، الشخص المسئول عن متابعة هذه المشكلة وحلها هو

(رئيس الجمهورية - المحافظ - وزير الموارد المائية والرى - رئيس الوزراء)

٥- المنظمة التى خصصت يومًا عالميًا للتوعية بحماية التراث الوطنى هي منظمة

(اليونيسيف - الفاو - السياحة - اليونسكو)

٣ (١) لاحظ الخريطة المقابلة، واكتب مدلول الأرقام على الخريطة:



١- يشير رقم (١) على الخريطة إلى محافظة يوجد بها محمية تضم مجموعة من الأشجار المتحجرة على شكل قطع صخرية هي محافظة

٢- يشير رقم (٢) على الخريطة إلى أعلى المحافظات سكانًا

(ب) اجب عن الأسئلة التالية:

١- استبعد المكان الذى لا ينتمى للمجموعة التالية مع ذكر السبب: (دير سانت كاترين - منطقة أبو مينا - معبد أبو سمبل - المتحف المصرى الكبير)

٢- اكتب تفسيرًا واحدًا لأهمية مجلس النواب

٣- اكتب دليلًا واحدًا على اهتمام المصريين القدماء بالتعليم

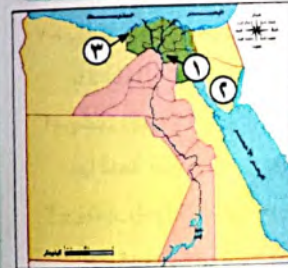
١- اكتب كلمة (صواب) أمام العبارة الصحيحة، وكلمة (خطأ) أمام العبارة غير الصحيحة،

- ١- أدى الزواج المبكر إلى زيادة نسبة السكان في الريف بمصر.
- ٢- يشتهر سكان سيناء بإقامة سباقات الهجن.
- ٣- يُشرف المحافظ على المشروعات القومية بالدولة.
- ٤- أخذ الهكسوس العربات الحربية من المصريين القدماء.
- ٥- إذا رأيت العلامة المرورية على الطريق فهذا يعني وجود محطة وقود.

٢- ضع خطًا تحت الإجابة الصحيحة فيما بين القوسين:

- ١- الأمية في مصر من المشكلات
(الاقتصادية - السياسية - الاجتماعية - النفسية)
- ٢- كتب المصري القديم الرسائل على ورق
(التوت - البردى - الكتان - العنب)
- ٣- يتولى رئيس الجمهورية الرئاسة عن طريق
(التعيين - الانتخاب - التوريث - التحكيم)
- ٤- يوجد برج القاهرة في جزيرة
(شدران - فرعون - الزمالك - الروضة)
- ٥- المصدر الأول للعملات الأجنبية في مصر تمثل في النشاط
(الزراعي - الرعوي - الصناعي - السياحي)

٣- (١) لاحظ الخريطة المقابلة، واكتب مدلول الأرقام عليها:



- ١- أعلى محافظات مصر سكانًا
- ٢- محافظة تتمتع بسياحة ترفيهية وعلاجية
- ٣- منطقة أثرية معرضة لتآكل التربة والمباني، وهي منطقة
(ب) أجب عن الأسئلة التالية:
- ١- اكتب تفسيرًا واحدًا لأهمية مجلس النواب.
- ٢- اكتب أحد أدواركم كمواطن للحفاظ على الآثار

ضع علامة (✓) أمام العبارة الصحيحة، وعلامة (X) أمام العبارة غير الصحيحة:

- ١- إذا رأيت العلامة المرورية على الطريق فهذا يعني وجود محطة وقود.
- ٢- يتنوع التراث الثقافي لسكان مصر بتنوع المناطق التي يعيشون فيها.
- ٣- تزداد نسبة الأمية بين الإناث عن الذكور.
- ٤- تساعدنا قائمة التراث العالمي على معرفة مواقعنا التراثية الثقافية والطبيعية.
- ٥- بنى المصريون القدماء الأهرامات شرق البحر الأحمر لتكون بعيدة عن الفيضان.

ضع خطًا تحت الإجابة الصحيحة فيما بين القوسين:

- ١- إذا أردت الاستمتاع بشكل هياكل الحيتان التي تكونت في مصر منذ ٤٠ مليون سنة فإنك ستزور إحدى المحميات الطبيعية في محافظة
(القاهرة - البحيرة - الفيوم - أسوان)
- ٢- عندما تريد الإقامة في محافظة حضرية فعليك التوجه إلى محافظة
(الوادي الجديد - بورسعيد - الجيزة - المنيا)
- ٣- الجهة المسؤولة عن سن قوانين لحماية الأطفال ومنع استغلالهم هي:
(السلطة القضائية - السلطة التشريعية - السلطة التنفيذية - السلطة المحلية)
- ٤- للمحافظة على البيئة من التلوث علينا استخدام مصادر الطاقة النظيفة مثل:
(البترول - البنزين - الطاقة الشمسية - الفحم)
- ٥- تم مد أول خط سكة حديد في مصر بين القاهرة و..... (السويس - الجيزة - الإسكندرية - المنيا)

(١) أجب عن الأسئلة الآتية:



- ١- حدد سببًا واحدًا لضرورة الالتزام بقواعد وآداب المرور
- ٢- اكتب نتيجة واحدة ترتبت على معرفة الإنسان للكتابة
- (ب) امامك خريطة صماء لمصر، اكتب مدلول الأرقام التالية:
- ١- يشير رقم (١) على الخريطة إلى محافظة بها موقع أثري مسجل على قائمة التراث العالمي وهي محافظة
- ٢- يشير رقم (٢) على الخريطة إلى منطقة أثرية معرضة لتآكل التربة والمباني وهي منطقة
- ٣- يشير رقم (٣) على الخريطة إلى محمية تضم هياكل وعظام لحيتان ضخمة وحفريات لأسماك أخرى توجد في محافظة

١ (١) لاحظ الخريطة المقابلة، وكتب مدلول الأرقام عليها:



- ١- يشير رقم (١) إلى محمية
- ٢- يشير رقم (٢) إلى محافظة يوجد بها تمثال أبو الهول، وهي محافظة
- ٣- يشير رقم (٣) إلى منطقة أثرية معرضة لتآكل التربة والمباني، وهي منطقة

(ب) حدد سببًا واحدًا لكل من:

١- أهمية منصب رئيس الجمهورية.

٢- أهمية السياحة في مصر.

٢ (١) ضع خطًا تحت الإجابة الصحيحة فيما بين القوسين:

- ١- تؤدي البطالة إلى ارتفاع (متوسط عمر الأفراد - معدل الرفاهية - معدل الادخار - معدل الجريمة)
- ٢- متابعة جودة الخدمات والمرافق في محافظتي من مهام (رئيس الوزراء - الوزراء - المحافظ - رئيس الجمهورية)
- ٣- استخدم المصريون القدماء وسائل النقل المائي، مثل (البواخر - الغواصات - ناقلات النفط - القوارب)
- ٤- للمحافظة على البيئة من التلوث علينا استخدام مصادر الطاقة النظيفة، مثل (البترو - البنزين - الطاقة الشمسية - الفحم)

(ب) ماذا تقول لشخص يتحدث في الهاتف أثناء قيادة السيارة؟

٣ (١) اكتب كلمة (صواب) أمام العبارة الصحيحة، وكلمة (خطأ) أمام العبارة غير الصحيحة:

- ١- يساعد تنظيم الأسرة على زيادة عدد الأطفال لدى الأسرة. ()
- ٢- تتشابه لهجات السكان في كل البيئات المصرية. ()
- ٣- استخدام ضوء الكاميرا عند التقاط الصور يمكن أن يؤثر سلبًا على الأماكن الأثرية. ()
- ٤- بدأت العصور التاريخية بمعرفة الإنسان الكتابة. ()

(ب) اكتب مقترحًا واحدًا للحفاظ على المناطق الأثرية.

اكتب كلمة (صواب) أمام العبارة الصحيحة، وكلمة (خطأ) أمام العبارة غير الصحيحة:

- ١- يقسم معظم السكان الذين يعملون بالزراعة في المدن. ()
- ٢- يختار رئيس الجمهورية نصف أعضاء مجلس النواب. ()
- ٣- منطقة القاهرة التاريخية من أهم وأكبر المدن التراثية في العالم. ()
- ٤- ترتب على إنشاء الكبارى والمحاور زيادة زمن رحلة الوصول بين الأماكن. ()
- ٥- تعد مصر أولى الدول عربيًا وإفريقيًا في إنشاء مترو الأنفاق. ()

ضع خطًا تحت الإجابة الصحيحة فيما بين القوسين:

تؤدي مشكلات الأمية والفقر والبطالة إلى ارتفاع

(متوسط عمر الأفراد - معدل الرفاهية - معدل الادخار - معدل الجريمة)

متابعة جودة الخدمات والمرافق في محافظتي من مهام

(رئيس الوزراء - الوزراء - المحافظ - رئيس الجمهورية)

يمثل حضور والدك مؤتمر النقل الذكي نموذجًا ل.....

(السياحة الترفيهية - السياحة الثقافية - سياحة المؤتمرات والمهرجانات - السياحة العلاجية)

تتصح زميلك عند زيارته لأحد الأماكن الأثرية بأن يقوم ب.....

(تصوير القطع الأثرية - تناول الأطعمة والمشروبات - تسجيل زيارته على قطعة أثرية - المحافظة على نظافة المكان)

عند التخطيط لنزهة نيلية أنت وأسررتك تنصح باستخدام

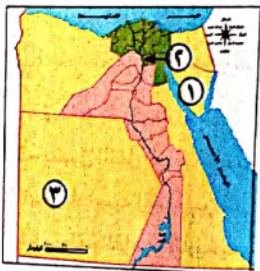
(دراجة بخارية - السيارة - الغوصة - الأتوبيس النهري)

(١) أجب عن السؤالين الآتيين:

١- اكتب نتيجة واحدة ترتبت على اعتقاد المصريين القدماء في البعث والخلود.

٢- ما العلاقة بين استخدام السيارات والبيئة؟

(ب) أمام خريطة صماء لمصر، اكتب مدلول الأرقام التالية:



١- يشير رقم (١) إلى محافظة تتمتع بسياحة ترفيهية وعلاجية معًا هي محافظة

٢- يشير رقم (٢) إلى محافظة تتمتع بازدهار مناطق السياحة الثقافية هي محافظة

٣- يشير رقم (٣) إلى إحدى المحافظات الصحراوية التي يقل عدد سكانها عن مليون نسمة وهي محافظة

١) لاحظ الخريطة المقابلة واكتب مدلول الأرقام على الخريطة:



- ١- يشير رقم (١) على الخريطة إلى منطقة تشتهر بعيد السياحة
- ٢- يشير رقم (٢) على الخريطة إلى محمية
- ٣- يشير رقم (٣) على الخريطة إلى أعلى محافظات مصر من حيث الأمية محافظة
- ٤- يشير رقم (٤) على الخريطة إلى مدينة بها قلعة صلاح الدين

(ب) بم تفسر؟

- أهمية السياحة في مصر.

٢) ضع خطًا تحت الإجابة الصحيحة فيما بين القوسين:

- ١- تظهر أعداد السكان بصفة مستمرة. (الساعة السكانية - نشرة الأخبار - الخريطة - نشرة الأرصاد)
- ٢- عدم قدرة الفرد على القراءة والكتابة تسمى (الأمية الهجائية - الأمية المعلوماتية - البطالة - الفقر)
- ٣- يتولى رئيس الجمهورية الرئاسة عن طريق (التعيين - الانتخاب - التوريث - التحكيم)

- ٤- كتب المصري القديم الرسائل على ورق
- ٥- من وسائل الاتصال حديثًا (التوت - الكتان - البردى - العنب) (الإنترنت - الرسائل الورقية - الدخان - الطبول)

٣) ضع علامة (✓) أمام العبارة الصحيحة، وعلامة (X) أمام العبارة غير الصحيحة:

- ١- تساعد الحكومة رئيس الجمهورية في إدارة شئون البلاد. ()
- ٢- يشمل النقل المائي الطرق البرية والسكك الحديدية. ()
- ٣- تزداد نسبة الأمية بين الذكور عن الإناث. ()
- ٤- منطقة القاهرة التاريخية من أهم المدن التراثية في العالم. ()
- ٥- مجلس الشيوخ يؤخذ برأيه في معاهدات الصلح ومشروعات القوانين. ()

اكتب كلمة (صواب) أمام العبارة الصحيحة، وكلمة (خطأ) أمام العبارة غير الصحيحة:

- ١- يشتهر سكان سيناء بإقامة سباقات الهجن. ()
 - ٢- تم تشييد برج القاهرة على شكل زهرة اللوتس. ()
 - ٣- أخذ الهكسوس العربات الحربية عن المصريين القدماء. ()
 - ٤- كلما اتسع النشاط السياحي في الدولة ازدادت نسبة البطالة. ()
 - ٥- تقلل الأمية من فرص العمل المتاحة أمام الفرد. ()
- ضع خطًا تحت الإجابة الصحيحة فيما بين القوسين:

١- يمكنك استخراج جواز سفر من خلال موقع

(بنك المعرفة المصري - بوابة مصر الرقمية - منصة مصر التعليمية - التحويل الرقمي)

٢- أسهمت منظمة اليونيسكو في إنقاذ إحدى المناطق الأثرية في مصر من الغرق وهي

(معبدا أبو سمبل - دير سانت كاترين - منطقة أومينا - وادي الريان)

٣- إذا كنت ترغب في نقل بضائع كبيرة الحجم وثقيلة الوزن فعليك باختيار

(النقل البري - النقل المائي - النقل الجوي - الشاحنات)

٤- يجب عليك عند عبور الطريق الالتزام بقواعد عبور المشاة مثل

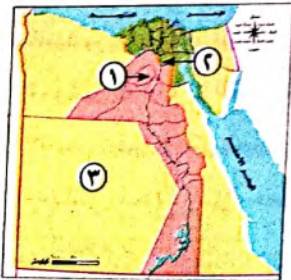
(استخدام كيارى العبور - ترك المقاعد لكبار السن - السير وسط الطريق - استخدام آلة تنبيه)

٥- يقابل منصب المحافظ حاليًا منصب قديمًا. (الفرعون - الوزير - حاكم الإقليم - الكاتب)

(١) أجب عن الأسئلة التالية:

اكتب سببًا واحدًا لحدوث السباح لزيارة بلادنا

(ب) أمامك خريطة صماء لمصر، اكتب مدلول الأرقام التالية:



- ١- يشير رقم (١) إلى محمية وادي الريان والتي تقع في (الصحراء الشرقية - الصحراء الغربية - شبه جزيرة سيناء - الدلتا)
- ٢- يشير رقم (٢) إلى مدينة من أكبر المدن التراثية في العالم، وهي (السويس - الإسكندرية - القاهرة - طابا)
- ٣- يشير رقم (٣) إلى إحدى المحافظات الصحراوية التي يقل عدد سكانها عن مليون نسمة، وهي محافظة

اخترا الإجابة الصحيحة مما بين القوسين:

- النشاط الاقتصادي الأصلي لسكان البدو هو (الزراعة - الصناعة - التجارة - الرعي)
- السكان الذين يشتهرون بالعزف على آلة السمسمية هم سكان
- ثاني أعلى محافظات مصر من حيث نسبة الأمية محافظة
- يتولى رئيس الجمهورية الرئاسة عن طريق (التعيين - الانتخاب - التوريث - التحكيم)
- يقع دير سانت كاترين في محافظة

(شمال سيناء - جنوب سيناء - البحر الأحمر - مرسى مطروح)

اكتب كلمة (صواب) أمام العبارة الصحيحة، وكلمة (خطأ) أمام العبارة غير الصحيحة:

- عند زيارتك لمعرض القاهرة الدولي للكتاب فأنت تقوم بسياحة علاجية.
- يعد تناول الطعام والشراب بجوار المناطق الأثرية أمرًا مقبولًا.
- تعد السفن أول وسيلة نقل مائي عرفها المصري القديم.
- بدأت العصور التاريخية بمعرفة الإنسان للكتابة.
- استخدم الإنسان قديمًا في إرسال الرسائل الهاتف.

(1) أمامك خريطة لجمهورية مصر العربية وضع عليها مدلول الأرقام التالية:



- يشير رقم (1) إلى البحر
- يشير رقم (2) إلى الصحراء
- يشير رقم (3) إلى بحيرة
- يشير رقم (4) إلى محافظة توجد بها مدينة لقبها مدينة السلام

(ب) اكتب تفسيرًا لأهمية السياحة في مصر.

الإجابات النموذجية

المحور الثالث المجتمع والثقافة

الوحدة الأولى: السكان ونظام الحكم في بلدنا

الدرس الأول: أنماط سكان بلدنا

إجابة تدريب (الدرس الأول: أنماط سكان بلدنا)

٢- البدو	٤- تنظيم الأسرة
٥- الريف	
٢- (X)	٤- (X)
٦- (✓)	٥- (✓)
٩- (X)	٨- (X)
١٢- (X)	١١- (✓)

(ب) عشر سنوات
(د) الرعي
(أ) أهمية تنظيم الأسرة

٢- الإسلام
٣- الريف
٥- إيجابيًا

٢- بورسعيد

(أ) القاهرة

(ب) الشرقية والبحيرة

(أ) الإسكندرية - أسبوط.

٢- ندرة المياه

ترب عليه زيادة عدد الأطفال في الأسرة الواحدة، ويؤثر ذلك سلبيًا على صحة الأم، ورفاهة وفيات الأطفال الرضع.

يجب بنفسك من خلال دراستك لأهمية تنظيم الأسرة.

إجابة أسئلة امتحانات الإجازات

٢- القاهرة

٢- الجهاز المركزي للتعبئة العامة والإحصاء

- بسبب صعوبة مظاهر سطحها وندرة المياه بها.
- يرجع ذلك إلى كثرة اتجاهات الزواج المبكر في الريف المصري.
- كان يساعد الأسرة على تربية الطفل وتعليمه بشكل جيد ويحافظ على صحة المرأة.

٢- (خطأ)

٥- (خطأ)

٣- (صواب)

٦- (صواب)

إجابة اختبار نفسك (أنماط سكان بلدنا)

٢- (ب) التعبئة العامة والإحصاء

٤- (أ) الخدمات

٥- (د) مطروح

٣- مساكن

٥- عدد سكان مصر

١ (أ) - (خطأ)
٢ - (صواب)
٣ - (خطأ)
(ب)

وجه المقارنة	سكان الحضر	سكان الريف
أماكن سكنهم	المدن	القرى
الحرفة السائدة	الصناعة والتجارة والسياحة والخدمات	زراعة وتربية الحيوان

الدرس الثاني: التراث الثقافي لسكان بلدنا

إجابة تدريب (الدرس الثاني: التراث الثقافي لسكان بلدنا)

١- التماثيل	٢- المنصبة
٣- التحطيب	٤- متحف التوبة

١- (✓)	٢- (✓)
٤- (X)	٥- (X)
٧- (X)	

١- سيوة	٢- الزراعة
٣- القناة	٤- التوبة

١- (ج) أكتوبر	٢- (ب) القناة
٤- (أ) التوبة	٥- (د) رأس السنة
٧- (د) السياحة	٨- (أ) حويس

١- (ب) الصعيد	٢- (ب) القناة
٤- (ج) قنا	٥- (د) رأس السنة
٦- (ج) قنا	

١- (ب) الصعيد	٢- (ب) القناة
٤- (ج) قنا	٥- (د) رأس السنة
٦- (ج) قنا	

١- (ب) الصعيد	٢- (ب) القناة
٤- (ج) قنا	٥- (د) رأس السنة
٦- (ج) قنا	

وجه المقارنة	سكان بورسعيد	سكان التوبة
مظاهر التراث	يشتهرون بالأغاني المرتبطة بألحان «السمسمية» ويؤدون رقصة فولكلورية تعرف باسم «البمبوطية»	الاحتفال في يوم ٧ يوليو من كل عام باليوم العالمي ويرتدون الملابس المحلية ويردون الأغاني التراثية

١- يساهم في: تنشيط السياحة - توفير فرص عمل للشباب - زيادة الدخل القومي.
٢- لأنه في منتصف شهر أكتوبر يجذب الاحتفال بالحصاد الكثير من السياح.

إجابة أسئلة امتحانات الإجازات

١- بورسعيد	٢- المصرية القديمة
٣- الزراعة والسياحة	

١- أسوان	٢- واحة سيوة
٣- جنوب سيناء	

١- (خطأ)	٢- (صواب)
٣- (صواب)	٤- (خطأ)

١- إقامة المهرجانات والمعارض التي تتضمن عروضًا فنية ومنتجات تراثية - إقامة المتاحف التي تجذب السياح لمشاهدتها والاستمتاع بها.
٢- يساهم في: - تنشيط السياحة - توفير فرص عمل للشباب.
٣- زيادة الدخل القومي

١- (أ) القناة	٢- (ب) التوبة
٣- (ب) معابد الآلهة	٤- (أ) التمورل والزيتون

١- التراث الثقافي	٢- سباق الهجن
٤- الصورة الهلالية	٥- البمبوطية

١ (أ) - (✓)	٢ - (✓)
٣ - (X)	

إجابة اختبار نفسك (التراث الثقافي لسكان بلدنا)

١- (أ) القناة	٢- (ب) التوبة
٣- (ب) معابد الآلهة	٤- (أ) التمورل والزيتون

١- التراث الثقافي	٢- سباق الهجن
٤- الصورة الهلالية	٥- البمبوطية

١ (أ) - (✓)	٢ - (✓)
٣ - (X)	

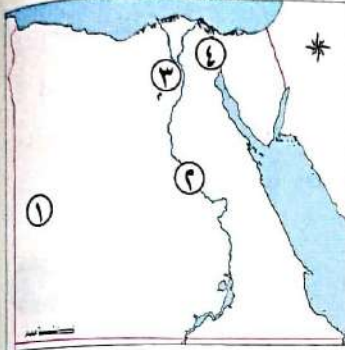
(ب) بسبب تنوع البعثات المصرية.

النموذج الأول

مجاب عنه

السؤال الأول

(١) أمامك خريطة صماء لمصر، ادرسها ثم اختر ما تشير إليه الأرقام مما بين القوسين:



١- يشير رقم (١) إلى

(الصحراء الغربية - الصحراء الشرقية - شبه جزيرة

سيناء - وادي النيل)

٢- يشير رقم (٢) إلى

(الدلتا - الصحراء الغربية - وادي النيل - الصحراء

الشرقية)

٣- يشير رقم (٣) إلى محافظة

٤- يشير رقم (٤) إلى

(ب) فسر بذكر سبب واحد:

١- استخدام المصريين القدماء السفن.

٢- استخدام النقل المائي.

السؤال الثاني

(١) اكتب كلمة (صواب) أمام العبارة الصحيحة، وكلمة (خطأ) أمام العبارة غير الصحيحة فيما يلي:

١- تجاوز السرعة المحددة أثناء القيادة من قواعد القيادة السليمة. ()

٢- محمية الغابة المتحجرة من التراث الطبيعي. ()

٣- الساعة السكانية تظهر تقديرات لعدد سكان مصر. ()

٤- تتميز محافظة جنوب سيناء بوفرة موارد المياه. ()

٥- العصور التاريخية بدأت قبل معرفة الإنسان للكتابة. ()

(ب) اذكر نتيجة واحده ل:

- إجراء التعداد السكاني.

السؤال الثالث

(١) صف الأماكن التراثية الآتية إلى (تراث ثقافي، تراث طبيعي):

(سور مجرى العيون - محمية وادي الريان - قلعة صلاح الدين - محمية رأس محمد)

تراث طبيعي	تراث ثقافي

(ب) أكمل العبارات الآتية:

- ١- المصري القديم بعدما استقر على ضفاف النيل عرف حرفة
- ٢- المشروع القومي لتطوير الريف يساعد في تحسين مستوى الخدمات مثل
- ٣- محمية وادي الريان تتميز بـ
- ٤- في عصر الدولة الإسلامية تم إجراء عد للأفراد استمر شهور.

السؤال الرابع

(١) صوب ما تحته خط:

- ١- استخدم المصريون القدماء السيارات في التنقل. (.....)
- ٢- التراث الثقافي يشمل المواقع ذات القيمة ولم يتدخل الإنسان في صنعها. (.....)
- ٣- تشتهر مدن القناة بفضن التحطيب والسيرة الهلالية. (.....)
- ٤- يقع معبد أبو سمبل في محافظة الإسكندرية. (.....)
- ٥- محافظة البحر الأحمر أعلى المحافظات التي ترتفع بها نسبة الأمية. (.....)

(ب) وضع :

- جهود الدولة في القضاء على الأمية.

.....

.....



قيم أدائك

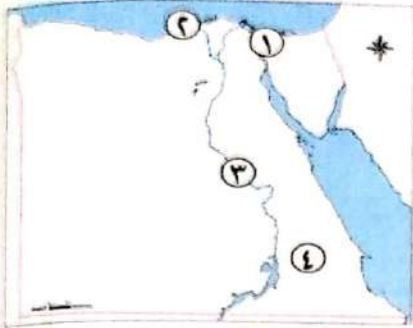


النموذج الثاني

مجال لغة

السؤال الأول

٣٠



(١) أمامك خريطة صماء لمصر، ادرسها ثم اكتب ما تشير إليه الأرقام:

- ١- يشير رقم (١) إلى قناة
- ٢- يشير رقم (٢) إلى ميناء
- ٣- يشير رقم (٣) إلى نهر
- ٤- يشير رقم (٤) إلى الصحراء

(ب) وضع:

١- إحدى عيوب استخدام الإنترنت.

٢- إحدى المهام التي يقوم بها المحافظ.

السؤال الثاني

(١) صوب ما تحته خط:

- ١- في مصر القديمة كان المحافظ يعاون الحاكم في إدارة شئون البلاد. (.....)
- ٢- الكتابة على بعض القطع الأثرية يعد سلوكًا إيجابيًا. (.....)
- ٣- من المعوقات التي تؤثر على الخطط التنموية بناء المدارس. (.....)
- ٤- من أمثلة المصادر غير الموثوقة للمعلومات الكتب. (.....)
- ٥- تنقسم العلامات المرورية إلى خمسة أقسام. (.....)

(ب) ما النتائج المترتبة على ...؟

- انتشار الأمية في مصر.

السؤال الثالث

(١) اختر الإجابة الصحيحة مما بين القوسين:

١- محمية الغابات المتحجرة توجد في محافظة

(القاهرة - الجيزة - دمياط - السويس)

- ٢- من معالم النوبة معبد «إيزيس» فى جزيرة
- (شدران - فيلة - الجفتون - الزمالك)
- ٣- أكثر المحافظات المصرية من حيث عدد السكان
- (قنا وأسوان - القاهرة والجيزة - الشرقية والغربية - المنوفية والإسكندرية)
- ٤- سكان واحة سيوة يحتفلون بحصاد التمور والزيتون فى عيد
- (التجارة - الزراعة - الصناعة - السياحة)
- (ب) قارن بين سكان الحضر والريف من حيث أهم الأنشطة التى يمارسها السكان وواحدة من المشكلات التى تواجههم:

وجه المقارنة	سكان الحضر	سكان الريف
الأنشطة		
المشكلة		


السؤال الرابع

(١) اكتب كلمة (صواب) أمام العبارة الصحيحة، وكلمة (خطأ) أمام العبارة غير الصحيحة فيما يلى:

- ١- تؤدى الأمية إلى زيادة الوعى فى المجتمع. ()
- ٢- النقل الجوى يستخدم فى نقل البضائع سريعة التلف. ()
- ٣- ترتفع معدلات الأمية بين الإناث فى مصر. ()
- ٤- استخدم المصريون القدماء العربية التى تجرها الخيول فى الصيد. ()
- ٥- تواصل الإنسان فى العصور التاريخية عبر الأصوات العالية. ()

(ب) اذكر سبباً :

- استخدام الإنسان الحمام الزاجل فى العصور القديمة.

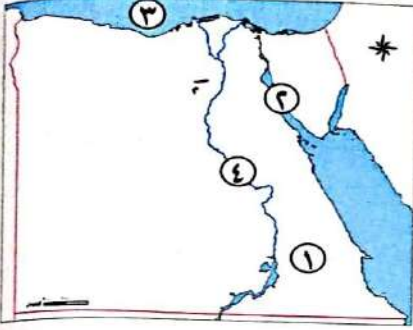


النموذج الثالث

مجاب عنه

السؤال الأول

٣٠



(١) أملك خريطة صماء لمصر، ادرسها ثم اكتب ما تشير إليه الأرقام:

- ١- يشير رقم (١) إلى أقل محافظات مصر أمية
- ٢- يشير رقم (٢) إلى خليج
- ٣- يشير رقم (٣) إلى البحر
- ٤- يشير رقم (٤) إلى نهر

(ب) حدد العلاقة بين كل من:

١- شركة مصر للطيران وبنك مصر.

٢- البطالة وانتشار الجريمة.

السؤال الثاني

(١) ضع دائرة حول الإجابة الصحيحة:

١- من موانئ ساحل البحر المتوسط

(السويس - الغردقة - سفاجا - الإسكندرية)

٢- المركز الذي تحتله شركة مصر للطيران من حيث الإنشاء على مستوى العالم

(الخامس - السادس - السابع - الثامن)

٣- مترو الأنفاق يربط بين القاهرة وشبرا الخيمة و

(الإسكندرية - السويس - الجيزة - بورسعيد)

٤- دير مصرى يعد من أقدم الأديرة ويوجد جنوب سيناء

(سانت كاترين - القديسين - مارجرجس - الشهداء)

٥- من أشهر المراكب فى مصر القديمة مركب

(زوسر - خوفو - خفرع - منكاورع)

(ب) أيد صحة العبارة التالية:

- تعد شبه جزيرة سيناء من مناطق الجذب السياحى.

السؤال الثالث

(١) أكمل العبارات الآتية:

- ١- توجد الأهرامات الثلاثة في محافظة
- ٢- زيارة معرض القاهرة الدولي للكتاب تعد سياحة
- ٣- إذا أردت معرفة الحضارة المصرية على مر العصور، فيمكنك زيارة المتحف
- ٤- عدم قدرة الفرد على تشغيل الأجهزة الإلكترونية يعد أمية

(ب) أملك قائمة لبعض الأماكن السياحية في مصر. صنّفها حسب نوع السياحة التي تنتمي إليها:
(مهرجان الإسماعيلية - رحلات السفارى - شارع المعز - العيون الكبرى)

سياحة ثقافية	سياحة ترفيهية	سياحة علاجية	سياحة المؤتمرات والمهرجانات

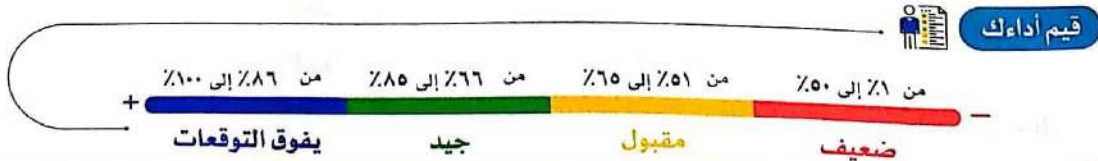
السؤال الرابع

(١) اكتب كلمة (صواب) أمام العبارة الصحيحة، وكلمة (خطأ) أمام العبارة غير الصحيحة فيما يلي:

- ١- تسعى الإدارة العامة للمرور لتعريف التلاميذ بقواعد وإشارات المرور. ()
- ٢- نشر الشائعات من السلوكيات الإيجابية لمواقع التواصل. ()
- ٣- استضافت مصر المؤتمر العربي للحد من الكوارث. ()
- ٤- تسعى مصر إلى إقامة مشروعات لتحقيق حياة كريمة لكل المصريين. ()
- ٥- الإسكندرية ودمياط من موانئ مصر على ساحل البحر الأحمر. ()

(ب) ماذا كان يحدث إذا ...؟

- لم تهتم الدولة بتطوير الطرق.

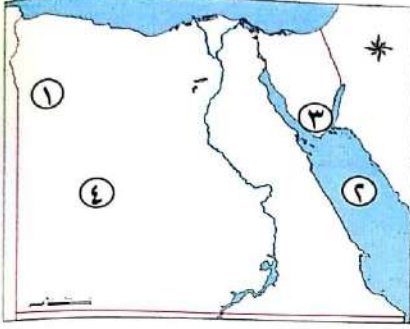


النموذج الرابع

مجاب عنه

السؤال الأول

(1) أمامك خريطة صماء لمصر، ادرسها ثم اكتب ما تشير إليه الأرقام الآتية:



- ١- واحة تنتشر بها السياحة العلاجية
- ٢- البحر
- ٣- محمية
- ٤- الصحراء

(ب) فسر بذكر سبب :

- ١- تهتم الدولة بإنشاء الكبارى والمحاور.
- ٢- تطوير الدولة لمنطقة الأهرامات.

السؤال الثاني

(1) أكمل العبارات الآتية:

- ١- يتولى رئيس الجمهورية الرئاسة عن طريق
- ٢- تتميز محافظة جنوب سيناء ب..... سطحها.
- ٣- الإشراف على تنفيذ المشروعات داخل المحافظة من مهام
- ٤- تقليل عدد الأطفال فى الأسرة الواحدة هو.....
- ٥- تستخدم السيارات والأتوبيسات فى نقل

(ب) أذكر :

- أهمية واحدة للتعداد السكانى.

السؤال الثالث

(1) اختر الإجابة الصحيحة مما بين القوسين:

- ١- وسيلة من وسائل المواصلات تسير على الطرق المرصوفة
(القطارات - الطائرات - مترو الأنفاق - الشاحنات)

صفحة عاشق لغة الضاد رضا نصار

- ٢- من مبادرات الدولة لتطوير الريف المصرى مبادرة
- (حياة كريمة - اتحضر للأخضر - التطوير العمرانى - ١٠٠ مليون صحة)
- ٣- محمية تقع عند التقاء خليج السويس والعقبة
- (وادي الريان - الغابات المتحجرة - رأس محمد - وادي دجلة)
- ٤- يساعد تنوع سكان مصر فى تحقيق بين السكان.
- (التداخل - التكامل - الشمول - التباين)

(ب) ماذا يحدث إذا ...؟

١- توفرت موارد المياه فى محافظة جنوب سيناء.

٢- لم تكن القاهرة عاصمة لمصر.


السؤال الرابع

(١) اكتب كلمة (صواب) أمام العبارة الصحيحة، وكلمة (خطأ) أمام العبارة غير الصحيحة فيما يلى:

- ١- توفر المؤسسات الحكومية الخدمات الإلكترونية للمواطنين. ()
- ٢- ساهمت منظمة «الفاو» فى إنقاذ معبدى أبو سمبل من الغرق. ()
- ٣- تنظيم الأسرة يعنى زيادة عدد السكان مقارنة بالموارد المتاحة. ()
- ٤- محافظة جنوب سيناء أقل محافظات مصر سكاناً. ()
- ٥- جلوس الأطفال فى المقاعد الأمامية من آداب استخدام وسائل النقل. ()

(ب) حدد اثنتين من :

- قواعد قيادة السيارات.

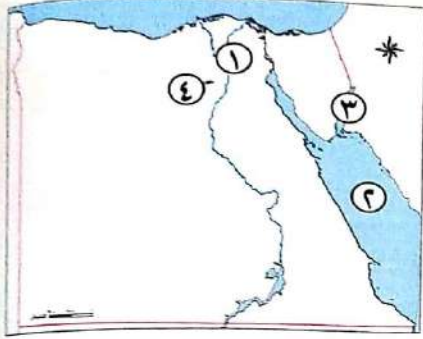


التمودج الخامس

مجاب عنه

السؤال الأول

(أ) أمامك خريطة صماء لمصر، ادرسها ثم اكتب ما تشير إليه الأرقام الآتية:



١- أعلى محافظات مصر سكاناً

٢- البحر

٣- خليج تطل عليه قلعة صلاح الدين

٤- محافظة بها منطقة وادي الحيتان

(ب) فسر العبارات الآتية:

١- أهمية التراث المصرى.

٢- إنشاء صلاح الدين قلعة فى مدينة طابا.

السؤال الثانى

(أ) صوب ما تحته خط:

١- مصر أول دولة عربية إفريقية أقامت طرقاً مرصوفة.

٢- استخدم الإنسان قديماً الصقر لسرعته فى إرسال الرسائل.

٣- تقل نسبة الأمية بالريف فى مصر.

٤- منطقة وادي الحيتان تقع بمحافظة الغربية.

٥- من شروط أى مشروع قانون جديد موافقة نصف أعضاء مجلس النواب.

(ب) ما النتائج المترتبة على ...؟

- اهتمام الدولة بتطوير الموانئ.

السؤال الثالث

(1) اختر الإجابة الصحيحة مما بين القوسين:

- ١- عثر على مركب خوفو في الجهة للهرم.
(الشمالية - الجنوبية - الشرقية - الغربية)
- ٢- المسئول عن إدارة شئون المحافظة هو
(الوزير - الملك - الرئيس - المحافظ)
- ٣- صنفت منظمة «اليونسكو» منطقة منطقة مهددة بخطر تآكل التربة والمباني.
(حلوان - أبو مينا - أبو رواش - قليوب)
- ٤- إحدى إيجابيات شبكة الإنترنت
(نشر الشائعات - الجولات الافتراضية - إضاعة الوقت - إهمال الهوايات)

(ب) قارن بين: مهام رئيس الجمهورية ورئيس الوزراء من خلال الجدول التالي:

رئيس الوزراء	رئيس الجمهورية


السؤال الرابع

(1) أكمل العبارات التالية بكلمات مناسبة:

- ١- تعد من وسائل التواصل في عصور ما قبل التاريخ.
- ٢- محافظة يمثل سكانها نسبة ضئيلة جداً من سكان مصر.....
- ٣- تم بناء جامع عمرو بن العاص في عهد الخليفة.....
- ٤- الدولة تتجه لتسكين البدول للعمل في.....
- ٥- أصبح العالم قرية صغيرة بعد اختراع الإنسان ل.....

(ب) حدد اثنين من:

- آداب استخدام وسائل النقل العامة.

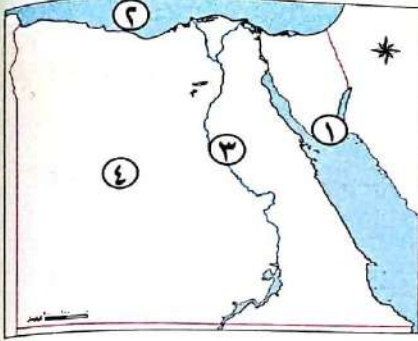


النموذج السادس

مجاب عليه

السؤال الأول

(١) أمامك خريطة صماء لمصر، ادرسها ثم اختر ما تشير إليه الأرقام مما بين القوسين:



١- يشير رقم (١) إلى محمية

(وادي دجلة - رأس محمد - الصحراء البيضاء -

الغابات المتحجرة)

٢- يشير رقم (٢) إلى

(البحر المتوسط - البحر الأحمر - قناة السويس -

نهر النيل)

٣- يشير رقم (٣) إلى .. (قناة السويس - نهر النيل - البحر المتوسط - البحر الأحمر)

٤- يشير رقم (٤) إلى .. (الصحراء الشرقية - دلتا النيل - الصحراء الغربية - وادي النيل)

(ب) اذكر اثنين من:

١- جهود الدولة لتنمية السياحة في مصر.

٢- جهود الدولة في القضاء على الأمية.

السؤال الثاني

(١) أكمل العبارات الآتية:

١- النقل النهري يستخدم في نقل المواد الخام اللازمة ل.....

٢- الملكة حتشبسوت أرسلت رحلات تجارية إلى بلاد.....

٣- السيارات ظهرت في مصر في عهد الخديو.....

٤- عدم قدرة الفرد على تشغيل الأجهزة الإلكترونية يعد أمية.....

٥- الهدف من تطوير منطقة الأهرامات تحويلها إلى.....

(ب) حدد اثنين من:

- جهود الدولة لتنظيم حركة المرور.

السؤال الثالث

(1) اختر الإجابة الصحيحة مما بين القوسين:

- ١- العربة التي تجرها الخيول ظهرت في مصر القديمة بعد غزو.....
(الروم - الهكسوس - الفرس - الإنجليز)
- ٢- الوزير المسئول عن توفير رعاية صحية جيدة للمصريين هو وزير.....
(العدل - الصحة - التعليم - المالية)
- ٣- قامت الدولة بترميم مسجد أحمد بن طولون الذي يقع في.....
(الإسكندرية - القاهرة - القليوبية - البحيرة)
- ٤- مطار برج العرب من المطارات الدولية التي تقع في.....
(دمياط - الإسماعيلية - الإسكندرية - السويس)

(ب) قارن بين جهود الدولة في (الحفاظ على الآثار المصرية وتنمية السياحة في مصر):

جهودها في الحفاظ على الآثار	جهودها في تنمية السياحة

السؤال الرابع

(1) اكتب كلمة (صواب) أمام العبارة الصحيحة، وكلمة (خطأ) أمام العبارة غير الصحيحة فيما يلي:

- ١- أصدرت الدولة قانون المرور لتنظيم حركة المرور. ()
- ٢- السكك الحديدية تقتصر على نقل الركاب فقط. ()
- ٣- تستقبل المناطق الأثرية العديد من السياح. ()
- ٤- مصر القديمة كانت مقسمة إلى ٤٢ محافظة. ()
- ٥- ترتفع معدلات الأمية بين الإناث في مصر. ()

(ب) ما العلاقة بين...؟

- المشكلات الاجتماعية وأمن المجتمع.

.....



قيم أدائك

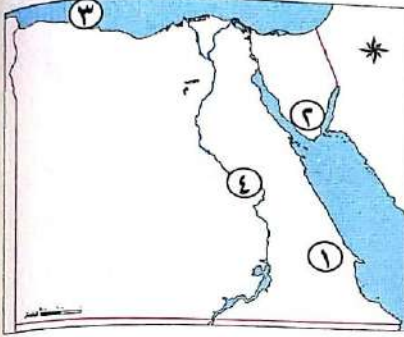


النموذج السابع

مجاب عنه

السؤال الأول

(أ) أمامك خريطة صماء لمصر، اكتب ما تشير إليه الأرقام:



- ١- يشير رقم (١) إلى محافظة تطل بها الأمية
- ٢- يشير رقم (٢) إلى أقدم الأديرة المصرية
- ٣- يشير رقم (٣) إلى البحر
- ٤- يشير رقم (٤) إلى نهر

(ب) أثبت صحة العبارتين الآتيتين:

١- تزخر مصر بمواقع عديدة للتراث الثقافي.

٢- تساهم منظمة «اليونسكو» في ترميم المدن القديمة.

السؤال الثاني

(أ) اختر الإجابة الصحيحة مما بين القوسين:

١- تواصل الإنسان في عصور ما قبل معرفة الكتابة عن طريق

(الدخان - الحمام الزاجل - البريد - الإنترنت)

٢- من وسائل النقل المائي ولم تكن موجودة قديمًا

(القوارب - السفن - الغواصات - المراكب)

٣- من عيوب النقل الجوي

(سرعة انتشاره - ارتفاع تكلفته - رخص تكلفته - بطء حركته)

٤- منطقة أثرية تقع في محافظة الإسكندرية ومدرجة ضمن قائمة التراث العالمي

لليونسكو

٥- من أمثلة المشكلات الاجتماعية في مصر مشكلة

(البطالة - التعليم - الصحة - التنمية)

(ب) اذكر نتيجتين لـ:

- انتشار البطالة في مصر.

السؤال الثالث

(1) أكمل العبارات الآتية:

- ١- تسعى مصر إلى إقامة العديد من المشروعات لتحقيق الحياة للسكان.
- ٢- الإدارات المركزية في مصر القديمة يقابلها حاليًا
- ٣- المهندس الذي قام بتصميم برج القاهرة هو
- ٤- منطقة يزورها السياح للعلاج بالمياه الكبريتية

(ب) قارن بين التراث الثقافي والتراث الطبيعي من حيث (التعريف - الأمثلة).

وجه المقارنة	التراث الثقافي	التراث الطبيعي
التعريف		
الأمثلة		

السؤال الرابع

(1) اكتب كلمة (صواب) أمام العبارة الصحيحة، وكلمة (خطأ) أمام العبارة غير الصحيحة فيما يلي:


- ١- تبذل الدولة جهودًا كبيرة لتنظيم حركة المرور في الشوارع. ()
- ٢- مترو الأنفاق يربط بين أربع مدن مصرية. ()
- ٣- مصر أول دولة على مستوى العالم في إنشاء السكك الحديدية. ()
- ٤- اخترع الإنسان التلغراف في القرن السابع عشر. ()
- ٥- من قواعد المشاة العبور من المكان المخصص لعبور المشاة. ()

(ب) اذكر سببًا:

- استخدام الإنسان الحمام الزاجل في العصور القديمة.



قيم أداءك

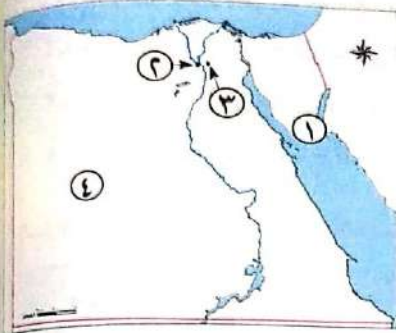


النموذج الثامن

مجاب عنه

السؤال الأول

(أ) أمامك خريطة صماء لمصر. اكتب ما تشير إليه الأرقام:



- ١- يشير رقم (١) إلى مدينة سياحية
- ٢- يشير رقم (٢) إلى محافظة بها الأهرامات
- ٣- يشير رقم (٣) إلى محافظة بها مجمع الأديان
- ٤- يشير رقم (٤) إلى الصحراء

(ب) وضح العلاقة بين:

١- اختراع الكتابة ومعرفة الحضارة المصرية القديمة.

٢- وسائل النقل والتكنولوجيا.

السؤال الثاني

(أ) اختر الإجابة الصحيحة مما يلي:

- ١- زيارة شارع خان الخليلي تعد سياحة (ترفيهية - ثقافية - علاجية - مؤتمرات)
- ٢- سوء أوضاع المجتمع وانتشار معدلات الجريمة كل ذلك نتيجة لانتشار
(السياحة - الصناعة - المشروعات - البطالة)
- ٣- يذهب السياح للعلاج بالرمال الساخنة في مصر إلى واحة
(الغرافرة - سيوة - الداخلة - الخارجة)
- ٤- أي من التالي يعد من معوقات خطط التنمية في مصر؟
(بناء المستشفيات - بناء المدارس - مشكلة الأمية - إقامة المشروعات)
- ٥- يقابل رئيس الإدارة المركزية في عهد المصريين القدماء حالياً.
(رئيس الجمهورية - رئيس الوزراء - مجلس النواب - القضاء)

(ب) دلل:

- وسائل النقل أثرت في حياة الشعوب والأمم عبر العصور.

السؤال الثالث

(أ) أكمل العبارات الآتية بما يناسبها من كلمات:

- ١- السلطة المستقلة التي تتولاها المحاكم تصدر الأحكام هي
- ٢- الأعمال التطوعية لخدمة البيئة يقوم بها
- ٣- ميناء الغردقة يقع على ساحل البحر
- ٤- أول خط هاتف في مصر ربط بين القاهرة و

(ب) قارن بين:

- الإقليم في مصر قديماً والمحافظه حالياً من حيث: عددهم، المسنول عنهم، مهام المسنول عنهم.

وجه المقارنة	الإقليم في مصر قديماً	المحافظة حالياً
العدد		
المسنول		
المهام		

السؤال الرابع

(أ) ضع علامة (✓) أمام العبارة الصحيحة، وعلامة (X) أمام العبارة غير الصحيحة فيما يلي:


- ١- الدولة تسعى للتوسع في استخدام النقل المستدام. ()
- ٢- جلوس الأطفال في المقاعد الأمامية من آداب استخدام وسائل النقل. ()
- ٣- تقل أعداد العمال والفلاحين عن نصف إجمالي عدد مقاعد المجالس المحلية. ()
- ٤- السياحة العلاجية تهدف للحفاظ على البيئة. ()
- ٥- تقديم العروض الفنية العالمية في دار الأوبرا يعد سياحة ثقافية. ()

(ب) أيد صحة العبارة التالية:

- تعد شبه جزيرة سيناء من مناطق الجذب السياحي.



قيم أدائك

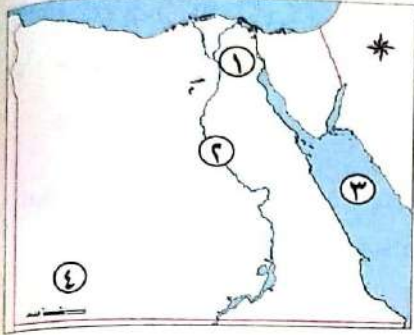


النموذج التاسع

مجاب عنه

السؤال الأول

(١) أمامك خريطة صماء لمصر، ادرسها ثم اختر ما تشير إليه الأرقام مما بين القوسين:



١- يشير رقم (١) إلى محافظة

(الجيزة - القاهرة - الغربية - الشرقية)

٢- يشير رقم (٢) إلى

(قناة السويس - البحر الأحمر - نهر النيل - البحر المتوسط)

٣- يشير رقم (٣) إلى

(البحر الأحمر - نهر النيل - قناة السويس - البحر المتوسط)

٤- يشير رقم (٤) إلى (الصحراء الغربية - الصحراء الشرقية - قناة السويس - البحر المتوسط)

(ب) حدد أوجه الاختلاف بين مهام رئيس الوزراء ومهام الوزراء:

..... - مهام رئيس الوزراء:

..... - مهام الوزراء:

السؤال الثاني

(١) صوب ما تحته خط:

١- أنواع السياحة في مصر محدودة. (.....)

٢- النقل الجوى أرخص وسائل النقل. (.....)

٣- رحلات الملك زوسر التجارية كانت لبلاد فينيقيا. (.....)

٤- تقل نسبة الأمية في الريف في مصر. (.....)

٥- اعتمدت الثورة الصناعية على طاقة الشمس. (.....)

(ب) فسر بذكر سبب:

- تسعى الدولة للتحويل نحو استخدام النقل المستدام.

السؤال الثالث

(1) اختر الإجابة الصحيحة مما بين الأقواس:

- ١- محافظة يزيد فيها عدد السكان على ٨ ملايين نسمة
(القاهرة - أسيوط - أسوان - الشرقية)
 - ٢- توجد الثعالب البرية والغزلان في مصرفى محمية وادى بالفيوم.
(الألوان - دجلة - الريان - خوف)
 - ٣- النقل البحرى فى مصر يتم عن طريق
(قناة السويس - نهر النيل - الطرق المرصوفة - السكك الحديدية)
 - ٤- سوء أوضاع المجتمع وانتشار معدلات الجريمة كل ذلك نتيجة لانتشار
(السياحة - الصناعة - المشروعات - البطالة)
- (ب) قارن بين وسائل التواصل فى عصور ما قبل التاريخ والعصور التاريخية:

العصور التاريخية	عصور ما قبل التاريخ

السؤال الرابع

(1) أكمل العبارات الآتية:

- ١- منطقة وادى الحيطان من أهم معالم محافظة
- ٢- يتم إجراء عملية حصر شامل للسكان فى مصر كل سنوات.
- ٣- تؤثر مظاهر السطح على توزيع
- ٤- النقل البرى يشمل و
- ٥- أول خط هاتف فى مصر ربط بين القاهرة و

(ب) برهن على صحة العبارة التالية:

- تتعدد أنواع السياحة فى مصر.



قيم أداءك

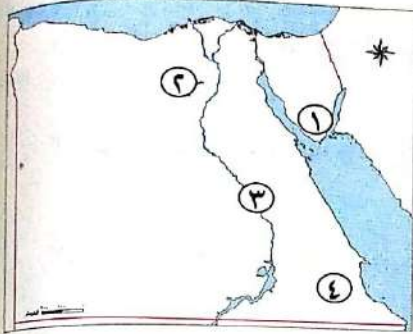


النموذج العاشر

مجاب عنه

السؤال الأول

(أ) أمامك خريطة صماء لمصر، اكتب ما تشير إليه الأرقام:



- ١- يشير رقم (١) إلى أقدم الأديرة المصرية
- ٢- يشير رقم (٢) إلى محمية
- ٣- يشير رقم (٣) إلى نهر
- ٤- يشير رقم (٤) إلى الصحراء

(ب) اذكر سبباً لكل من:

- ١- أهمية التكنولوجيا لأصحاب الهمم.
- ٢- تسعى الدولة للتحول نحو استخدام النقل المستدام.

السؤال الثاني

(أ) ضع علامة (✓) أمام العبارة الصحيحة، وعلامة (X) أمام العبارة غير الصحيحة فيما يلي:

- ١- منظمة الأمم المتحدة المسؤولة عن التربية والعلوم والثقافة هي منظمة اليونسكو. ()
- ٢- قام المصريون القدماء بنقش مظاهر احتفالاتهم على جدران المعابد. ()
- ٣- استخدم الإنسان الحمام الزاجل قديماً في إرسال الرسائل لسرعته. ()
- ٤- تم وضع علامات ضوئية على شكل إنسان لتنظيم عبور المشاة. ()
- ٥- توجد محمية وادي الريان عند التقاء خليج السويس والعقبة. ()

(ب) قارن بين:

سكان أهل بورسعيد وسكان أهل النوبة من حيث «مظاهر التراث التي تنتشر بين سكانهما»:

وجه المقارنة	سكان أهل بورسعيد	سكان أهل النوبة
مظاهر التراث		

السؤال الثالث

(أ) اختر الإجابة الصحيحة مما بين القوسين:

- ١- كان المصري القديم يخصص اليوم الأول من الاحتفالات للذهاب إلى
(نهر النيل - معابد الآلهة - قصر الفرعون - أماكن المحاصيل)
- ٢- تعد محافظة أكثر المحافظات المصرية التي تنتشر بها الأمية.
(البحيرة - دمياط - المنيا - الشرقية)
- ٣- استخدم حديثاً لتسهيل العمل دون انتقال
(التلغراف - البريد - الإنترنت - المكتب)
- ٤- أول محاولة للطيران قام بها
(الحسن بن الهيثم - جابر بن حيان - بن سينا - عباس بن فرناس)

(ب) ماذا كان يحدث إذا...؟

١- لم يخترع الإنسان الإنترنت.

٢- لم تظهر قوة البخار.

السؤال الرابع

(أ) أكمل العبارات الآتية:


- ١- أصبح العالم قرية صغيرة بعد اختراع الإنسان ل.....
- ٢- كانت السفن في عهد المصريين القدماء تستخدم في التجارة و.....
- ٣- مدينة تاريخية وتعد من أكبر المدن التراثية في العالم.....
- ٤- الأمية تقلل من فرص الحصول على.....
- ٥- رئيس الجمهورية ورئيس الوزراء ومجلس الوزراء يمثلون.....

(ب) فسر:

- أهمية اتباع قواعد المرور.

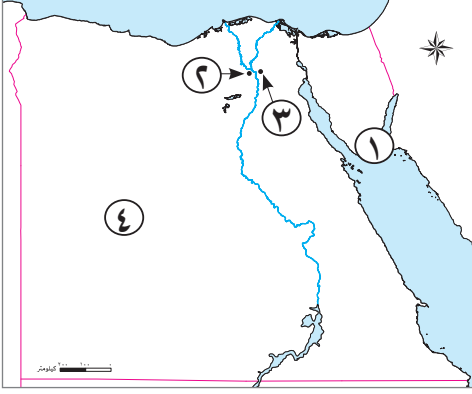


قيم أداءك



نموذج (١)

السؤال الأول



(١) أمامك خريطة صماء لمصر، اكتب مدلول الأرقام عليها:

- ١ يشير رقم (١) إلى مدينة سياحية.....
 - ٢ يشير رقم (٢) إلى محافظة بها الأهرامات.....
 - ٣ يشير رقم (٣) إلى محافظة بها مجمع الأديان.....
 - ٤ يشير رقم (٤) إلى الصحراء.....
- (ب) حدد اثنين من : جهود الدولة لتنمية السياحة في مصر.

السؤال الثاني

- اختر الإجابة الصحيحة مما بين القوسين:

- ١ أول محاولة للطيران قام بها (الحسن بن الهيثم - جابر بن حيان - عباس بن فرناس - ابن سينا)
- ٢ الأمية الهجائية تعنى عدم قدرة الفرد على.....
- ٣ من عيوب النقل الجوى (سرعة الانتشار - ارتفاع التكلفة - رخص التكلفة - بطء الحركة)
- ٤ السياحة تهدف للحفاظ على الموارد الطبيعية وترشيد استهلاكها.
- ٥ من أشكال التراث الثقافي في مصر..... (الترفيهية - العلاجية - الثقافية - المستدامة)
- ٥ من أشكال التراث الثقافي في مصر..... (المحميات - الغابات - الأهرامات - البحيرات)

السؤال الثالث

(١) ضع علامة (✓) أمام العبارة الصحيحة، وعلامة (X) أمام العبارة غير الصحيحة فيما يلي:

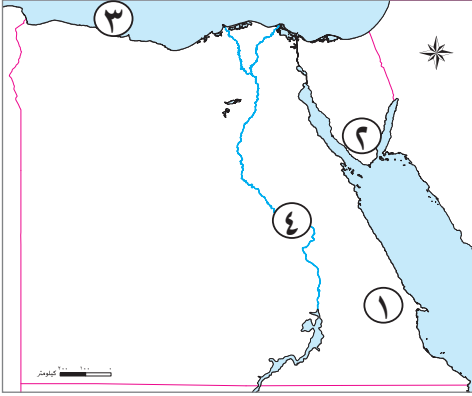
- ١ أصدرت الدولة قوانين تجرم الاتجار بالآثار. ()
- ٢ يساهم تنوع أنماط السكان في مصر في تحقيق التكامل. ()
- ٣ تواصل الإنسان في العصور التاريخية عبر الأصوات العالية. ()
- ٤ صمم برج إيفل على شكل زهرة اللوتس. ()

(ب) فسر بذكر سبب واحد:

- وضع علامات ضوئية دائرية في الشوارع.

نموذج (٢)

السؤال الأول



(١) أمامك خريطة صماء لمصر، اكتب مدلول الأرقام عليها:

- ١ يشير رقم (١) إلى محافظة تطل بها الأمية.....
- ٢ يشير رقم (٢) إلى أقدم الأديرة المصرية.....
- ٣ يشير رقم (٣) إلى البحر.....
- ٤ يشير رقم (٤) إلى نهر.....

(ب) حدد سبباً واحداً ل: أهمية التكنولوجيا لأصحاب الهمم.

السؤال الثاني

(١) اختر الإجابة الصحيحة مما بين القوسين:

- ١ أقرب اللغات إلى اللغة المصرية القديمة هي لغة أهل..... (النوبة - الصعيد - سيناء - السواحل)
- ٢ من قواعد المشاة.....
(عدم استخدام الهاتف المحمول - العبور من المكان المخصص للمشاة - عدم تناول أى طعام أو شراب - العبور من المكان المخصص للسيارات)
- ٣ زيارة شارع المعزتعد سياحة..... (ترفيهية - ثقافية - علاجية - مؤتمرات)
- ٤ المركز الذى تحتله شركة مصر للطيران من حيث الإنشاء على مستوى العالم..... (الخامس - السادس - السابع - الثامن)

(ب) اذكر نتيجة: اهتمام الدولة بتطوير المواثيق.

السؤال الثالث

- ضع كلمة (صواب) أمام العبارة الصحيحة، وكلمة (خطأ) أمام العبارة غير الصحيحة:

- ١ يسمح باستخدام ضوء الكاميرا عند التقاط الصور للآثار. ()
- ٢ الاعتماد على استخدام النقل المستدام يساعد على تقليل تلوث الهواء. ()
- ٣ المحافظ يقوم بالإشراف على تنفيذ المشروعات التنموية في المحافظة. ()
- ٤ نشر معلومات غير صحيحة من السلوكيات السلبية لمواقع التواصل الاجتماعى. ()
- ٥ تعد محمية رأس محمد جنوب سيناء من مناطق التراث الطبيعى في مصر. ()

نموذج (٣)

السؤال الأول

- أكمل العبارات التالية:

- ١ إذا أردت التعرف على الحضارة المصرية في مختلف العصور، يمكنك زيارة المتحف
- ٢ يعاني سكان الريف المصرى من مستوى المعيشة.
- ٣ أرسلت الملكة حتشبسوت رحلات تجارية إلى بلاد
- ٤ أول خط هاتف في مصر ربط بين القاهرة و.....
- ٥ عدم قدرة الفرد على تشغيل الأجهزة الإلكترونية يعد أمية

السؤال الثانى

(١) ضع كلمة (صواب) أمام العبارة الصحيحة، وكلمة (خطأ) أمام العبارة غير الصحيحة:

- ١ جلوس الأطفال في المقاعد الأمامية من آداب استخدام وسائل النقل . ()
 - ٢ طريق الكباش تم إنشاؤه قديماً لإقامة الاحتفالات الملكية والدينية. ()
 - ٣ يعد سباق الخيول رياضة تراثية تشتهر بها سيناء. ()
 - ٤ زيارة مدن البحر الأحمر للتمتع بالمناظر الخلابة تعد سياحة ثقافية. ()
- (ب) فسر بذكر سبب واحد: تطوير الدولة لمنطقة الأهرامات.

السؤال الثالث

(١) اختر الإجابة الصحيحة مما بين القوسين:

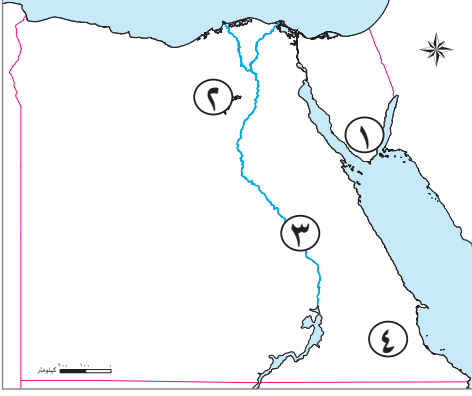
- ١ وسيلة نقل تتميز برخص تكلفتها وتستخدم في نقل البضائع الثقيلة (النقل المائى - النقل الجوى - السكك الحديدية - مترو الأنفاق)
- ٢ حاكم البلاد في مصر القديمة يتمثل في (الوزير - الكاهن - رئيس الإدارة المركزية - الفرعون)
- ٣ يذهب السياح للعلاج بالرمال الساخنة في مصر إلى واحدة (الفرافرة - سيوة - الداخلة - الخارجة)

(ب) قارن بين: وسائل التواصل في عصور ما قبل التاريخ والعصور التاريخية في الجدول التالى:

وسائل التواصل فى عصور ما قبل التاريخ	وسائل التواصل فى العصور التاريخية
.....
.....
.....
.....

نموذج (٤)

السؤال الأول



(أ) أمامك خريطة صماء لمصر، اكتب مدلول الأرقام عليها:

- ١ يشير رقم (١) إلى أقدم الأديرة المصرية
- ٢ يشير رقم (٢) إلى محمية
- ٣ يشير رقم (٣) إلى نهر
- ٤ يشير رقم (٤) إلى الصحراء

(ب) اذكر سبباً: تسعى الدولة للتحويل نحو استخدام النقل المستدام.


السؤال الثاني

(أ) ضع علامة (✓) أمام العبارة الصحيحة، وعلامة (X) أمام العبارة غير الصحيحة فيما يلي:

- ١ منظمة الأمم المتحدة المسؤولة عن التربية والعلوم والثقافة هي منظمة اليونسكو. ()
- ٢ قام المصريون القدماء بنقش مظاهر احتفالاتهم على جدران المعابد. ()
- ٣ استخدم الإنسان الحمام الزاجل قديماً في إرسال الرسائل لسرعته. ()
- ٤ تم وضع علامات ضوئية على شكل إنسان لتنظيم عبور المشاة. ()
- ٥ توجد محمية وادي الريان عند التقاء خليجي السويس والعقبة. ()

السؤال الثالث

(أ) اختر الإجابة الصحيحة مما بين القوسين:

- ١ إحدى إيجابيات شبكة الإنترنت . ()
- (نشر الشائعات - الجولات الافتراضية - إضاعة الوقت - إهمال الهوايات)
- ٢ تعد العلامة المرورية التالية  من العلامات (التحذيرية - الضوئية - الأرضية - الإرشادية)
- ٣ زيارة السياح لخان الخليلي في القاهرة تعد سياحة (ثقافية - ترفيهية - علاجية - مؤتمرات)
- ٤ يرجع تاريخ منطقة أبو مينا الإسكندرية إلى فترة الحكم لمصر. ()

(البطلمي - الروماني - القبطي - الإسلامي)

(ب) فسّر بذكر سبب واحد: بناء صلاح الدين قلعة في مدينة طابا.

نموذج (هـ)

السؤال الأول

- أكمل العبارات التالية:

- ١ من أبرز المدن التراثية القديمة على مستوى العالم
- ٢ تسهم بـ ١٢٪ من الدخل القومي في مصر .
- ٣ النقل النهري يستخدم في نقل المواد الخام اللازمة لـ
- ٤ المصرى القديم صنع القوارب من نبات
- ٥ يشتهر سكان مدن القناة بالأغاني المرتبطة بآلة

السؤال الثانى

(١) ضع كلمة (صواب) أمام العبارة الصحيحة وكلمة (خطأ) أمام العبارة غير الصحيحة:

- ١ يعمل سكان الحضر بحرفة الزراعة وتربية الحيوانات. ()
 - ٢ السياحة العلاجية تهدف للحفاظ على البيئة. ()
 - ٣ من جهود الدولة تجاه المناطق الأثرية صيانتها وترميمها. ()
 - ٤ مصر أول دولة على مستوى العالم فى إنشاء السكك الحديدية. ()
- (ب) حدد العلاقة بين: الدراجات والبيئة .
-

السؤال الثالث

(١) اختر الإجابة الصحيحة مما بين القوسين:

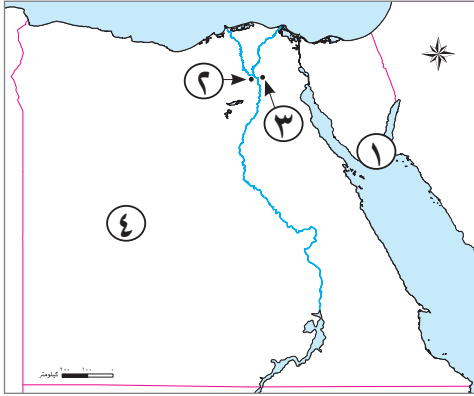
- ١ الأتوبيسات الذكية تعتمد على استخدام (الوقود - الكهرباء - الماء - البخار)
- ٢ حاكم البلاد فى مصر القديمة يتمثل فى (الوزير - الكاهن - رئيس الإدارة المركزية - الفرعون)
- ٣ وزير التربية والتعليم مسئول عن توفير جيد للمواطنين. (صحة - أمن - تعليم - عدل)

(ب) قارن بين: السياحة العلاجية والسياحة الترفيهية من حيث الهدف منها فى الجدول التالى:

السياحة الترفيهية	السياحة العلاجية
.....
.....

إجابة نموذج (١)

السؤال الأول



(١) أمامك خريطة صماء لمصر، اكتب مدلول الأرقام عليها:

- ١ يشير رقم (١) إلى مدينة سياحية..... (شرم الشيخ)
- ٢ يشير رقم (٢) إلى محافظة بها الأهرامات..... (الجيزة)
- ٣ يشير رقم (٣) إلى محافظة بها مجمع الأديان..... (القاهرة)
- ٤ يشير رقم (٤) إلى الصحراء..... (الغربية)

(ب) حدد اثنين من : جهود الدولة لتنمية السياحة في مصر.

- صيانة المناطق الأثرية وترميمها.
- تنظيم عملية البحث والتنقيب عن الآثار والإشراف عليها.

السؤال الثاني

- اختر الإجابة الصحيحة مما بين القوسين:

- ١ أول محاولة للطيران قام بها (الحسن بن الهيثم - جابر بن حيان - عباس بن فرناس - ابن سينا)
- ٢ الأمية الهجائية تعنى عدم قدرة الفرد على.....
- (استخدام التكنولوجيا - القراءة والكتابة - المحافظة على البيئة - معرفة التاريخ)
- ٣ من عيوب النقل الجوى (سرعة الانتشار - ارتفاع التكلفة - رخص التكلفة - بطء الحركة)
- ٤ السياحة تهدف للحفاظ على الموارد الطبيعية وترشيد استهلاكها.
- (الترفيهية - العلاجية - الثقافية - المستدامة)
- ٥ من أشكال التراث الثقافي في مصر..... (المحميات - الغابات - الأهرامات - البحيرات)

السؤال الثالث

(١) ضع علامة (✓) أمام العبارة الصحيحة، وعلامة (X) أمام العبارة غير الصحيحة فيما يلي:

- ١ أصدرت الدولة قوانين تجرم الاتجار بالآثار. (✓)
- ٢ يساهم تنوع أنماط السكان في مصر في تحقيق التكامل. (✓)
- ٣ تواصل الإنسان في العصور التاريخية عبر الأصوات العالية. (X)
- ٤ صمم برج إيفل على شكل زهرة اللوتس. (X)

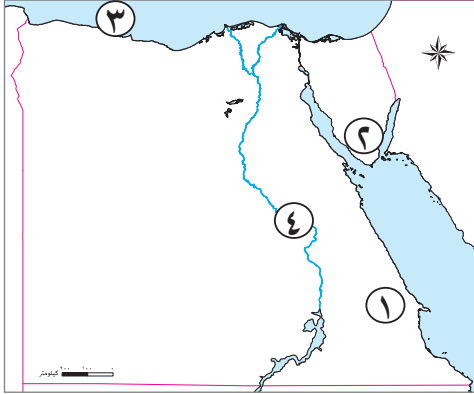
(ب) فسر بذكر سبب واحد:

- وضع علامات ضوئية دائرية في الشوارع.

لتنظيم حركة مرور السيارات.

إجابة نموذج (٢)

السؤال الأول



(١) أمامك خريطة صماء لمصر، اكتب مدلول الأرقام عليها:

- ١ يشير رقم (١) إلى محافظة تطل بها الأمية..... (البحر الأحمر)
- ٢ يشير رقم (٢) إلى أقدم الأديرة المصرية..... (ديرسانت كاترين)
- ٣ يشير رقم (٣) إلى البحر..... (المتوسط)
- ٤ يشير رقم (٤) إلى نهر..... (النيل)

(ب) حدد سببًا واحدًا ل: أهمية التكنولوجيا لأصحاب الهمم.

حيث ابتكرت تطبيقات عديدة لمواكبة احتياجاتهم منها: تطبيقات على الهاتف المحمول وأجهزة الكمبيوتر بأنواعها، لمساعدة الصم والمكفوفين على استخدام التكنولوجيا الحديثة واستخدام وسائل التواصل المختلفة.

السؤال الثاني

(١) اختر الإجابة الصحيحة مما بين القوسين:

- ١ أقرب اللغات إلى اللغة المصرية القديمة هي لغة أهل..... (النوبة - الصعيد - سيناء - السواحل)
- ٢ من قواعد المشاة.....
عدم استخدام الهاتف المحمول - العبور من المكان المخصص للمشاة - عدم تناول أى طعام أو شراب - العبور من المكان المخصص للسيارات
- ٣ زيارة شارع المعز تعد سياحة..... (ترفيهية - ثقافية - علاجية - مؤتمرات)
- ٤ المركز الذى تحتله شركة مصر للطيران من حيث الإنشاء على مستوى العالم..... (الخامس - السادس - السابع - الثامن)

(ب) اذكر نتيجة: اهتمام الدولة بتطوير الموانئ.

- لتقليل زمن انتظار السفن خارج الميناء.
- زيادة مساحات التخزين داخل الميناء.
- زيادة كمية البضائع المتداولة.

السؤال الثالث

- ضع كلمة (صواب) أمام العبارة الصحيحة، وكلمة (خطأ) أمام العبارة غير الصحيحة:

- ١ يسمح باستخدام ضوء الكاميرا عند التقاط الصور للأثار. (خطأ)
- ٢ الاعتماد على استخدام النقل المستدام يساعد على تقليل تلوث الهواء. (صواب)
- ٣ المحافظ يقوم بالإشراف على تنفيذ المشروعات التنموية في المحافظة. (صواب)
- ٤ نشر معلومات غير صحيحة من السلوكيات السلبية لمواقع التواصل الاجتماعى. (صواب)
- ٥ تعد محمية رأس محمد جنوب سيناء من مناطق التراث الطبيعى فى مصر. (صواب)

إجابة نموذج (٣)

السؤال الأول

- أكمل العبارات التالية:

- ١ إذا أردت التعرف على الحضارة المصرية في مختلف العصور، يمكنك زيارة المتحف (القومي للحضارة المصرية)
- ٢ يعاني سكان الريف المصرى من (انخفاض) مستوى المعيشة.
- ٣ أرسلت الملكة حتشبسوت رحلات تجارية إلى بلاد (بونت)
- ٤ أول خط هاتف في مصر ربط بين القاهرة و (الإسكندرية)
- ٥ عدم قدرة الفرد على تشغيل الأجهزة الإلكترونية يعد أمية (معلوماتية (تكنولوجية))

السؤال الثاني

(١) ضع كلمة (صواب) أمام العبارة الصحيحة، وكلمة (خطأ) أمام العبارة غير الصحيحة:

- ١ جلوس الأطفال في المقاعد الأمامية من آداب استخدام وسائل النقل. (خطأ)
 - ٢ طريق الكباش تم إنشاؤه قديماً لإقامة الاحتفالات الملكية والدينية. (صواب)
 - ٣ يعد سباق الخيول رياضة تراثية تشتهر بها سيناء. (خطأ)
 - ٤ زيارة مدن البحر الأحمر للتمتع بالمناظر الخلابة تعد سياحة ثقافية. (خطأ)
- (ب) فسر بذكر سبب واحد: تطوير الدولة لمنطقة الأهرامات.
لاسترجاع الصورة التاريخية للمنطقة وتعظيم قيمتها الأثرية.

السؤال الثالث

(١) اختر الإجابة الصحيحة مما بين القوسين:

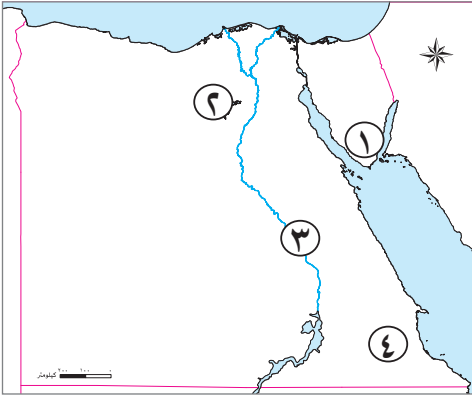
- ١ وسيلة نقل تتميز برخص تكلفتها وتستخدم في نقل البضائع الثقيلة
(النقل المائي - النقل الجوي - السكك الحديدية - مترو الأنفاق)
- ٢ حاكم البلاد في مصر القديمة يتمثل في
(الوزير - الكاهن - رئيس الإدارة المركزية - الفرعون)
- ٣ يذهب السياح للعلاج بالرمال الساخنة في مصر إلى واحة
(الفرافرة - سيوة - الداخلة - الخارجة)

(ب) قارن بين: وسائل التواصل في عصور ما قبل التاريخ والعصور التاريخية في الجدول التالي:

وسائل التواصل في عصور ما قبل التاريخ	وسائل التواصل في العصور التاريخية
استخدم الإنسان:	بدأ الإنسان في:
- الدخان. - الأصوات العالية.	- كتابة الرسائل على ورق البردى وإرسالها مع أشخاص للبلاد المختلفة.
- قرع الطبول.	- استخدام الحمام الزاجل لإرسال الرسائل لأنه أسرع.
لإرسال الإشارات للآخرين، بهدف تحذيرهم من خطر ما أو الإعلان عن مكانه.	- معرفة البريد.

إجابة نموذج (٤)

السؤال الأول



(١) أمامك خريطة صماء لمصر، اكتب مدلول الأرقام عليها:

- ١ يشير رقم (١) إلى أقدم الأديرة المصرية (ديسانت كاترين)
 - ٢ يشير رقم (٢) إلى محمية (وادي الريان)
 - ٣ يشير رقم (٣) إلى نهر (النيل)
 - ٤ يشير رقم (٤) إلى الصحراء (الشرقية)
- (ب) اذكر سبباً: تسعى الدولة للتحويل نحو استخدام النقل المستدام.

لخفض معدلات تلوث الهواء والمحافظة على البيئة


السؤال الثاني

(١) ضع علامة (✓) أمام العبارة الصحيحة، وعلامة (X) أمام العبارة غير الصحيحة فيما يلي:

- ١ منظمة الأمم المتحدة المسؤولة عن التربية والعلوم والثقافة هي منظمة اليونسكو. (✓)
- ٢ قام المصريون القدماء بنقش مظاهر احتفالاتهم على جدران المعابد. (✓)
- ٣ استخدم الإنسان الحمام الزاجل قديماً في إرسال الرسائل لسرعته. (✓)
- ٤ تم وضع علامات ضوئية على شكل إنسان لتنظيم عبور المشاة. (✓)
- ٥ توجد محمية وادي الريان عند التقاء خليجي السويس والعقبة. (X)

السؤال الثالث

(١) اختر الإجابة الصحيحة مما بين القوسين:

- ١ إحدى إيجابيات شبكة الإنترنت . ()
- (نشر الشائعات - الجولات الافتراضية - إضاعة الوقت - إهمال الهوايات)
- ٢ تعد العلامة المرورية التالية  من العلامات (التحذيرية - الضوئية - الأرضية - الإرشادية)
- ٣ زيارة السياح لخان الخليلي في القاهرة تعد سياحة (ثقافية - ترفيهية - علاجية - مؤتمرات)
- ٤ يرجع تاريخ منطقة أبو مينا الإسكندرية إلى فترة الحكم لمصر. (البطلمي - الروماني - القبطي - الإسلامي)

(ب) فسّر بذكر سبب واحد: بناء صلاح الدين قلعة في مدينة طابا.

لحماية الطرق البرية والبحرية المصرية.

إجابة نموذج (هـ)

السؤال الأول

- أكمل العبارات التالية:

- ١ من أبرز المدن التراثية القديمة على مستوى العالم (القاهرة التاريخية)
- ٢ تسهم (السياحة) بـ ١٢٪ من الدخل القومي في مصر.
- ٣ النقل النهري يستخدم في نقل المواد الخام اللازمة لـ (الصناعة)
- ٤ المصرى القديم صنع القوارب من نبات (البردى)
- ٥ يشتهر سكان مدن القناة بالأغاني المرتبطة بألة (السمسمية)

السؤال الثانى

(١) ضع كلمة (صواب) أمام العبارة الصحيحة وكلمة (خطأ) أمام العبارة غير الصحيحة:

- ١ يعمل سكان الحضر بحرفة الزراعة وتربية الحيوانات. (خطأ)
 - ٢ السياحة العلاجية تهدف للحفاظ على البيئة. (خطأ)
 - ٣ من جهود الدولة تجاه المناطق الأثرية صيانتها وترميمها. (صواب)
 - ٤ مصر أول دولة على مستوى العالم في إنشاء السكك الحديدية. (خطأ)
- (ب) حدد العلاقة بين: الدراجات والبيئة .

تعد الدراجة وسيلة مواصلات آمنة وغير مكلفة وصديقة للبيئة

السؤال الثالث

(١) اختر الإجابة الصحيحة مما بين القوسين:

- ١ الأتوبيسات الذكية تعتمد على استخدام (الوقود - الكهرباء - الماء - البخار)
- ٢ حاكم البلاد في مصر القديمة يتمثل في (الوزير - الكاهن - رئيس الإدارة المركزية - الفرعون)
- ٣ وزير التربية والتعليم مسئول عن توفير جيد للمواطنين. (صحة - أمن - تعليم - عدل)

(ب) قارن بين: السياحة العلاجية والسياحة الترفيهية من حيث الهدف منها في الجدول التالى:

السياحة الترفيهية	السياحة العلاجية
زيارة الأماكن الطبيعية للتمتع بالمناظر الخلابة	زيارة أماكن الاستشفاء والعلاج

مراجعة على الفصل الدراسي الثاني في الدراسات الاجتماعية الصف الرابع الابتدائي

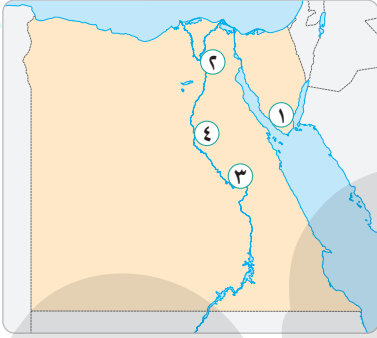


الاختبار الأول

.....
٣٠

.....
٧

السؤال الأول : (أ) أمامك خريطة صماء لمصر ، وضح مدلول الأرقام التي عليها :



- ١ - محافظة يقل بها عدد السكان
- ٢ - أكبر محافظات مصر من حيث عدد السكان
- ٣ - محافظة بها متحف السيرة الهلالية
- ٤ - أعلى محافظات مصر في نسبة الأمية

(ب) اكتب ما تشير إليه كل عبارة فيما يلي :

- ١ - السلطة المسئولة عن سن القوانين في مصر . (.....)
- ٢ - إحدى مبادرات الدولة لتنمية الريف . (.....)
- ٣ - محمية طبيعية توجد شرق حي المعادي في محافظة القاهرة . (.....)
- ٤ - منظمة الأمم المتحدة للتربية والعلوم والثقافة . (.....)

(ج) بم تفسر ... ؟

- أهمية السفن في عصر قدماء المصريين .

السؤال الثاني : (أ) اكتب كلمة (صح) أمام العبارة الصحيحة وكلمة (خطأ) أمام العبارة الخطأ :

.....
٨

- ١ - ربط أول خط سكة حديدي في مصر بين القاهرة والإسكندرية عام ١٨٥٦ م . ()
- ٢ - يعيش البدو في المناطق الريفية . ()
- ٣ - من آثار النوبة معبد الأقصر ومعبد الكرنك . ()
- ٤ - أنشئ متحف السكك الحديدية في الإسكندرية عام ١٩٣٢ م . ()

(ب) ما العلاقة بين ... ؟

- ١ - السياحة والدخل القومي في مصر .

- ٢ - منظمة اليونسكو ودولة اليمن .

السؤال الثالث : (أ) اختر الإجابة الصحيحة من بين الإجابات الآتية :

١ - عاصمة مصر هي :

- أ القاهرة ب الإسكندرية ج الجيزة د السويس

٢ - توجد محمية جنوب سيناء .

- أ وادي الريان ب وادي الحيتان ج رأس محمد د الغابة المتحجرة

٣ - من أهم الموانئ المصرية على البحر المتوسط ميناء :

- أ الغردقة ب سفاجا ج الإسكندرية د شرم الشيخ

(ب) من هو ... ؟

- ١ - يقوم بتعيين المحافظ .
٢ - أرسل رحلات تجارية إلى بلاد فينقيا لجلب أخشاب الأرز .
٣ - دخلت السيارات لأول مرة إلى مصر في عهده .

(.....)
(.....)
(.....)

(ج) ما النتائج المترتبة على ... ؟

• هجرة أهل الريف إلى المدن .

.....
.....

السؤال الرابع : (أ) أكمل العبارات الآتية بكلمات مناسبة :

- ١ - دخلت العربات الحربية مع غزو لمصر .
٢ - يقع دير سانت كاترين في محافظة
٣ - يساهم التراث المصري في توفير للشباب .
٤ - من مدن القناة و

(ب) ماذا يحدث إذا ... ؟

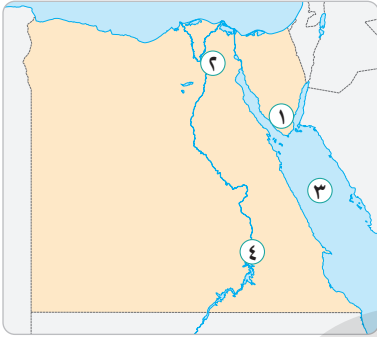
١ - تم إنشاء العديد من المدارس في الريف .

.....
.....

٢ - لم تحدث الثورة الصناعية .

.....
.....

السؤال الأول : (أ) أمامك خريطة صماء لمصر ، وضع مدلول الأرقام التي عليها :



- ١ - محافظة بها محمية رأس محمد
- ٢ - محافظة بها محمية الغابة المتحجرة
- ٣ - البحر
- ٤ - محافظة بها متحف النوبة

(ب) صوب ما تحته خط :

- ١ - أكبر محافظات مصر من حيث عدد السكان هي محافظة الإسكندرية . (.....)
- ٢ - يعيش سكان الريف في الصحاري . (.....)
- ٣ - توجد واحة سيوة في محافظة كفر الشيخ . (.....)
- ٤ - أول جامعة في التاريخ هي جامعة القاهرة . (.....)

(ج) اذكر أهمية ... :

- منظمة اليونسكو .

السؤال الثاني : (أ) اختر الإجابة الصحيحة من بين الإجابات الآتية :

- ١ - من أمثلة التراث الثقافي :
 - أ الأهرامات ب نهر النيل ج واحة سيوة د محمية رأس محمد
- ٢ - تقع محمية وادي الحيتان في محافظة :
 - أ القاهرة ب السويس ج الفيوم د أسوان
- ٣ - معبد إيزيس من آثار :
 - أ الإسكندرية ب الغردقة ج النوبة د جنوب سيناء
- ٤ - زيارة مناطق العيون الكبرى من أنواع السياحة :
 - أ الترفيهية ب الرياضية ج العلاجية د الثقافية

(ب) قارن بين :

- ١ - مسئوليات المحافظ ومسئوليات رئيس الجمهورية . (يكتفى باثنتين)

- ٢ - المجلس المحلي ومجلس النواب .

السؤال الثالث : (أ) اكتب ما تشير إليه كل عبارة فيما يلي :

.....
٧

- ١ - عدم قدرة الفرد على القراءة والكتابة . (.....)
- ٢ - نوع من أنواع السياحة يتم في الصحاري المصرية . (.....)
- ٣ - أرخص وسائل النقل لكنه بطيء . (.....)
- ٤ - مشروع يهدف إلى ربط العين السخنة بمدينة العلمين الجديدة . (.....)
- ٥ - استخدام وسائل نقل صديقة للبيئة وتعمل بطاقة نظيفة . (.....)

(ب) ما النتائج المترتبة على ... ؟

- ١ - تنوع أنماط السكان في مصر .

- ٢ - انتشار الأمية في المجتمع .

السؤال الرابع : (أ) أين توجد الآثار الآتية ... ؟

.....
٨

- ١ - متحف السيرة الهلالية . (.....)
- ٢ - محمية وادي الريان . (.....)
- ٣ - معبد الكرنك . (.....)
- ٤ - متحف السكة الحديد . (.....)

(ب) « الالتزام بقواعد وآداب المرور يحافظ على أرواح الناس » .. في ضوء العبارة السابقة ،

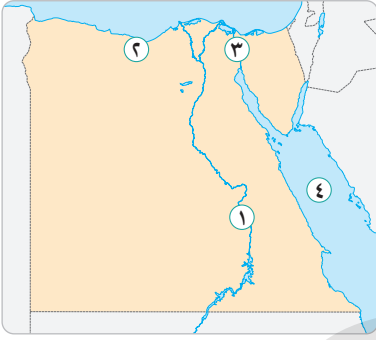
وضح ما يلي :

- ١ - أسباب وضع كاميرات على الطرق .

- ٢ - الآداب التي يجب اتباعها عند استخدام وسائل النقل .

٨

السؤال الأول : (أ) أمامك خريطة صماء لمصر ، وضع مدلول الأرقام التي عليها :



١ - محافظة بها معبد الكرنك

٢ - محافظة حضرية

٣ - قناة

٤ - البحر

(ب) في أي المحافظات توجد المحميات الطبيعية الآتية ... ؟

١ - محمية رأس محمد . (.....)

٢ - محمية الغابة المتحجرة . (.....)

٣ - محمية وادي الريان . (.....)

٤ - محمية وادي الحيتان . (.....)

(ج) بم تفسر ... ؟

١ - قيام الدولة بإطلاق مبادرة حياة كريمة .

٢ - أهمية الالتزام بقواعد وآداب المرور .

٧

السؤال الثاني : (أ) أكمل العبارات الآتية بكلمات مناسبة :

١ - مصر أول دولة عربية وإفريقية في إنشاء

٢ - أنشأت منظمة متحف النوبة في أسوان عام ١٩٩٧ م .

٣ - محافظة هي أكبر المحافظات المصرية من حيث عدد السكان .

٤ - يقوم بتعيين المحافظ .

٥ - شركة مصر للطيران إحدى مؤسسات

(ب) ما النتائج المترتبة على ... ؟

• تطور وسائل النقل عبر العصور .

السؤال الثالث : (أ) من يكون ... ؟

.....
٨

- ١ - قام بأول محاولة للطيران .
- ٢ - أرسلت بعثات تجارية لبلاد بونت .
- ٣ - دخلت في عهده أول سيارة إلى مصر .
- ٤ - الشخص المسئول عن إدارة شئون المحافظة ويمثل السلطة التنفيذية فيها .

(ب) صوب ما تحته خط :

- ١ - يقع دير سانت كاترين في محافظة الوادي الجديد .
- ٢ - تقع مدينة شرم الشيخ على ساحل البحر المتوسط .
- ٣ - النقل الجوي هو أرخص أنواع النقل .

(ج) ما العلاقة بين ... ؟

- فن التحطيب ومعبد الكرنك .

.....
٧

السؤال الرابع : (أ) اكتب ما تشير إليه كل عبارة فيما يلي :

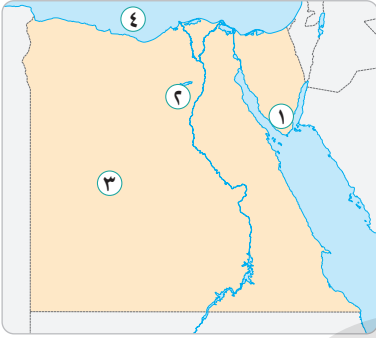
- ١ - أقل محافظات مصر من حيث عدد السكان .
- ٢ - عملية حصر شامل للسكان لتحديد الخدمات التي يحتاجون إليها .
- ٣ - أول جامعة في التاريخ .
- ٤ - عدم قدرة الإنسان على القراءة والكتابة .
- ٥ - من المدن القديمة التي قامت منظمة اليونسكو بترميمها في اليمن .

(ب) قارن بين :

- عيوب ومميزات النقل الجوي .

السؤال الأول: (أ) أمامك خريطة صماء لمصر ، وضع مدلول الأرقام التي عليها :

.....
٨



- ١ - دير يوجد في جنوب سيناء
- ٢ - محافظة بها محمية وادي الريان
- ٣ - الصحراء
- ٤ - البحر

(ب) حدد نوع السياحة عند زيارة المناطق الآتية :

- ١ - مدينة شرم الشيخ . (.....) ٢ - أهرامات الجيزة . (.....)
- ٣ - العيون الكبرى والرمال الساخنة . (.....)
- ٤ - معرض القاهرة الدولي للكتاب . (.....)
- (ج) اذكر ... :
- أهمية السياحة للاقتصاد المصري .

السؤال الثاني: (أ) اكتب كلمة (صح) أمام العبارة الصحيحة وكلمة (خطأ) أمام العبارة الخطأ :

.....
٧

- ١ - تقوم مصر بعمل تعداد سكاني مرة كل خمس سنوات . ()
- ٢ - يوجد متحف السيرة الهلالية في محافظة سوهاج . ()
- ٣ - تنتشر الشعاب المرجانية في البحر الأحمر . ()
- ٤ - محمية الغابة المتحجرة من التراث الثقافي . ()

(ب) اكتب ما تشير إليه كل عبارة فيما يلي :

- ١ - مبادرة أطلقتها الدولة لتنمية الريف . (.....)
- ٢ - عدم قدرة الفرد على القراءة والكتابة . (.....)
- (ج) ما العلاقة بين ... ؟
- الثورة الصناعية والسيارات .

السؤال الثالث : (أ) اختر الإجابة الصحيحة من بين الإجابات الآتية :

- ١ - أول خط سكة حديدي في مصر كان يربط بين مدينتي القاهرة و :
 أ الإسكندرية ب الإسماعيلية ج أسوان د بورسعيد
- ٢ - كانت رحلات الملكة حتشبسوت إلى بلاد..... لجلب البخور والأخشاب .
 أ العراق ب بونت ج قبرص د اليونان
- ٣ - محافظة..... هي أقل محافظات مصر في نسبة الأمية .
 أ القاهرة ب السويس ج البحر الأحمر د المنيا
- ٤ - يسمى عيد حصاد التمور والزيتون في واحة سيوة ب :
 أ يوم الفيضان ب عيد السياحة ج عيد الحب د عيد الربيع

(ب) ما النتائج المترتبة على ... ؟

١ - بناء السد العالي بالنسبة لآثار النوبة .

٢ - هجرة أهل الريف للمدن .

السؤال الرابع : (أ) أي السلوكيات الآتية صحيح وأيها خطأ ... ؟

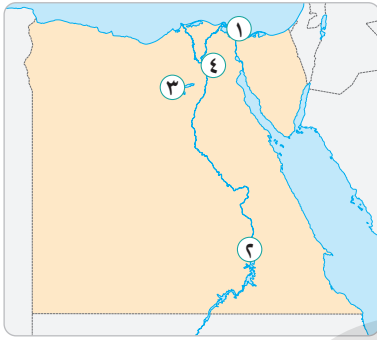
- ١ - عدم تجاوز السرعة المحددة أثناء قيادة السيارة . ()
- ٢ - تناول الطعام والشراب أثناء قيادة السيارة . ()
- ٣ - لمس القطع الأثرية والالتصاق بها . ()
- ٤ - الكتابة على الآثار وأخذ قطعة منها . ()
- ٥ - حسن معاملة السياح وتقديم المساعدة لهم . ()

(ب) ما مقترحاتك لـ ... ؟

١ - خفض معدلات تلوث الهواء بالنسبة لوسائل النقل .

٢ - كيفية الاستفادة من شبكات الطرق والكباري في حركة التنمية .

السؤال الأول : (أ) أمامك خريطة صماء لمصر ، وضع مدلول الأرقام التي عليها :



- ١ - إحدى مدن القناة.....
- ٢ - محافظة بها متحف النوبة.....
- ٣ - محافظة بها محمية وادي الحيتان.....
- ٤ - عاصمة مصر.....

(ب) أكمل العبارات الآتية باختيار الكلمة المناسبة

مما بين القوسين :

(القاهرة - قنا - جنوب سيناء - المنيا)

- ١ - محافظة هي أقل محافظات مصر من حيث عدد السكان .
- ٢ - محافظة هي أكبر محافظات مصر من حيث عدد السكان .
- ٣ - أعلى نسبة أمية توجد في محافظة
- ٤ - يوجد متحف السيرة الهلالية في محافظة

(ج) قارن بين :

- مهام رئيس الجمهورية ومهام المحافظ .

السؤال الثاني : (أ) اذكر عملًا واحدًا لكل من :

- ١ - الملكة حتشبسوت .
- ٢ - الملك سنفرو .
- ٣ - الملك خوفو .

(ب) صوب ما تحته خط :

- ١ - دخلت أول سيارة لمصر في عهد محمد علي .
- ٢ - تنتشر الشعاب المرجانية في البحر المتوسط .
- ٣ - توجد محمية الصحراء البيضاء في الصحراء الشرقية .

(ج) بم تفسر ... ؟

- أهمية وسائل النقل .

.....
٨

السؤال الثالث : (أ) اكتب ما تشير إليه كل عبارة فيما يلي :

- ١ - منظمة الأمم المتحدة للتربية والعلوم والثقافة . (.....)
- ٢ - محمية طبيعية توجد شرق حي المعادي بالقاهرة . (.....)
- ٣ - المجلس المسئول عن سن القوانين في مصر . (.....)
- ٤ - عدم قدرة الفرد على القراءة والكتابة . (.....)

(ب) ما العلاقة بين ... ؟

- ١ - العشوائيات والهجرة من الريف للمدن .

- ٢ - مظاهر السطح وعدد السكان في محافظة جنوب سيناء .

.....
٧

السؤال الرابع : (أ) في أي المناطق بمصر تتم الفنون الآتية ... ؟

- ١ - إنشاد الأغاني المرتبطة بألة السمسمية . (.....)
- ٢ - إنشاد السيرة الهلالية . (.....)
- ٣ - الاحتفال بيوم حصاد التمور والزيتون . (.....)

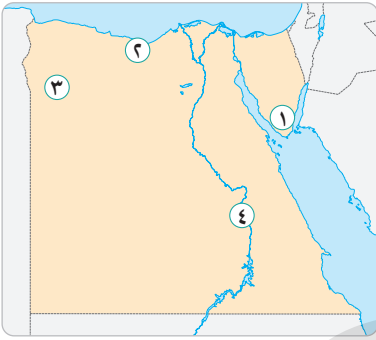
(ب) حدد مسئولية واحدة لكل من :

- ١ - الحكومة .
- ٢ - المجلس المحلي .

(ج) اذكر جهود الدولة في :

- تنمية الريف .

السؤال الأول: (أ) أمامك خريطة صماء لمصر ، وضع مدلول الأرقام التي عليها :



- ١ - أقل محافظات مصر من حيث عدد السكان.....
- ٢ - محافظة حضرية.....
- ٣ - محافظة بها واحة سيوة.....
- ٤ - محافظة بها معبد الكرنك.....

(ب) اختر الإجابة الصحيحة من بين الإجابات الآتية :

١ - تتمثل الحكومة المصرية في :

أ أعضاء البرلمان ب قضاة المحاكم

ج رئيس مجلس الوزراء والوزراء د العلماء

٢ - توجد محمية الغابة المتحجرة شرق حي..... في محافظة القاهرة .

أ مصر الجديدة ب مدينة نصر ج شبرا د المعادي

٣ - أول جامعة في التاريخ هي جامعة :

أ القاهرة ب عين شمس ج أون د حلوان

٤ - أول سيارة في مصر كانت تعمل بطاقة :

أ البنزين ب السولار ج البخار د الشمس

(ج) استنتج العلاقة بين :

• منظمة اليونسكو ودولة اليمن .

السؤال الثاني: (أ) اكتب كلمة (صح) أمام العبارة الصحيحة وكلمة (خطأ) أمام العبارة الخطأ :

١ - المجلس المحلي يساعد المحافظ في إدارة شئون المحافظة . ()

٢ - صوتك الانتخابي يساعد يوماً ما في تكوين مستقبل مصر . ()

٣ - قامت منظمة اليونسكو بإنقاذ معبد أبي سمبل من الغرق بعد بناء السد العالي . ()

٤ - قام عباس بن فرناس بأول محاولة للطيران . ()

٥ - النقل الجوي أرخص أنواع النقل . ()

(ب) بم تفسر ... ؟

• محافظة القاهرة أكبر محافظات مصر من حيث عدد السكان .

.....
٨

السؤال الثالث : (أ) في أي محافظات مصر توجد المعالم الآتية ... ؟

- ١ - محمية رأس محمد .
- ٢ - متحف النوبة .
- ٣ - مسجد أحمد بن طولون .
- ٤ - محمية وادي الريان .

(ب) ما النتائج المترتبة على ... ؟

١ - الهجرة من الريف إلى المدن .

٢ - تطور وسائل النقل عبر العصور .

.....
٧

السؤال الرابع : (أ) لمن تنسب الأعمال الآتية ... ؟

- ١ - تعيين المحافظين وتعيين ٥ ٪ من أعضاء مجلس النواب .
- ٢ - إرسال بعثات إلى سيناء للحصول على الفيروز والنحاس .
- ٣ - إنشاء معبد الدير البحري في الأقصر .

(ب) أجب عما يلي :

١ - اقترح حلولاً لـ :

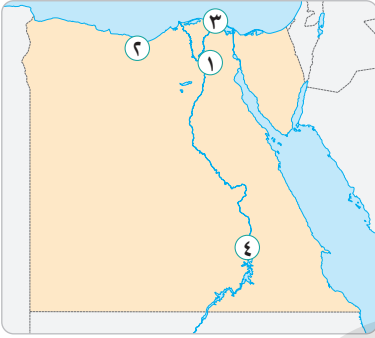
● مشكلة البطالة في محافظتك .

٢ - فسر :

● إصدار قانون المرور .

٨

السؤال الأول : (أ) أمامك خريطة صماء لمصر ، وضع مدلول الأرقام التي عليها :



- ١ - أكبر محافظات مصر من حيث عدد السكان
- ٢ - محافظة بها مطار برج العرب
- ٣ - أحد الموانئ المصرية على البحر المتوسط
- ٤ - محافظة بها معبد النوبة

(ب) أكمل العبارات الآتية بكلمات مناسبة :

- ١ - يقوم بتعيين المحافظ .
- ٢ - يقوم مجلس بسن القوانين في الدولة .
- ٣ - يوجد مسجد أحمد بن طولون في محافظة
- ٤ - النقل هو أسرع أنواع النقل .

(ج) ماذا يحدث إذا ... ؟

- ١ - لم تقم الدولة بإنشاء العديد من المدارس .

- ٢ - استخدم السياح فلاش الكاميرا عند التقاط صور للآثار .

٧

السؤال الثاني : (أ) اكتب ما تشير إليه كل عبارة فيما يلي :

- ١ - عملية حصر شامل للسكان تقوم بها الدولة مرة كل عشر سنوات . (.....)
- ٢ - عدم قدرة الفرد على القراءة والكتابة . (.....)
- ٣ - أول جامعة في التاريخ . (.....)
- ٤ - استخدام وسائل نقل صديقة للبيئة وتعمل بطاقة نظيفة . (.....)
- ٥ - خطوط مرسومة على الأرض توضح مسار تحرك السيارة على الطريق . (.....)

(ب) بم تفسر ... ؟

- ١ - أهمية إنشاء الكباري والمحاور .

- ٢ - انتشار الأمية في مصر .

السؤال الثالث : (أ) صوب ما تحته خط :

.....
٨

- ١ - يعيش سكان البدو في المدن .
- ٢ - من مدن القناة مدينة الجيزة .
- ٣ - السلطة القضائية سلطة مستقلة تتولاها أقسام الشرطة .
- ٤ - من أمثلة التراث الثقافي محمية وادي الريان .

(ب) اذكر نتيجة واحدة لكل مما يلي :

١ - صعوبة مظاهر السطح في محافظة جنوب سيناء .

٢ - انتشار الأمية في المجتمع .

٣ - تنفيذ مشروع المونوريل المعلق .

٤ - الهجرة من الريف إلى المدن .

السؤال الرابع : (أ) صل من المجموعة (أ) ما يناسبها من المجموعة (ب) :

.....
٧

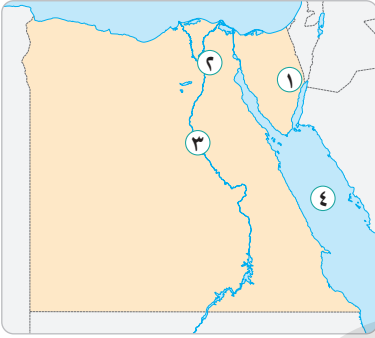
ب	أ
• القاهرة .	١ - توجد محمية رأس محمد في :
• الفيوم .	٢ - توجد محمية الغابة المتحجرة في :
• قنا .	٣ - توجد محمية وادي الحيتان في :
• جنوب سيناء .	٤ - يوجد معبد السيرة الهلالية في :

(ب) ما أهمية ... ؟

• مترو الأنفاق .

.....
٨

السؤال الأول : (أ) أمامك خريطة صماء لمصر ، وضع مدلول الأرقام التي عليها :



- ١ - محافظة بها قلعة صلاح الدين بمدينة طابا
- ٢ - عاصمة مصر
- ٣ - نهر
- ٤ - البحر

(ب) صنف الأماكن السياحية والأثرية الآتية إلى تراث

طبيعي وتراث ثقافي :

- ١ - مسجد أحمد بن طولون . (.....) ٢ - معبد أبو سمبل . (.....)
- ٣ - محمية رأس محمد . (.....) ٤ - الأهرامات . (.....)
- ٥ - محمية وادي الحيتان . (.....) ٦ - محمية الغابة المتحجرة . (.....)

(ج) ما العلاقة بين ... ؟

١ - الأمية والبطالة .

٢ - منظمة اليونسكو ودولة اليمن .

.....
٧

السؤال الثاني : (أ) اكتب ما تشير إليه كل عبارة فيما يلي :

- ١ - الجهاز المسئول عن التعداد السكاني لمصر . (.....)
- ٢ - هو كل ما تركه لنا الأجداد من أماكن تاريخية وأثرية . (.....)
- ٣ - محمية طبيعية بها هياكل وعظام لحيتان وحفريات كانت تعيش منذ ٤٠ مليون سنة . (.....)

(ب) بم تفسر ... ؟

١ - أهمية صوتك الانتخابي .

٢ - انتشار الأمية في مصر .

السؤال الثالث : (أ) اختر الإجابة الصحيحة من بين الإجابات الآتية :

١ - تم استخدام اللغة كشفرة للتواصل بين قادة وجنود الجيش في حرب أكتوبر .

- أ الهيروغليفية ب النوبية ج العربية د الهيراطيقية

٢ - من معالم التراث الثقافي :

- أ الأهرامات ب نهر النيل ج البحر المتوسط د محمية رأس محمد

٣ - مدينة بمصر أبرز المدن التراثية القديمة في العالم .

- أ القاهرة ب السويس ج بورسعيد د العريش

٤ - أرسل الملك بعثات تجارية لبلاد فينيقيا .

- أ رمسيس الثاني ب مينا ج سنفرو د تحتمس الثالث

(ب) اذكر وظيفة واحدة لكل من :

- ١ - رئيس الجمهورية .
٢ - المحافظ .
٣ - رئيس الوزراء .
٤ - المجلس المحلي .

.....

.....

.....

السؤال الرابع : (أ) أكمل العبارات الآتية بكلمات مناسبة :

١ - ساهمت منظمة في إنقاذ آثار النوبة بعد بناء السد العالي .

٢ - من أقدم الأديرة في مصر ويوجد في جنوب سيناء دير

٣ - دخلت السيارات مصر لأول مرة في عهد الخديوي

٤ - يهدف مشروع القطار السريع لربط بمدينة العلمين الجديدة .

٥ - من عيوب النقل الجوي

(ب) اذكر نتيجة واحدة لكل من :

١ - ندرة موارد المياه في محافظة جنوب سيناء .

.....

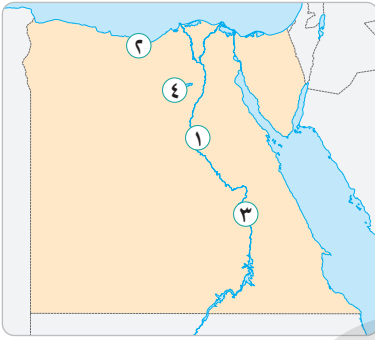
.....

٢ - تسرب بعض التلاميذ من المدارس بسبب ضعف المستوى الاقتصادي للأسرة .

.....

٨

السؤال الأول : (أ) أمامك خريطة صماء لمصر ، وضع مدلول الأرقام التي عليها :



- ١ - أعلى محافظات مصر في نسبة الأمية
- ٢ - محافظة حضرية
- ٣ - محافظة بها معبد الكرنك
- ٤ - محافظة بها محمية وادي الريان

(ب) اكتب ما تشير إليه كل عبارة فيما يلي :

- ١ - أقل محافظات مصر من حيث نسبة الأمية . (.....)
- ٢ - منظمة ساهمت في إنقاذ آثار النوبة من الغرق بعد بناء السد العالي . (.....)
- ٣ - محمية طبيعية توجد جنوب سيناء . (.....)
- ٤ - علامات مرورية توضح معالم الطريق للسائق مثل وجود مركز إسعاف . (.....)

(ج) اذكر جهود الدولة في :

- حل مشكلة الأمية .

٧

السؤال الثاني : (أ) من أكون ... ؟

- ١ - حاولت الطيران لأول مرة . (.....)
- ٢ - دخلت في عهدي أول سيارة إلى مصر . (.....)
- ٣ - أرسلت بعثات تجارية لبلاد فينيقيا . (.....)

(ب) صوب ما تحته خط :

- ١ - توجد واحة سيوة بمحافظة القاهرة . (.....)
- ٢ - زيارة الأهرامات نوع من أنواع السياحة العلاجية . (.....)
- ٣ - يرجع تاريخ منطقة أبو مينا بالإسكندرية إلى فترة الحكم الإسلامي لمصر . (.....)

(ج) دلل على :

- تتعدد أنماط السكان في مصر .

السؤال الثالث : (أ) اختر الإجابة الصحيحة من بين الإجابات الآتية :

١ - من المحافظات الحضرية محافظة :

- أ المنوفية ب بورسعيد ج أسوان د سوهاج

٢ - محافظة يوجد بها محمية الغابة المتحجرة :

- أ المنوفية ب المنيا ج القاهرة د البحر الأحمر

٣ - من أنواع السياحة زيارة مدينة شرم الشيخ .

- أ الثقافية ب العلاجية ج الترفيهية د المؤتمرات

٤ - دخلت العربات الحربية مصر مع غزو لها .

- أ الفرس ب الرومان ج الهكسوس د البطالمة

(ب) ما العلاقة بين ... ؟

١ - فن التحطيب ومعبد الكرنك .

٢ - بنك مصر وشركة مصر للطيران .

السؤال الرابع : (أ) أمامك مجموعة سلوكيات ، اكتب (أوافق) أو (لا أوافق) أمام كل سلوك :

()

١ - إفساح الطريق لسيارات الإسعاف .

()

٢ - الكتابة على وسائل النقل .

()

٣ - عدم تجاوز السرعة المحددة أثناء القيادة .

()

٤ - الأكل والشرب في المناطق الأثرية .

()

٥ - معاملة السياح معاملة حسنة .

(ب) أجب عما يلي :

١ - ما مقترحاتك لـ :

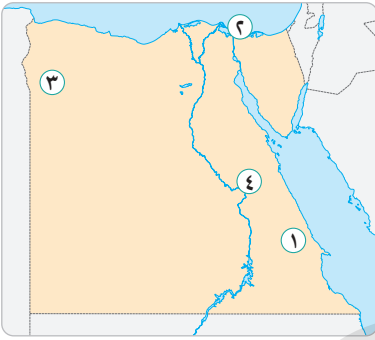
- تطوير النشاط السياحي في واحة سيوة .

٢ - اذكر :

- أهمية السياحة لمصر . (يكتفى باثنتين)

٨

السؤال الأول : (أ) أمامك خريطة صماء لمصر ، وضع مدلول الأرقام التي عليها :



- ١ - أقل محافظات مصر في نسبة الأمية
- ٢ - إحدى مدن القناة
- ٣ - واحة تحتفل بعيد حصاد التمور والزيتون
- ٤ - محافظة بها متحف السيرة الهلالية

(ب) اكتب كلمة (صح) أمام العبارة الصحيحة وكلمة

(خطأ) أمام العبارة الخطأ :

- ١ - قامت الدولة بإطلاق مبادرة حياة كريمة لتنمية الريف .
- ٢ - يساهم التراث المصري في تنشيط السياحة .
- ٣ - أرسلت الملكة حتشبسوت بعثات تجارية لبلاد روما .
- ٤ - يقوم رئيس الوزراء بتعيين المحافظ .

(ج) أيهما تفضل ؟ ولماذا ؟

- أن تكون من سكان الحضر أم من سكان الريف .

٧

السؤال الثاني : (أ) اذكر اسم المحافظة :

- ١ - أقل محافظات مصر من حيث عدد السكان .
- ٢ - محافظة يوجد بها محمية رأس محمد .
- ٣ - محافظة يوجد بها معبد الكرنك .
- ٤ - محافظة يوجد بها متحف النوبة .
- ٥ - محافظة توجد بها محمية الغابة المتحجرة .

(ب) ما العلاقة بين ... ؟

- ١ - الهكسوس والعربات الحربية في مصر .

٢ - الأمية والبطالة .

السؤال الثالث : (أ) اختر الإجابة الصحيحة من بين الإجابات الآتية :

- ١ - يوجد مسجد أحمد بن طولون في :
 أ بورسعيد ب الإسكندرية ج القاهرة د السويس
 - ٢ - مصر ثاني دولة في العالم بعد المملكة المتحدة في إنشاء :
 أ مترو الأنفاق ب المطارات ج السكك الحديدية د الطرق البرية
 - ٣ - النقل هو أسرع أنواع النقل .
 أ البري ب البحري ج النهري د الجوي
 - ٤ - شاركت مصر في مؤتمر النقل المستدام الذي عُقد في :
 أ بكين ب لندن ج باريس د برلين
- (ب) بم تفسر ... ؟

١ - محافظة القاهرة هي أكبر محافظات مصر من حيث عدد السكان .

٢ - اهتمام الدولة بتطوير الموانئ .

السؤال الرابع : (أ) حدد نوع وسيلة النقل الأفضل عند القيام بالرحلات الآتية :

- ١ - رحلة من القاهرة إلى مكة . (.....)
- ٢ - رحلة من الإسكندرية إلى مرسى مطروح . (.....)
- ٣ - رحلة من القاهرة إلى الإسكندرية . (.....)
- ٤ - رحلة من العين السخنة إلى مدينة العلمين الجديدة . (.....)
- ٥ - رحلة من شبرا الخيمة إلى الجيزة . (.....)

(ب) أجب عما يلي :

١ - ما هي جهود الدولة لـ ... ؟

• تنمية السياحة . (يكتفى باثنين)

٢ - ما الهدف من ... ؟

• مشروع تطوير مدينة القاهرة التاريخية .

الإجابات الاسترشادية

إجابات الاختبار الأول

السؤال الأول :

- (أ) ١ - جنوب سيناء ٢ - القاهرة ٣ - قنا ٤ - المنيا
 (ب) ١ - مجلس النواب (السلطة التشريعية) ٢ - مبادرة حياة كريمة ٣ - محمية الغابة المتحجرة
 (ج) لأنها كانت تستخدم في نقل الركاب والاحتفالات والتجارة .

السؤال الثاني :

- (أ) ١ - صح ٢ - خطأ ٣ - خطأ ٤ - خطأ
 (ب) ١ - تساهم السياحة بـ ١٢٪ من إجمالي الدخل القومي لمصر .
 ٢ - قامت منظمة اليونسكو بترميم مدينة صنعاء القديمة في اليمن .

السؤال الثالث :

- (أ) ١ - i ٢ - j ٣ - j
 (ب) ١ - رئيس الجمهورية ٢ - الملك سنفرو ٣ - الخديوي توفيق
 (ج) • ازدحام المدن . • ظهور العشوائيات .

السؤال الرابع :

- (أ) ١ - الهكسوس ٢ - جنوب سيناء
 ٣ - فرص عمل ٤ - السويس/ بورسعيد
 (ب) أجب بنفسك .

إجابات الاختبار الثاني

السؤال الأول :

- (أ) ١ - جنوب سيناء ٢ - القاهرة ٣ - الأحمر ٤ - أسوان
 (ب) ١ - القاهرة ٢ - القرى
 (ج) أجب بنفسك .

السؤال الثاني :

- (أ) ١ - i ٢ - j ٣ - j ٤ - j
 (ب) ١ -

مسئوليات رئيس الجمهورية	مسئوليات المحافظ	
• مسئول عن أمن الوطن . • رعاية مصالح الشعب .	• حفظ الأمن والنظام بالمحافظة . • توفير فرص العمل لأبناء المحافظة .	
مجلس النواب	المجلس المحلي	٢ -
• سن القوانين .	• مساعدة المحافظ في إدارة شؤون المحافظة .	

السؤال الثالث :

- (أ) ١ - الأمية ٢ - سياحة السفاري ٣ - النقل المائي
 ٤ - مشروع القطار السريع ٥ - النقل المستدام

- (ب) ١ - يساعد على التكامل بين السكان وتبادل المنتجات وتحقيق التنمية في جميع المجالات .
٢ - انتشار الجهل والخرافات بين الناس وانتشار البطالة والفقر .

السؤال الرابع :

- (أ) ١ - محافظة قنا
٢ - محافظة الفيوم
٣ - محافظة الأقصر
٤ - محافظة القاهرة
(ب) أجب بنفسك .

إجابات الاختبار الثالث

السؤال الأول :

- (أ) ١ - الأقصر
٢ - الإسكندرية
٣ - السويس
٤ - الأحمر
(ب) ١ - محافظة جنوب سيناء
٢ - محافظة القاهرة
٣ - محافظة الفيوم
٤ - محافظة الفيوم
(ج) ١ - لتنمية الريف .
٢ - للحفاظ على الأرواح .

السؤال الثاني :

- (أ) ١ - مترو الأنفاق
٢ - اليونسكو
٣ - القاهرة
٤ - رئيس الجمهورية
٥ - بنك مصر
(ب) أجب بنفسك .

السؤال الثالث :

- (أ) ١ - عباس بن فرناس
٢ - الملكة حتشبسوت
٣ - الخديوي توفيق
٤ - المحافظ
(ب) ١ - جنوب سيناء
٢ - البحر الأحمر
٣ - المائي
(ج) أجب بنفسك .

السؤال الرابع :

- (أ) ١ - محافظة جنوب سيناء
٢ - التعدادات السكانية
٣ - جامعة أون
٤ - الأمية
٥ - مدينة صنعاء القديمة
(ب) أجب بنفسك .

إجابات الاختبار الرابع

السؤال الأول :

- (أ) ١ - دير سانت كاترين
٢ - محافظة الفيوم
٣ - الغربية
٤ - المتوسط
(ب) ١ - ترفيهية
٢ - ثقافية
٣ - علاجية
(ج) • توفر فرص عمل للشباب .
• تسهم بـ ١٢٪ من الدخل القومي .
• المصدر الأول للعملات الأجنبية .

السؤال الثاني :

- (أ) ١ - خطأ
٢ - خطأ
٣ - صح
٤ - خطأ
(ب) ١ - مبادرة حياة كريمة
٢ - الأمية
(ج) طورت الثورة الصناعية صناعة السيارات ونتج عنها الماكينات .

السؤال الثالث :

- (أ) ١ - i
٢ - ب
٣ - ج
٤ - ب
- (ب) ١ - حتى لا تتعرض للغرق تم نقلها إلى مكان آخر بمساعدة منظمة اليونسكو .
٢ - • ازدحام المدن . • ظهور العشوائيات .

السؤال الرابع :

- (أ) ١ - أوافق
٤ - لا أوافق
(ب) أحب بنفسك .
- ٢ - لا أوافق
٥ - أوافق
٣ - لا أوافق

إجابات الاختبار الخامس

السؤال الأول :

- (أ) ١ - بورسعيد
(ب) ١ - جنوب سيناء
(ج) أحب بنفسك .
- ٢ - أسوان
٢ - القاهرة
٣ - الفيوم
٣ - المنيا
٤ - القاهرة
٤ - قنا

السؤال الثاني :

- (أ) ١ - أرسلت بعثات تجارية لبلاد بونت .
٣ - أرسل بعثات إلى سيناء للحصول على الفيروز والنحاس .
- (ب) ١ - الخديوي توفيق
(ج) أحب بنفسك .
- ٢ - البحر الأحمر
٣ - الصحراء الغربية
٢ - أرسل بعثات تجارية لبلاد فينيقيا .

السؤال الثالث :

- (أ) ١ - منظمة اليونسكو
٣ - مجلس النواب
(ب) ١ - تظهر العشوائيات نتيجة الهجرة من الريف للمدن .
٢ - عدم استواء مظاهر السطح في محافظة جنوب سيناء جعلها أقل محافظات مصر سكاناً .
- ٢ - محمية الغابة المتحجرة
٤ - الأمية

السؤال الرابع :

- (أ) ١ - مدن القناة
(ب) ١ - تعاون رئيس الجمهورية في إدارة شؤون البلاد .
٢ - يساعد المحافظ في إدارة شؤون المحافظة .
(ج) أحب بنفسك .
- ٢ - الصعيد (الوجه القبلي)
٣ - واحة سيوة

إجابات الاختبار السادس

السؤال الأول :

- (أ) ١ - جنوب سيناء
(ب) ١ - ج
(ج) قامت منظمة اليونسكو بترميم مدينة صنعاء القديمة في اليمن .
- ٢ - الإسكندرية
٢ - ج
٣ - مرسى مطروح
٣ - ج
٤ - الأقصر
٤ - ج

السؤال الثاني :

- (أ) ١ - صح
٢ - صح
٣ - صح
٤ - صح
٥ - خطأ
(ب) لأنها عاصمة مصر .

السؤال الثالث :

- (أ) ١ - جنوب سيناء
(ب) أجب بنفسك .
- ٢ - أسوان
٣ - القاهرة
٤ - الفيوم

السؤال الرابع :

- (أ) ١ - رئيس الجمهورية
(ب) ١ - أجب بنفسك .
- ٢ - الملك خوفو
٣ - الملكة حتشبسوت
٢ - للمحافظة على أرواح الناس .

إجابات الاختبار السابع

السؤال الأول :

- (أ) ١ - القاهرة
(ب) ١ - رئيس الجمهورية
(ج) أجب بنفسك .
- ٢ - الإسكندرية
٣ - ميناء دمياط
٤ - أسوان
- ٢ - النواب
٣ - القاهرة
٤ - الجوي

السؤال الثاني :

- (أ) ١ - التعداد السكاني
٤ - النقل المستدام
(ب) ١ - اختصار المسافات والوقت .
٢ - الزيادة السكانية .
٣ - تسرب بعض التلاميذ من المدارس لضعف المستوى الاقتصادي للأسرة .
- ٢ - الأمية
٥ - علامات أرضية
٣ - أون
- تقليل الحوادث .
• عدم التحاق الأطفال بالمدارس .

السؤال الثالث :

- (أ) ١ - الحضر
(ب) أجب بنفسك .
- ٢ - الإسماعيلية
٣ - المحاكم المختلفة
٤ - الأهرامات

السؤال الرابع :

- (أ) ١ - جنوب سيناء
(ب) يربط بين ثلاث مدن مصرية (الجيزة - القاهرة - شبرا الخيمة بالقلوبية) .
- ٢ - القاهرة
٣ - الفيوم
٤ - قنا

إجابات الاختبار الثامن

السؤال الأول :

- (أ) ١ - جنوب سيناء
(ب) ١ - ثقافي
٥ - طبيعي
(ج) ١ - تؤدي الأمية إلى انتشار البطالة .
- ٢ - القاهرة
٢ - ثقافي
٦ - طبيعي
- ٣ - النيل
٣ - طبيعي
٢ - أجب بنفسك .
- ٤ - الأحمر
٤ - ثقافي

السؤال الثاني :

- (أ) ١ - الجهاز المركزي للتعبئة العامة والإحصاء
٢ - التراث الثقافي
(ب) ١ - لأنه سوف يساعد يوماً ما في تكوين مستقبل مصر .
- ١ - الجهاز المركزي للتعبئة العامة والإحصاء
٣ - محمية وادي الحيتان
٢ - أجب بنفسك .

السؤال الثالث :

- (أ) ١ - ب
(ب) أجب بنفسك .
- ٢ - i
٣ - i
٤ - ج

السؤال الرابع :

- (أ) ١ - اليونسكو
٢ - سانت كاترين
٣ - توفيق
٤ - العين السخنة
٥ - التكلفة الاقتصادية العالية
(ب) ١ - قلة عدد السكان بها حتى أصبحت أقل محافظات مصر من حيث السكان .
٢ - انتشار الأمية .

إجابات الاختبار التاسع

السؤال الأول :

- (أ) ١ - المنيا
٢ - الإسكندرية
٣ - الأفصر
٤ - الفيوم
(ب) ١ - محافظة البحر الأحمر
٢ - منظمة اليونسكو
٣ - محمية رأس محمد
٤ - علامات إرشادية
(ج) أجب بنفسك .

السؤال الثاني :

- (أ) ١ - عباس بن فرناس
٢ - الخديوي توفيق
٣ - الملك سنفرو
(ب) ١ - مرسى مطروح
٢ - الثقافية
٣ - الحكم الروماني
(ج) حيث يوجد في مصر : (الحضر - الريف - البدو) .

السؤال الثالث :

- (أ) ١ - بورسعيد
٢ - القاهرة
٣ - الترفيهية
٤ - الهكسوس
(ب) أجب بنفسك .

السؤال الرابع :

- (أ) ١ - أوافق
٢ - لا أوافق
٣ - أوافق
٤ - لا أوافق
٥ - أوافق
(ب) ١ - أجب بنفسك .
٢ - توفر فرص عمل للشباب تساهم في الدخل القومي .

إجابات الاختبار العاشر

السؤال الأول :

- (أ) ١ - البحر الأحمر
٢ - بورسعيد
٣ - واحدة سيوة
٤ - محافظة قنا
(ب) ١ - صح
٢ - صح
٣ - خطأ
٤ - خطأ
(ج) أجب بنفسك .

السؤال الثاني :

- (أ) ١ - جنوب سيناء
٢ - جنوب سيناء
٣ - الأفصر
٤ - أسوان
٥ - القاهرة
(ب) ١ - دخلت العربات الحربية مصر مع غزو الهكسوس لها .
٢ - تؤدي الأمية إلى انتشار البطالة .

السؤال الثالث :

- (أ) ١ - ج
٢ - ب
٣ - د
٤ - ا
(ب) أجب بنفسك .

السؤال الرابع : أجب بنفسك .

اليوم السادس

اختبارات على الفصل الدراسي الثاني

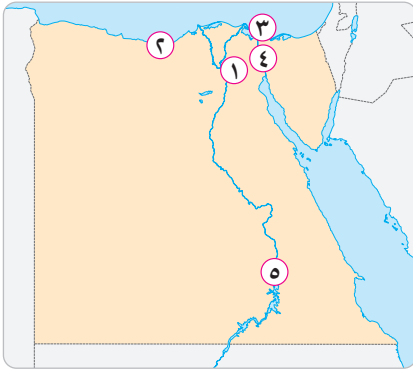
الاختبار الأول

.....
٣٠

(مجاب عنه ص ١٤٣)

.....
٥

١ | أمامك خريطة صماء لمصر ، وضح مدلول الأرقام التي عليها :



- ١ - عاصمة مصر
- ٢ - ميناء على البحر المتوسط
- ٣ - محافظة حضرية
- ٤ - قناة
- ٥ - محافظة بها معبد الكرنك

.....
٥

٢ | أكمل العبارات الآتية بكلمات مناسبة :

- ١ - تتكون الحكومة من و
- ٢ - تم بناء حصن بابلون في عهد لمصر .
- ٣ - من أنواع السياحة في مصر و
- ٤ - تقع منطقة أبو مينا في محافظة
- ٥ - شركة مصر للطيران هي إحدى مؤسسات بنك

.....
٥

٣ | من يكون ... ؟

- ١ - دخلت في عهده أول سيارة لمصر وذلك عام ١٨٩٠ م . (.....)
- ٢ - أرسل بعثات تجارية لبلاد فينيقيا لجلب أخشاب الأرز . (.....)
- ٣ - يقوم بتعيين ٥٪ من أعضاء مجلس النواب . (.....)
- ٤ - قام ببناء تمثال أبو الهول . (.....)
- ٥ - أرسلت بعثات تجارية لبلاد بونت . (.....)

٤ | اكتب كلمة (صح) أمام العبارة الصحيحة وكلمة (خطأ) أمام العبارة الخاطئة :

- ١ - يوم ٤ مايو من كل عام هو اليوم العالمي للمرور . ()
- ٢ - تبدأ العصور التاريخية بمعرفة الإنسان للزراعة . ()
- ٣ - يربط مترو الأنفاق بين القاهرة والجيزة والإسكندرية . ()
- ٤ - توجد محمية وادي الريان في محافظة المنيا . ()
- ٥ - جامعة أون هي أول جامعة في التاريخ . ()

٥ | في أي المحافظات يوجد ما يلي ... ؟

- ١ - محمية رأس محمد . (.....)
- ٢ - مسجد أحمد بن طولون . (.....)
- ٣ - محمية وادي الحيتان . (.....)
- ٤ - محمية الغابة المتحجرة . (.....)
- ٥ - متحف السيرة الهلالية . (.....)

٦ | أجب عما يلي :

- ١ - بم تفسر : جنوب سيناء هي أقل محافظات مصر سكاناً ؟
.....
- ٢ - ما نتيجة : انتشار الأمية في المجتمع ؟
.....
- ٣ - ما العلاقة بين : منظمة اليونسكو ودولة اليمن ؟
.....
- ٤ - ما رأيك في : الدور الذي يقوم به المجلس المحلي في محافظتك ؟
.....
- ٥ - ما مقترحاتك ل : تنمية المناطق السياحية في محافظتك ؟
.....

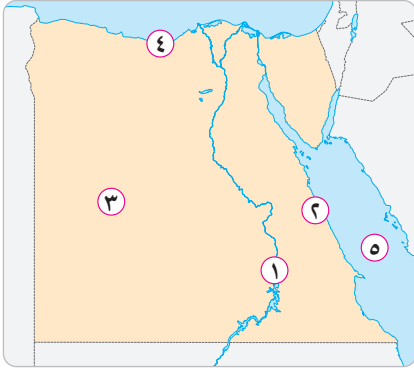
.....
٣٠

(مجاب عنه ص ١٤٤)

الاختبار الثاني

.....
٥

١ | أمامك خريطة صماء لمصر ، وضح مدلول الأرقام التي عليها :



- ١ - محافظة بها متحف النوبة
- ٢ - ميناء على البحر الأحمر
- ٣ - الصحراء
- ٤ - محافظة حضرية
- ٥ - البحر

.....
٥

٢ | اكتب ما تشير إليه كل عبارة مما يأتي :

- ١ - يُعد أرخص أنواع النقل . (.....)
- ٢ - أقل محافظة مصرية في نسبة الأمية . (.....)
- ٣ - جامع تم بناؤه بمصر في عهد الخليفة عمر بن الخطاب . (.....)
- ٤ - محمية طبيعية توجد بمحافظة القاهرة . (.....)
- ٥ - عدم قدرة الإنسان على القراءة والكتابة . (.....)

.....
٥

٣ | صوب ما تحته خط :

- ١ - قام الملك خوفو ببناء تمثال أبو الهول . (.....)
- ٢ - أنشئ متحف السكك الحديدية بالإسكندرية عام ١٩٣٢ م . (.....)
- ٣ - يوجد مسجد أحمد بن طولون في مدينة السويس . (.....)
- ٤ - يقع دير سانت كاترين في محافظة بورسعيد . (.....)
- ٥ - يقوم رئيس الوزراء بتعيين المحافظ . (.....)

حدد نوع السياحة عند زيارة المناطق الآتية :

٤

- ١ - أهرامات الجيزة . (سياحة)
- ٢ - العيون الكبرى في واحة سيوة . (سياحة)
- ٣ - مكتبة الإسكندرية . (سياحة)
- ٤ - مدينة شرم الشيخ . (سياحة)
- ٥ - معرض القاهرة الدولي للكتاب . (سياحة)

اذكر مهمة واحدة لكل من :

٥

- ١ - المحافظ .
- ٢ - المجلس المحلي .
- ٣ - مجلس النواب .
- ٤ - رئيس الوزراء .
- ٥ - الوزير .

أجب عما يلي :

٦

- ١ - قارن بين : عيوب ومميزات النقل الجوي .
- ٢ - اذكر اثنتين من : مزايا الإنترنت .
- ٣ - بم تفسر : إصدار قانون المرور ؟
- ٤ - ماذا تفعل عند : زيارة المناطق الأثرية ؟
- ٥ - ماذا تفعل لو : كنت وزيراً للآثار ؟

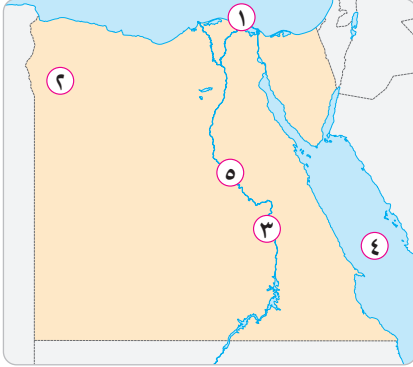
٣٠

(مجاب عنه ص ١٤٥)

الاجتبار الثالث

٥

١ | أمامك خريطة صماء لمصر ، وضح مدلول الأرقام التي عليها :



- ١ - ميناء على البحر المتوسط
- ٢ - واحة مصرية
- ٣ - محافظة بها معبد الكرنك
- ٤ - البحر
- ٥ - نهر

٥

٢ | اختر الإجابة الصحيحة من بين الإجابات الآتية :

- ١ - تم بناء جامع عمرو بن العاص بمصر في عهد الخليفة :
 - أ عثمان بن عفان
 - ب عمر بن الخطاب
 - ج أبو بكر الصديق
 - د علي بن أبي طالب
- ٢ - أرسل الملك سنفرو رحلات لبلاد لجلب أخشاب الأرز .
 - أ السودان
 - ب ليبيا
 - ج فينقيا
 - د المغرب
- ٣ - توجد محمية وادي الحيتان في محافظة :
 - أ بني سويف
 - ب القاهرة
 - ج الفيوم
 - د المنيا
- ٤ - أعلى محافظات مصر في نسبة الأمية هي محافظة :
 - أ السويس
 - ب بورسعيد
 - ج المنيا
 - د الأقصر
- ٥ - عاصمة مصر هي :
 - أ الجيزة
 - ب القليوبية
 - ج الإسكندرية
 - د القاهرة

٥

(.....)

٣ | أين يوجد ما يلي ... ؟

- ١ - متحف السيرة الهلالية .

- ٢ - متحف النوبة .
 ٣ - الأهرامات الثلاثة .
 ٤ - محمية الغابة المتحجرة .
 ٥ - دير سانت كاترين .



٤ | صوب ما تحته خط :

- ١ - يُعد مجلس النواب جزءاً من السلطة التنفيذية في مصر .
 ٢ - صمم المهندس أحمد حمدي برج القاهرة على شكل زهرة اللوتس .
 ٣ - قامت منظمة اليونسكو بترميم مدينة صنعاء القديمة في فلسطين .
 ٤ - يشتهر سكان مدن القناة بإنشاد السيرة الهلالية .
 ٥ - يوجد حصن بابلليون في مدينة الإسكندرية .



٥ | من يكون ... ؟

- ١ - يقوم بتعيين ٥٪ من أعضاء مجلس النواب .
 ٢ - دخلت في عهده أول سيارة لمصر عام ١٨٩٠ م .
 ٣ - له قلعة في جزيرة فرعون بمدينة طابا بجنوب سيناء .
 ٤ - أرسلت رحلات لبلاد بونت لجلب البخور والأخشاب .
 ٥ - صاحب أقدم أثر خشبي في التاريخ .



٦ | أجب عما يلي :

- ١ - بم تفسر : انتشار الأمية في الريف ؟

٢ - ما العلاقة بين : السياحة والدخل القومي ؟

٣ - ما نتيجة : الهجرة من الريف للمدن ؟

٤ - قارن بين : عيوب ومزايا النقل المائي .

٥ - كيف نستطيع : تنمية الريف في مصر ؟

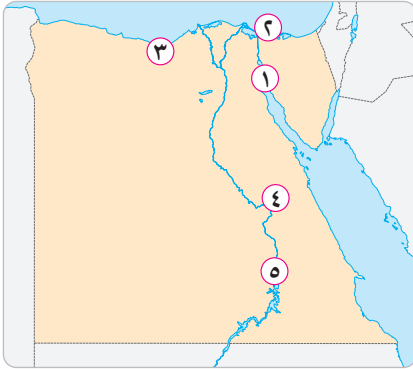
الاختبار الرابع

.....
٣٠

(مجاب عنه ص ١٤٦)

أمامك خريطة صماء لمصر ، وضح مدلول الأرقام التي عليها :

.....
٥



١ - إحدى مدن القناة

٢ - محافظة حضرية

٣ - ميناء على البحر المتوسط

٤ - محافظة بها متحف السيرة الهلالية

٥ - محافظة بها متحف النوبة

صل من المجموعة (أ) ما يناسبها من المجموعة (ب) :

.....
٥

(ب)	(أ)
• سياحة علاجية .	١ - زيارة الأهرامات :
• سياحة ثقافية .	٢ - زيارة معرض القاهرة الدولي للكتاب :
• سياحة مؤتمرات .	٣ - زيارة عيون واحة سيوة :
• صممه المهندس نعيم شبيب .	٤ - تمثال أبو الهول :
• بناء الملك خفرع .	٥ - برج القاهرة :

من يكون ... ؟

٣

- ١ - أرسل بعثات تجارية لبلاد فينيقيا لجلب أخشاب الأرز . (.....)
- ٢ - أرسلت رحلات تجارية لبلاد بونت لجلب الأخشاب والبخور . (.....)
- ٣ - يرأس الحكومة ويشرف على أعمالها . (.....)
- ٤ - يسن القوانين في الدولة ويمثل السلطة التشريعية . (.....)
- ٥ - يمثل مصر محلياً ودولياً ويرعى مصالح الشعب . (.....)

اكتب كلمة (صح) أمام العبارة الصحيحة وكلمة (خطأ) أمام العبارة الخاطئة :

٤

- ١ - أقل محافظات مصر في نسبة الأمية هي محافظة الإسكندرية . ()
- ٢ - تقع منطقة أبو مينا في محافظة القاهرة وهي مزار سياحي وتاريخي . ()
- ٣ - يسكن أهل الريف القرى ويعملون بالزراعة وتربية الحيوانات . ()
- ٤ - اخترع المصريون القدماء الكتابة الهيروغليفية . ()
- ٥ - أقدم جامعة في التاريخ هي جامعة القاهرة . ()

في أي المحافظات يوجد ما يلي ... ؟

٥

- ١ - محمية وادي الحيتان . (.....)
- ٢ - محمية رأس محمد . (.....)
- ٣ - محمية وادي الريان . (.....)
- ٤ - محمية الغابة المتحجرة . (.....)
- ٥ - مسجد أحمد بن طولون . (.....)

أجب عما يلي :

٦

- ١ - ما العلاقة بين : منظمة اليونسكو والسد العالي ؟

٢ - بم تفسر : أهمية السياحة في دعم الاقتصاد المصري ؟

٣ - ما الهدف من : قيام الدولة بإنشاء الكباري والمحاور ؟

٤ - وضح : أهم السلوكيات الصحيحة عند زيارة المناطق الأثرية .

٥ - ماذا يحدث إذا : لم نلتزم بقواعد المرور ؟

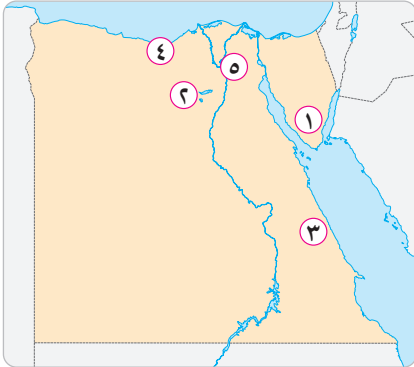
الاختبار الخامس

.....
٣٠

(مجاب عنه ص ١٤٧)

١ أمامك خريطة صماء لمصر ، وضح مدلول الأرقام التي عليها :

.....
٥



١ - محمية بجنوب سيناء .

٢ - محافظة بها محمية وادي الريان

٣ - أقل محافظات مصر في نسبة الأمية

٤ - ميناء على البحر المتوسط

٥ - عاصمة مصر

٢ أكمل العبارات الآتية بكلمات مناسبة :

.....
٥

١ - أول جامعة في التاريخ هي جامعة

٢ - زيارة نوع من أنواع السياحة العلاجية .

٣ - تم إنقاذ معبد أبو سمبل من الغرق بعد بناء

٤ - ساهمت منظمة في ترميم مدينة صنعاء القديمة باليمن .

٥ - يربط مترو الأنفاق بين والجيزة و



اذكر عملاً واحدًا لكل من :

٣

- ١ - المحافظ .
- ٢ - رئيس الجمهورية .
- ٣ - المجلس المحلي .
- ٤ - الوزير .
- ٥ - رئيس الوزراء .

اكتب كلمة (صح) أمام العبارة الصحيحة وكلمة (خطأ) أمام العبارة الختأ :

٤



- ١ - دخلت أول سيارة إلى مصر في عهد محمد علي باشا . ()
- ٢ - أول خط سكة حديد في مصر ربط بين القاهرة وأسوان . ()
- ٣ - الملكة حتشبسوت إحدى ملوك الدولة الفرعونية الوسطى . ()
- ٤ - تنتشر الأمية في الريف أكثر من المدن . ()
- ٥ - بنى الملك خضوع تمثال أبو الهول . ()

ضع علامة (✓) تحت (أوافق) أو (لا أوافق) بكل موقف من المواقف الآتية :

٥



أوافق	لا أوافق	
()	()	١ - استخدام الهاتف المحمول أثناء قيادة السيارة .
()	()	٢ - تناول الطعام والشراب بجانب القطع الأثرية .
()	()	٣ - عدم اتباع المشاة لقواعد المرور .
()	()	٤ - تجاوز السرعة المحددة عند قيادة السيارة .
()	()	٥ - استخدام الإنترنت في الأعمال المفيدة فقط .



أجب عما يلي :

٦

١ - قارن بين : النقل الجوي والنقل المائي من حيث العيوب والمميزات .

.....

٢ - بم تفسر : بناء المصريين القدماء للأهرامات ؟

.....

٣ - ما النتائج المترتبة على : انتشار الأمية في المجتمع ؟

.....

٤ - ما العلاقة بين : مجلس النواب والقوانين ؟

.....

٥ - ما رأيك في : جهود الدولة لمحو الأمية ؟

.....

اليوم الأول

اليوم الثاني

اليوم الثالث

اليوم الرابع

اليوم الخامس

اليوم السادس

اليوم السابع

اليوم السابع

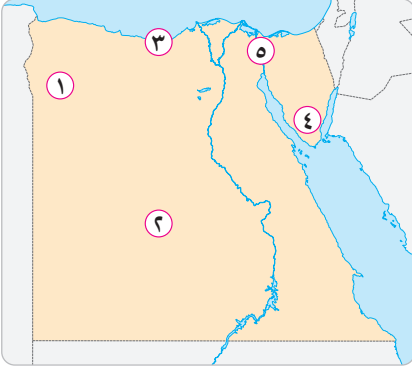
الاختبار السادس

.....
٣٠

(مجاب عنه ص ١٤٨)

.....
٥

١ | أمامك خريطة صماء لمصر ، وضح مدلول الأرقام التي عليها :



١ - واحة مصرية

٢ - الصحراء

٣ - محافظة حضرية

٤ - أقل محافظات مصر سكاناً

٥ - قناة

.....
٥

٢ | أكمل العبارات الآتية بكلمات مناسبة :

١ - مصر دولة عربية وإفريقية في إنشاء مترو الأنفاق .

٢ - توجد منطقة أبو مينا بمحافظة الإسكندرية بجوار مدينة

٣ - توجد محمية وادي الحيتان في محافظة

٤ - يوجد دير سانت كاترين في محافظة

٥ - من أهم الموانئ المصرية على البحر الأحمر ميناء

.....
٥

٣ | اكتب أمام وسائل النقل الآتية (نقل مائي - نقل بري - نقل جوي) :

(.....)

١ - السفينة .

(.....)

٢ - الطائرة .

(.....)

٣ - الأتوبيس النهري .

(.....)

٤ - مترو الأنفاق .

(.....)

٥ - الشاحنات .

٤

صوب ما تحته خط :

- ١ - توجد محمية الغابة المتحجرة بمحافظة السويس .
 (.....)
- ٢ - تم بناء جامع عمرو بن العاص بمصر في عهد الخليفة عثمان بن عفان .
 (.....)
- ٣ - المسئول عن سن القوانين في مصر السلطة التنفيذية .
 (.....)
- ٤ - يتم انتخاب أعضاء المجلس المحلي للمحافظة كل عشر سنوات .
 (.....)
- ٥ - يوجد مسجد أحمد بن طولون في الجيزة .
 (.....)

٥

من يكون ... ؟

- ١ - قام ببناء تمثال أبو الهول .
 (.....)
- ٢ - صمم برج القاهرة على شكل زهرة اللوتس .
 (.....)
- ٣ - أرسل بعثات تجارية لبلاد فينيقيا لجلب أخشاب الأرز .
 (.....)
- ٤ - شيدت معبد الدير البحري بالأقصر .
 (.....)
- ٥ - نجح في الطيران الحقيقي عام ١٩٠٣ م .
 (.....)

٦

أجب عما يلي :

- ١ - فسر : أسباب هجرة السكان من الريف إلى المدن .

- ٢ - استنتج العلاقة بين : الأمية والفقير .

- ٣ - وضح : دور منظمة اليونسكو في ترميم مدن التراث العالمي .

٤ - ما أهمية : قائمة التراث العالمي لليونسكو ؟

٥ - ما الهدف من : مشروع القطار الكهربائي المعلق ؟

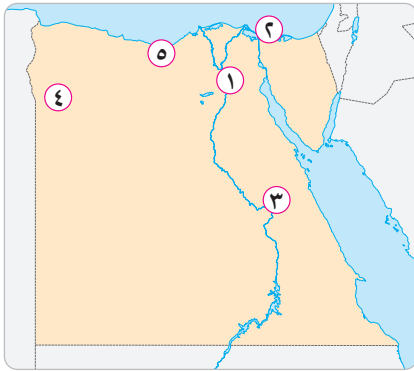
الاختبار السابع

.....

٣٠

(مجاب عنه ص ١٤٩)

١ | أمامك خريطة صماء لمصر ، وضح مدلول الأرقام التي عليها :



١ - عاصمة مصر

٢ - محافظة حضرية

٣ - محافظة بها متحف السيرة الهلالية

٤ - واحة مصرية

٥ - ميناء على البحر المتوسط

.....

٥

٢ | اختر الإجابة الصحيحة من بين الإجابات الآتية :

١ - من المبادرات التي قامت بها الدولة لتنمية الريف مبادرة :

أ تشجيع الإنجاب ب النقل المستدام

ج حياة كريمة د الزواج المبكر

٢ - محافظة هي ثاني محافظات مصر من حيث قلة نسبة الأمية بها .

أ أسوان ب بورسعيد ج السويس د المنيا

٣ - يمثل السلطة التشريعية في مصر .

أ البرلمان ب الرئيس ج مجلس الوزراء د القضاء

٤ - يعاون المحافظ في إدارة شئون المحافظة :

أ مجلس النواب ب المجلس العرفي

ج المجلس المحلي د مجلس الوزراء

٥ - أنشأت منظمة اليونسكو متحف النوبة في :

- أ الأقصر ب القاهرة ج أسوان د المنيا

٣ | اكتب كلمة (صح) أمام العبارة الصحيحة وكلمة (خطأ) أمام العبارة الخاطئة :

()

١ - توجد قلعة صلاح الدين في جزيرة فرعون بمدينة طابا جنوب الإسكندرية .

()

٢ - تعتبر محمية وادي الحيطان من التراث الطبيعي .

()

٣ - أنقذت منظمة اليونسكو آثار النوبة من الغرق بعد بناء السد العالي .

()

٤ - يُعد دير سانت كاترين بشمال سيناء من أقدم أديرة مصر .

()

٥ - يقع برج القاهرة في جزيرة الزمالك بالنيل في القاهرة .

٤ | اذكر أهمية واحدة لكل من :

١ - السياحة .

٢ - قواعد المرور .

٣ - النقل المستدام .

٤ - العيون الكبريتية في واحة سيوة .

٥ - المحاور والكباري .

٥ | رتب الأحداث الآتية من القديم إلى الحديث :

(بناء جامع عمرو بن العاص - بناء هرم خوفو - دخول أول سيارة لمصر -

إنشاء متحف السكك الحديدية - ظهور الإنترنت)

.....

.....

.....

.....
٥

٦ | أجب عما يلي :

١ - ما نتيجة : الهجرة من الريف للمدن ؟

.....

٢ - ما العلاقة بين : الأمية والبطالة ؟

.....

٣ - ما رأيك في : دور المحافظ في محافظتك ؟

.....

٤ - ما مقترحاتك من أجل : تنمية المناطق السياحية ؟

.....

٥ - ماذا يحدث إذا : لم يكن لدينا آثار متنوعة في مصر ؟

.....

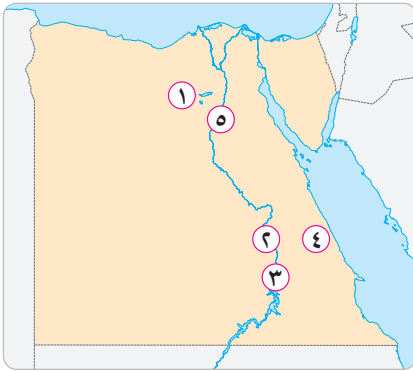
.....
٣٠

(مجاب عنه ص ١٥٠)

الاختبار الثامن

.....
٥

١ | أمامك خريطة صماء لمصر ، وضح مدلول الأرقام التي عليها :



١ - محافظة بها محمية وادي الحيتان

.....

٢ - محافظة بها معبد الكرنك

.....

٣ - محافظة بها متحف النوبة

.....

٤ - أقل محافظات مصر في نسبة الأمية

.....

٥ - أعلى محافظات مصر في نسبة الأمية

.....

.....
٥

٢ | اذكر أحد المعالم السياحية في المناطق الآتية :

(.....)

١ - حي مصر القديمة .

- ٢ - حي شرق المعادي . (.....)
- ٣ - حي شبرا . (.....)
- ٤ - مدينة طابا . (.....)
- ٥ - جزيرة الزمالك في النيل . (.....)



رتب وسائل النقل الآتية من القديم إلى الحديث :

٣

(الطائرات - السيارات - مترو الأنفاق - الدواب - السكك الحديدية)



صوب ما تحته خط :

٤

- ١ - أنشئ متحف السكك الحديدية في السويس عام ١٩٣٢ م . (.....)
- ٢ - استخدم المصري القديم ورقًا بلاستيكيًا لكتابة الرسائل . (.....)
- ٣ - دخلت أول سيارة لمصر في عهد سعيد باشا . (.....)
- ٤ - المسئول عن التعداد السكاني في مصر وزارة الداخلية . (.....)
- ٥ - تُعد المحاكم جزءًا من السلطة التشريعية . (.....)



انطب الأعمال الآتية لأصحابها :

٥

- ١ - صمم برج القاهرة . (.....)
- ٢ - بنى تمثال أبو الهول . (.....)
- ٣ - بنى مسجده بمصر في عهد الخليفة عمر بن الخطاب . (.....)
- ٤ - أرسلت بعثات تجارية لبلاد بونت . (.....)
- ٥ - قامت بترميم مدينة صنعاء القديمة باليمن . (.....)

.....
٥

٦ | أجب عما يلي :

١ - بم تفسر : محافظة جنوب سيناء أقل محافظات مصر سكاناً ؟

.....

٢ - ما نتيجة : عدم الالتزام بقواعد المرور ؟

.....

٣ - قارن بين : مميزات وعيوب الإنترنت . (يكتفى باثنتين فقط)

.....

٤ - ما العلاقة بين : منظمة اليونسكو والسد العالي ؟

.....

٥ - ما مقترحاتك لـ : تنمية الريف ؟

.....

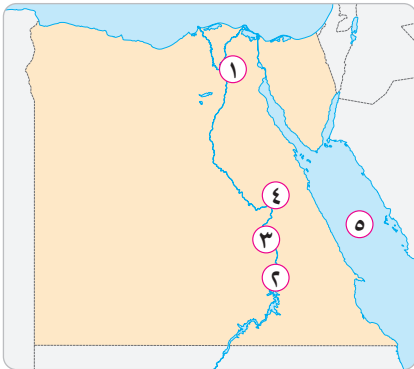
.....
٣٠

(مجاب عنه ص ١٥١)

الاختبار التاسع

.....
٥

١ | أمامك خريطة صماء لمصر ، وضع مدلول الأرقام التي عليها :



١ - مدينة بها جامع أحمد بن طولون

.....

٢ - محافظة بها متحف النوبة

.....

٣ - محافظة بها معبد الكرنك

.....

٤ - محافظة بها متحف السيرة الهلالية

.....

٥ - البحر

.....

.....
٥

٢ | اختر الإجابة الصحيحة من بين الإجابات الآتية :

١ - الكنيسة المعلقة تقع ضمن آثار منطقة :

أ النوبة ب الكرنك ج مصر القديمة د الإسكندرية

نظراً

- ٢ - أول محاولة للطيران قام بها ولكنه لم ينجح .
 أ جيمس وات
 ب الملك خوفو
 ج عباس بن فرناس
 د الأخوان رايت

- ٣ - ربط أول خط سكة حديد مصري بين القاهرة و :
 أ أسوان
 ب سوهاج
 ج مرسى مطروح
 د الإسكندرية
- ٤ - النقل هو أسرع أنواع النقل .
 أ البري
 ب النهري
 ج البحري
 د الجوي
- ٥ - أقل محافظات مصر سكاناً هي محافظة :
 أ جنوب سيناء
 ب شمال سيناء
 ج القاهرة
 د الفيوم

٣ | اكتب كلمة (صح) أمام العبارة الصحيحة وكلمة (خطأ) أمام العبارة الخاطئة :

- ١ - يسمى عيد حصاد التمور والزيتون في واحة سيوة بعيد السياحة . ()
 ٢ - دخلت أول سيارة إلى مصر في عهد سعيد باشا . ()
 ٣ - دخلت العربات الحربية إلى مصر مع غزو الهكسوس لها . ()
 ٤ - تُعد زيارة الأهرامات سياحة علاجية . ()
 ٥ - يقع معبد أبو سمبل في محافظة الفيوم . ()

٤ | اكتب أمام المناطق الآتية (تراث طبيعي أو تراث ثقافي) :

- ١ - محمية رأس محمد . (.....)
 ٢ - الأهرامات . (.....)
 ٣ - جامع أحمد بن طولون . (.....)
 ٤ - محمية وادي الحيتان . (.....)
 ٥ - آثار النوبة . (.....)

.....
٥

٥ | لمن تنسب الأعمال الآتية ... ؟

- ١ - بناء تمثال أبو الهول .
 - ٢ - تصميم برج القاهرة .
 - ٣ - بناء الهرم الأكبر .
 - ٤ - إرسال بعثات تجارية لبلاد فينيقيا .
 - ٥ - إرسال بعثات تجارية لبلاد بونت .
- (.....)
(.....)
(.....)
(.....)
(.....)

.....
٥

٦ | أجب عما يلي :

- ١ - حدد هدفًا واحدًا لكل من :
أ) إنشاء الكباري والمحاور .
ب) إنشاء مشروع القطار الكهربائي السريع .
ج) إنشاء المونوريل .
-

٢ - بم تفسر : القاهرة أكبر محافظات مصر سكانًا ؟

.....

٣ - ماذا يحدث إذا : قضت مصر على الأمية تمامًا ؟

.....

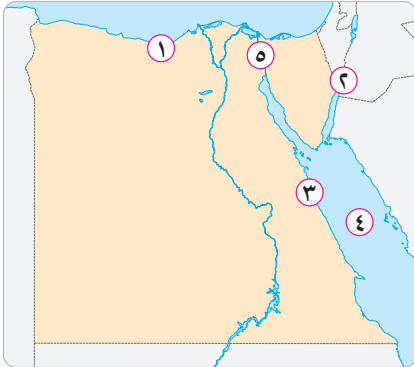
.....
٣٠

(مجاب عنه ص ١٥٢)

الاختبار العاشر

١ | أمامك خريطة صماء لمصر ، وضح مدلول الأرقام التي عليها :

.....
٥



- ١ - ميناء
- ٢ - مدينة
- ٣ - ميناء
- ٤ - البحر
- ٥ - قناة



أكمل باختيار الكلمة المناسبة مما بين القوسين :

٢

(العلاجية - السياحة - الثقافية - ترفيهية - مؤتمرات)

- ١ - زيارة مكتبة الإسكندرية نوع من أنواع السياحة
- ٢ - تسهم بنحو ١٢٪ من إجمالي الدخل القومي لمصر .
- ٣ - زيارة شواطئ شرم الشيخ تعتبر سياحة
- ٤ - من الواحات التي تشتهر بالسياحة واحة سيوة .
- ٥ - زيارة معرض الكتاب تعتبر سياحة



صوب ما تحته خط :

٣

- ١ - تم بناء حصن بابليون في عهد الاحتلال الفرنسي لمصر . (.....)
- ٢ - يقع دير سانت كاترين عند سفح جبل المقطم . (.....)
- ٣ - ساهمت منظمة الفاو في ترميم مدينة صنعاء القديمة باليمن . (.....)
- ٤ - دخلت أول سيارة إلى مصر في عهد الخديوي إسماعيل . (.....)
- ٥ - مصر ثاني دولة في العالم بعد فرنسا في إنشاء السكك الحديدية . (.....)



صل من المجموعة (أ) ما يناسبها من المجموعة (ب) :

٤

(ب)	(أ)
• القاهرة .	١ - محمية الغابة المتحجرة توجد بـ :
• الفيوم .	٢ - محمية رأس محمد توجد بـ :
• أسوان .	٣ - محمية وادي الريان توجد بـ :
• قنا .	٤ - متحف النوبة يوجد بـ :
• جنوب سيناء .	٥ - متحف السيرة الهلالية يوجد بـ :



٥ | اذكر عملًا واحدًا لكل من :

- ١ - الملك خوفو .
- ٢ - الملكة حتشبسوت .
- ٣ - الجهاز المركزي للتعبئة العامة والإحصاء .
- ٤ - مجلس النواب .
- ٥ - المحافظ .



٦ | أجب عما يلي :

- ١ - بم تفسر : القاهرة أكبر محافظات مصر سكانًا ؟
- ٢ - ما العلاقة بين : الهكسوس والعربات الحربية بمصر ؟
- ٣ - ماذا يحدث إذا : لم يهاجر السكان من الريف إلى المدن ؟
- ٤ - ما رأيك في : استخدام الإنسان للإنترنت ؟
- ٥ - ما مقترحاتك لـ : تنمية السياحة في محافظتك ؟

اليوم الأول

اليوم الثاني

اليوم الثالث

اليوم الرابع

اليوم الخامس

اليوم السادس

اليوم السابع

إجابات اليوم السادس

إجابة اختبارات على الفصل الدراسي الثاني

الاختبار الأول

١ أمامك خريطة صماء لمصر ، وضح مدلول الأرقام التي عليها :

- ١ - القاهرة ٢ - الإسكندرية ٣ - بورسعيد
٤ - السويس ٥ - الأقصر

٢ أكمل العبارات الآتية بكلمات مناسبة :

- ١ - رئيس الوزراء/ الوزراء ٢ - الاحتلال الروماني
٣ - السياحة الترفيهية/ السياحة العلاجية
٤ - الإسكندرية ٥ - مصر

٣ من يكون ... ؟

- ١ - الخديوي توفيق ٢ - الملك سنفرو ٣ - رئيس الجمهورية
٤ - الملك خفرع ٥ - الملكة حتشبسوت

٤ اكتب كلمة (صح) أمام العبارة الصحيحة وكلمة (خطأ) أمام العبارة الخطأ :

- ١ - صح ٢ - خطأ ٣ - خطأ ٤ - خطأ ٥ - صح

٥ في أي المحافظات يوجد ما يلي ... ؟

- ١ - جنوب سيناء ٢ - القاهرة ٣ - الفيوم
٤ - القاهرة ٥ - قنا

٦ أجب عما يلي :

- ١ - بسبب ندرة موارد المياه وصعوبة سطحها .
٢ - تؤدي إلى انتشار الجهل والخرافات بين الناس .
٣ - قامت منظمة اليونسكو بترميم مدينة صنعاء القديمة في اليمن .
٤،٥ - يجيب عنه التلميذ .

الاختبار الثاني

اليوم الأول

اليوم الثاني

اليوم الثالث

اليوم الرابع

اليوم الخامس

اليوم السادس

اليوم السابع

١ أمامك خريطة صماء لمصر ، وضح مدلول الأرقام التي عليها :

- ١ - أسوان ٢ - سفاجا ٣ - الغربية
٤ - الإسكندرية ٥ - الأحمر

٢ اكتب ما تشير إليه كل عبارة مما يأتي :

- ١ - النقل المائي ٢ - محافظة البحر الأحمر ٣ - جامع عمرو بن العاص
٤ - محمية الغابة المتحجرة ٥ - الأمية الهجائية

٣ صوب ما تحته خط :

- ١ - خفرع ٢ - القاهرة ٣ - القاهرة
٤ - جنوب سيناء ٥ - رئيس الجمهورية

٤ حدد نوع السياحة عند زيارة المناطق الآتية :

- ١ - ثقافية ٢ - علاجية ٣ - ثقافية
٤ - ترفيهية ٥ - معارض ومهرجانات

٥ اذكر مهمة واحدة لكل من :

- ١ - إدارة شئون المحافظة .
٢ - مساعدة المحافظ في إدارة شئون المحافظة .
٣ - سن القوانين في الدولة .
٤ - يرأس الحكومة ويشرف على أعمالها .
٥ - مسئول عن مجال واحد من مجالات الحياة اليومية في مصر .

٦ أجب عما يلي :

- ١ - عيوب النقل الجوي : التكلفة العالية .
• مميزات النقل الجوي : يتميز بالسرعة والانتشار / يتخطى الجبال والبحار .
٢ - سرعة الحصول على المعلومات . • سهولة التواصل مع الآخرين .
٣ - للحفاظ على أرواح الناس .
٤،٥ - يجيب عنه التلميذ .

الاختبار الثالث

١ أمامك خريطة صماء لمصر ، وضح مدلول الأرقام التي عليها :

- ١ - دمياط ٢ - سيوة ٣ - الأقصر
٤ - الأحمر ٥ - النيل

٢ اختر الإجابة الصحيحة من بين الإجابات الآتية :

- ١ - ب ٢ - ج ٣ - ج ٤ - ج ٥ - د

٣ أين يوجد ما يلي ... ؟

- ١ - محافظة قنا ٢ - محافظة أسوان ٣ - محافظة الجيزة
٤ - محافظة القاهرة ٥ - محافظة جنوب سيناء

٤ صوب ما تحته خط :

- ١ - مجلس الوزراء ٢ - نعوم شبيب ٣ - اليمن
٤ - الصعيد ٥ - القاهرة

٥ من يكون ... ؟

- ١ - رئيس الجمهورية ٢ - الخديوي توفيق ٣ - صلاح الدين
٤ - الملكة حتشبسوت ٥ - الملك خوفو

٦ أجب عما يلي :

- ١ - بسبب انخفاض الدخل وانخفاض مستوى معيشة الأسرة مما يؤدي إلى تسرب التلاميذ من المدارس .
٢ - تساهم السياحة بنحو ١٢٪ من الدخل القومي .
٣ - تؤدي إلى الضغط على الخدمات في المدن وظهور العشوائيات بها .
٤ - مميّزاته : أرخص أنواع النقل .
• عيوبه : بطيء .
٥ - يجيب عنه التلميذ .

الاجتبار الرابع

اليوم الأول

اليوم الثاني

اليوم الثالث

اليوم الرابع

اليوم الخامس

اليوم السادس

اليوم السابع

١ أمامك خريطة صماء لمصر ، وضح مدلول الأرقام التي عليها :

- ١ - السويس ٢ - بورسعيد ٣ - الإسكندرية
٤ - قنا ٥ - أسوان

٢ صل من المجموعة (أ) ما يناسبها من المجموعة (ب) :

- ١ - سياحة ثقافية ٢ - سياحة مؤتمرات ٣ - سياحة علاجية
٤ - بناء الملك خفرع ٥ - صممه المهندس نعام شبيب

٣ من يكون ... ؟

- ١ - الملك سنفرو ٢ - الملكة حتشبسوت ٣ - رئيس الوزراء
٤ - مجلس النواب ٥ - رئيس الجمهورية

٤ اكتب كلمة (صح) أمام العبارة الصحيحة وكلمة (خطأ) أمام العبارة الخطأ :

- ١ - خطأ ٢ - خطأ ٣ - صح ٤ - صح ٥ - خطأ

٥ في أي المحافظات يوجد ما يلي ... ؟

- ١ - محافظة الفيوم ٢ - محافظة جنوب سيناء ٣ - محافظة الفيوم
٤ - محافظة القاهرة ٥ - محافظة القاهرة

٦ أجب عما يلي :

- ١ - قامت منظمة اليونسكو بإنقاذ آثار النوبة من الغرق بعد بناء السد العالي .
٢ - تساعد السياحة على توفير فرص العمل وزيادة الدخل القومي وتوفير العملات الأجنبية .
٣ - لتخفيف الازدحام المروري وتقريب المسافات وتقليل الحوادث .
٤،٥ - يجيب عنه التلميذ .

الاختبار الخامس

١ أمامك خريطة صماء لمصر ، وضح مدلول الأرقام التي عليها :

- ١ - رأس محمد ٢ - محافظة الفيوم ٣ - محافظة البحر الأحمر
٤ - ميناء الإسكندرية ٥ - القاهرة

٢ أكمل العبارات الآتية بكلمات مناسبة :

- ١ - أون ٢ - العيون الكبرى بواحة سيوة
٣ - السد العالي ٤ - اليونسكو ٥ - القاهرة/ شبرا الخيمة

٣ اذكر عملاً واحداً لكل من :

- ١ - حماية حقوق الإنسان والممتلكات العامة والخاصة في المحافظة .
٢ - رعاية مصالح الشعب .
٣ - مساعدة المحافظ في إدارة شؤون المحافظة .
٤ - مسئول عن مجال واحد من مجالات الحياة اليومية في مصر .
٥ - يرأس الحكومة ويشرف على أعمالها .

٤ اكتب كلمة (صح) أمام العبارة الصحيحة وكلمة (خطأ) أمام العبارة الخاطئة :

- ١ - خطأ ٢ - خطأ ٣ - خطأ ٤ - صح ٥ - صح

٥ ضع علامة (✓) تحت (أوافق) أو (لا أوافق) بكل موقف من المواقف الآتية :

- ١ - لا أوافق ٢ - لا أوافق ٣ - لا أوافق ٤ - لا أوافق ٥ - أوافق

٦ أجب عما يلي :

١ - المقارنة	النقل الجوي	النقل المائي
العيوب	تكالفته عالية	بطيء
المميزات	سريع ويتخطى الجبال والبحار وواسع الانتشار	أرخص أنواع النقل

- ٢ - لاعتقادهم في البعث والخلود . ٣ - انتشار الجهل والخرافات في المجتمع .
٤ - يقوم مجلس النواب بسن القوانين . ٥ - يجيب عنه التلميذ .

إجابات اليوم السابع

الاختبار السادس

اليوم الأول

اليوم الثاني

اليوم الثالث

اليوم الرابع

اليوم الخامس

اليوم السادس

اليوم السابع

١ أمامك خريطة صماء لمصر ، وضح مدلول الأرقام التي عليها :

- ١ - واحة سيوة
٢ - الغربية
٣ - الإسكندرية
٤ - جنوب سيناء
٥ - السويس

٢ أكمل العبارات الآتية بكلمات مناسبة :

- ١ - أول
٢ - برج العرب
٣ - الفيوم
٤ - جنوب سيناء
٥ - سفاجا

٣ اكتب أمام وسائل النقل الآتية (نقل مائي - نقل بري - نقل جوي) :

- ١ - نقل مائي
٢ - نقل جوي
٣ - نقل مائي
٤ - نقل بري
٥ - نقل بري

٤ صوب ما تحته خط :

- ١ - القاهرة
٢ - عمر بن الخطاب
٣ - مجلس النواب
٤ - أربع سنوات
٥ - القاهرة

٥ من يكون ... ؟

- ١ - الملك خفرع
٢ - المهندس الراحل نعيم شبيب
٣ - الملك سنفرو
٤ - الملكة حتشبسوت
٥ - الأخوان رايت

٦ أجب عما يلي :

- ١ - لانخفاض الدخل في الريف وقلّة فرص العمل وانخفاض مستوى المعيشة .
٢ - فقر الأسرة يؤدي إلى تسرب الطلاب من المدارس وبالتالي زيادة نسبة الأمية .
٣ - قامت منظمة اليونسكو بترميم مدينة صنعاء القديمة في اليمن .
٤،٥ - يجيب عنه التلميذ .

الاختبار السابع

اليوم الأول

١ أمامك خريطة صماء لمصر ، وضح مدلول الأرقام التي عليها :

- ١ - القاهرة ٢ - بورسعيد ٣ - قنا
٤ - سيوة ٥ - ميناء الإسكندرية

اليوم الثاني

٢ اختر الإجابة الصحيحة من بين الإجابات الآتية :

- ١ - ج ٢ - ب ٣ - ا ٤ - ج ٥ - ج

اليوم الثالث

٣ اكتب كلمة (صح) أمام العبارة الصحيحة وكلمة (خطأ) أمام العبارة الخطأ :

- ١ - خطأ ٢ - صح ٣ - صح ٤ - صح ٥ - صح

اليوم الرابع

٤ اذكر أهمية واحدة لكل من :

- ١ - تسهم بنحو ١٢٪ من الدخل القومي .
٢ - تحافظ على أرواح الناس .
٣ - يحافظ على البيئة لتكون نظيفة .
٤ - تستخدم في العلاج من بعض الأمراض .
٥ - تقلل من الحوادث .

اليوم الخامس

٥ رتب الأحداث الآتية من القديم إلى الحديث :

- ١ - بناء هرم خوفو ٢ - بناء جامع عمرو بن العاص
٣ - دخول أول سيارة لمصر ٤ - إنشاء متحف السكك الحديدية
٥ - ظهور الإنترنت

اليوم السادس

٦ أجب عما يلي :

- ١ - ظهور العشوائيات والضغط على الخدمات في المدن .
٢ - تؤدي الأمية إلى البطالة ؛ لأنها تقلل من فرص الحصول على العمل .
٣، ٤، ٥ - يجيب عنه التلميذ .

اليوم السابع

الاختبار الثامن

اليوم الأول

١ أمامك خريطة صماء لمصر ، وضح مدلول الأرقام التي عليها :

- ١ - الفيوم ٢ - الأقصر ٣ - أسوان
٤ - البحر الأحمر ٥ - المنيا

اليوم الثاني

٢ اذكر أحد المعالم السياحية في المناطق الآتية :

- ١ - جامع عمرو بن العاص ٢ - محمية الغابة المتحجرة
٣ - قصر محمد علي ٤ - قلعة صلاح الدين ٥ - برج القاهرة

اليوم الثالث

٣ رتب وسائل النقل الآتية من القديم إلى الحديث :

- ١ - الدواب ٢ - السكك الحديدية ٣ - السيارات
٤ - الطائرات ٥ - مترو الأنفاق

اليوم الرابع

٤ صوب ما تحته خط :

- ١ - القاهرة ٢ - ورق البردي
٣ - الخديوي توفيق ٤ - الجهاز المركزي للتعبئة العامة والإحصاء
٥ - القضاة

اليوم الخامس

٥ انسب الأعمال الآتية لأصحابها :

- ١ - المهندس نعم شبيب ٢ - الملك خفرع ٣ - عمرو بن العاص
٤ - الملكة حتشبسوت ٥ - منظمة اليونسكو

اليوم السادس

٦ أجب عما يلي :

- ١ - لندرة موارد المياه فيها وصعوبة مظاهر سطحها .
٢ - تعرض أرواح الناس للخطر .
٣، ٤، ٥ - يجيب عنه التلميذ .

اليوم السابع

الاختبار التاسع

اليوم الأول

اليوم الثاني

اليوم الثالث

اليوم الرابع

اليوم الخامس

اليوم السادس

اليوم السابع

١ أمامك خريطة صماء لمصر ، وضح مدلول الأرقام التي عليها :

- ١ - القاهرة ٢ - أسوان ٣ - الأقصر
٤ - قنا ٥ - الأحمر

٢ اختر الإجابة الصحيحة من بين الإجابات الآتية :

- ١ - ج ٢ - ج ٣ - د ٤ - د ٥ - ا

٣ اكتب كلمة (صح) أمام العبارة الصحيحة وكلمة (خطأ) أمام العبارة الخاطئة :

- ١ - صح ٢ - خطأ ٣ - صح ٤ - خطأ ٥ - خطأ

٤ اكتب أمام المناطق الآتية (تراث طبيعي أو تراث ثقافي) :

- ١ - تراث طبيعي ٢ - تراث ثقافي ٣ - تراث ثقافي
٤ - تراث طبيعي ٥ - تراث ثقافي

٥ لمن تنسب الأعمال الآتية ... ؟

- ١ - الملك خفرع ٢ - المهندس الراحل نعم شبيب
٣ - الملك خوفو ٤ - الملك سنفرو ٥ - الملكة حتشبسوت

٦ أجب عما يلي :

- ١ - يجب عنه التلميذ .
٢ - لأنها عاصمة مصر .
٣ - يجب عنه التلميذ .

الاختبار العاشر

اليوم الأول

١ أمامك خريطة صماء لمصر ، وضح مدلول الأرقام التي عليها :

- ١ - الإسكندرية ٢ - طابا ٣ - سفاجا
٤ - الأحمر ٥ - السويس

اليوم الثاني

٢ أكمل باختيار الكلمة المناسبة مما بين القوسين :

- ١ - الثقافية ٢ - السياحة ٣ - ترفيهية
٤ - العلاجية ٥ - مؤتمرات

اليوم الثالث

٣ صوب ما تحته خط :

- ١ - الروماني ٢ - سيناء ٣ - اليونسكو
٤ - الخديوي توفيق ٥ - المملكة المتحدة

اليوم الرابع

٤ صل من المجموعة (أ) ما يناسبها من المجموعة (ب) :

- ١ - القاهرة ٢ - جنوب سيناء ٣ - الفيوم
٤ - أسوان ٥ - قنا

اليوم الخامس

٥ اذكر عملاً واحدًا لكل من :

- ١ - بناء تمثال أبو الهول . ٢ - إرسال بعثة تجارية لبلاد بونت .
٣ - إجراء التعداد السكاني . ٤ - سن القوانين .
٥ - إدارة شؤون المحافظة .

اليوم السادس

٦ أجب عما يلي :

- ١ - لأنها عاصمة مصر .
٢ - دخلت العربات الحربية إلى مصر مع غزو الهكسوس لها .
٣ - لم تظهر العشوائيات في المدن ولم يتم الضغط على الخدمات في المدن .
٤،٥ - يجيب عنه التلميذ .

اليوم السابع

النموذج الأول

س ١ أكمل العبارات الآتية بكلمات مناسبة مما بين القوسين:

(عباس بن فرناس - القاهرة - سيوة - إسماعيل - توفيق - الهاتف)

- أ تم اختراع أول طائرة على يد
- ب دخلت السيارة البخارية مصر على يد الخديوي
- ج واحة تشتهر بالسياحة العلاجية.
- د من وسائل الاتصال في العصر الحالي
- ه تعد مدينة من أكبر المدن التراثية في العالم.

س ٢ أجب عن الأسئلة التالية:

أ دلل على جهود اليونسكو لإنقاذ بعض المواقع التراثية المصرية.

ب وضح أوجه الاختلاف بين مهام كل من المحافظ ورئيس الجمهورية.

س ٣ اختر الإجابة الصحيحة مما يلي:

أ تعبر الصورة التي أمامك عن التراث



(الطبيعي - الثقافي - التاريخي - القبلي)

ب اعتقد المصريون القدماء في

(الحياة بعد الموت - المونوريل - التحول الرقمي - كل ما سبق)

ج الصورة التي أمامك إحدى صور السياحة



(العلاجية - سياحة المهرجانات - الثقافية - الترفيهية)

د يقوم جهاز بجمع البيانات ومعالجتها وتحليلها.

(الثقافي - التعبئة العامة والإحصاء - الأنيمومتر - اليونسكو)

٤ **س** وضع دور السفن في تنشيط التجارة بين مصر وجيرانها قديمًا وحديثًا.

أ قديمًا:

ب حديثًا:

٥ **س** صوب ما تحته خط:

أ تعد محافظة المنيا أكبر المحافظات كثافة في السكان. (.....)

ب العالم الآن أصبح أكثر تدهورًا ورفاهية بفضل العلم والتقدم. (.....)

ج تعبر هذه العلامة  عن وجود حفر في الطريق. (.....)

د الإشارات الدخانية من وسائل الاتصال بعد معرفة الكتابة. (.....)

النموذج الثاني

١ س) أمامك خريطة صماء لمصر، اكتب مدلول الأرقام الموقعة عليها:



- ١ محافظة تزيد فيها الكثافة السكانية
- ٢ مدينة تشتهر بالسياحة العلاجية
- ٣ أفضل مدينة سلام في العالم
- ٤ محافظة يقل بها عدد السكان

٢ س) اكتب كلمة (صح) أمام العبارة الصحيحة، وكلمة (خطأ) أمام العبارة غير الصحيحة، مع التصويب:

- أ يشتهر أهل سيناء بلعبة التحطيب. ()
- ب مشكلة البطالة من أكثر المشكلات المنتشرة في مصر. ()
- ج تسعى مبادرة «حياة كريمة» لتحقيق التنمية المستدامة. ()
- د السلطة القضائية مسؤولة عن إدارة شئون البلاد. ()
- هـ بنى الملك خفرع «أبو الهول» على شكل رأس إنسان وجسم أسد. ()

٣ س) أجب عما يأتي:

- أ وضح جهود الدولة لتطوير النقل والمواصلات.
.....
- ب حدد بعض المواقع المسجلة في قائمة التراث الطبيعي.
.....

٤ س) أكمل العبارات الآتية:

- أ الوظيفة الحالية المقابلة لوظيفة حكام الأقاليم قديمًا هي
- ب تضم محمية هياكل عظمية لحيتان من ملايين السنين.
- ج يشتهر سكان مدن القناة بالعزف على آلة

د عدم قدرة الفرد على معرفة القراءة والكتابة تعرف باسم

ه اتخذ المصريون القدماء العربات الحربية من

س أمامك مجموعة من الصور التي تعبر عن بعض المعالم الأثرية، وضح أيها تراث ثقافي وأيها تراث طبيعي.



أ



ب



ج




د

النموذج الثالث

١ أس اكمل العبارات الآتية بكلمات مناسبة:

- أ استخدم المصريون القدماء في حمل الأشياء والتنقل قبل معرفة العربات.
ب تسعى الدولة إلى توعية الشباب بـ
- ج يعد دير سانت كاترين من أهم المعالم السياحية في محافظة
- د يتم مكافحة الجرائم الإلكترونية من خلال
- هـ توجد منطقة «أبو مينا» في محافظة

٢ أس اكتب كلمة (صح) أمام العبارة الصحيحة، وكلمة (خطأ) أمام العبارة غير الصحيحة:

- أ يجب عدم لمس القطع الأثرية أو الوقوف ملاصقًا لها. ()
- ب إنشاء وتطوير القرى السياحية والفنادق يساعد على عدم تنمية السياحة. ()
- ج تعبر العلامة  عن السلوك الذي يجب أن نتبعه أثناء زيارة المواقع الأثرية. ()
- د يعتبر الإنترنت إحدى وسائل الاتصال في العصر التاريخي. ()
- هـ يسهم سكان محافظة الفيوم في حماية محمية وادي الريان. ()

٣ أس أجب عما يأتي:

- أ وضح الاختلاف والتشابه بين احتفالات أهل الصعيد واحتفالات واحة سيوة، موضِّحًا ذلك في جدول.

.....

.....

.....

- ب اذكر اثنتين من قواعد وأداب وسائل النقل.

.....

.....

اختر الإجابة الصحيحة مما بين القوسين:

٤
س

- أ أطلقت اليونسكو يوم ٨ سبتمبر احتفالاً باليوم الدولي لـ.....
(السلام - الطفولة - محو الأمية - الاهتمام بالتراث)
- ب يتولى..... رئاسة الحكومة المصرية.
(الوزير - المحافظ - الرئيس - رئيس مجلس الوزراء)
- ج من أسباب إعاقة التنمية في مصر انتشار.....
(السياحة - التجارة - الرياضة - البطالة)
- د اهتم المصريون القدماء بـ..... لتولي المناصب المرموقة في الدولة.
(التعليم - الغذاء - الرحلات - الصناعة)

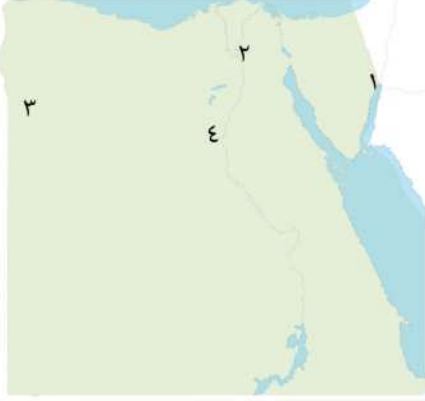
صوب ما تحته خط:

٥
س

- أ يشرف جهاز التعمير على تنفيذ إجراءات التعداد السكاني.
(.....)
- ب يشتهر سكان النوبة بالعزف على السمسمية.
(.....)
- ج يقابل منصب حكام الأقاليم قديماً رئيس الجمهورية في الوقت الحالي.
(.....)
- د تحتفل منظمة الصحة العالمية سنوياً باليوم العالمي لمحو الأمية.
(.....)
- ه ترتبط الأمية بمشكلكتي البطالة والتلوث.
(.....)

النموذج الرابع

١ أمامك خريطة صماء لمصر، اكتب مدلول الأرقام الموقعة عليها:



١ مدينة وتوجد بها قلعة صلاح الدين.

٢ محافظة من محافظات الحضر

٣ واحة

٤ أكثر محافظات مصر انتشارًا للآمية

٢ وضع العلاقة بين:

أ الجهاز المركزي للتعبئة والإحصاء - الساعة السكانية.

ب فن التحطيب - المصريين القدماء.

٣ أجب عما يلي:

أ وضع أهمية التراث الثقافي المصري.

ب وضع جهود الدولة لتطوير وسائل النقل المائي.

٤ اكتب كلمة (صح) أمام العبارات الصحيحة، وكلمة (خطأ) أمام العبارات غير الصحيحة:

أ يحق للمواطنين نشر أي معلومات إحصائية. ()

ب تساعد «حياة كريمة» و«تنظيم الأسرة» في علاج مشكلة الأمية. ()

ج أحد أفراد عائلتك يعاني من آلام المفاصل فإنك تنصحه بزيارة شارع المعز. ()

د من عيوب النقل الجوي كثرة تكاليفه. ()

صل العبارات في المجموعة (أ) بالصور التي تعبر عنها في المجموعة (ب):

المجموعة ب



المجموعة أ

١ سباق يشتهر به أهل سيناء.

٢ توضح تقديرات السكان.

٣ من أمثلة التراث الثقافي.

٤ ساهمت منظمة اليونسكو في

إنقاذه من الغرق.

٥ دخلت مصر في عهد الخديوي

توفيق.

النموذج الخامس

١ أمامك خريطة صماء لمصر، اكتب مدلول الأرقام الموقعة عليها:

س



١ ميناء من موانئ البحر الأحمر

٢ محافظة تشتهر بإنشاد السيرة الهلالية

٣ محافظة يعمل سكانها بالرعي

٤ محافظة توجد بها دار الأوبرا

س

• يحتاج القضاء على الأمية إلى تعاون جميع مؤسسات الدولة والمجتمع المدني، في ضوء هذه العبارة وضح المشكلات الناتجة عن الأمية مبيِّناً جهود الدولة للقضاء عليها.

.....

.....

.....

٣ أعد كتابة الجمل الآتية صحيحة:

س

أ دير سانت كاترين هو مكان ديني يجمع معالم الديانات السماوية بأنواعها.

.....

.....

ب تعتبر مصر أولى الدول العربية في إنشاء خط سكة حديد يربط بين القاهرة والسويس.

.....

.....

ج المونوريل المعلق وسيلة مواصلات طبيعية تربط بين مدينتين.

.....

.....

د تقوم الدولة بتوعية السكان بضرورة الزواج المبكر وتنظيم الأسرة.

.....

اختر الإجابة الصحيحة:

٤
س

أ يجب منع جلوس في المقاعد الأمامية للسيارة.

(الشباب - البنات - الأطفال - كبار السن)

ب يقع المعلم الأثري الموضح في الصورة داخل محافظة



(الأقصر - أسوان - القاهرة - الجيزة)

ج تؤدي السياحة إلى الدخل القومي.

(تدهور - قلة - زيادة - نقصان)

د قام المصريون القدماء بالكتابة على أوراق مصنوعة من

(الكتان - الجلد - البردي - القطن)

أجب عما يأتي:

٥
س

• قارن بين العلامات التحذيرية والعلامات الإرشادية.

النموذج السادس

١ س) أكمل العبارات الآتية بما يناسبها من كلمات:

- أ) الامتناع عن استخدام الهاتف المحمول من قواعد
- ب) أشهر المراكب في مصر القديمة مركب الملك
- ج) من أشهر المعالم السياحية في محافظتي
- د) تتنوع أنماط السكان ما بين ، ،
- هـ) يقوم بتمثيل مصر محلياً ودولياً.

٢ س) أجب عما يلي:

- أ) قامت الدولة بجهود كبيرة لتنظيم حركة المرور. وضح ذلك.
.....
- ب) ماذا يحدث إذا: لم تهتم الدولة بتقديم الخدمات لسكان الريف؟
.....

٣ س) اختر الإجابة الصحيحة مما بين القوسين:

- أ) من أشهر المدن الساحلية على البحر الأحمر
(الإسكندرية - مرسى مطروح - الغردقة - كل ما سبق)
- ب) يقع في جنوب سيناء.
(معبد فيلة - دير سانت كاترين - معبد أبو مينا - معبد إدفو)
- ج) تشتهر سيناء بسباقات
(السيارات - الدراجات - الهجن - الأحصنة)
- د) قام المصريون القدماء بالكتابة على أوراق مصنوعة من
(الكتان - الجلد - البردي - القطن)
- هـ) تعد محافظة من أقل المحافظات سكاناً.
(القاهرة - الإسكندرية - الجيزة - جنوب سيناء)

س ٤ أمامك خريطة صماء لمصر، اكتب مدلول الأرقام الموقعة عليها:

س ٤



١ يشير رقم (١) على الخريطة إلى معبد

٢ يشير رقم (٢) إلى أكثر مدينة سلام في العالم

٣ محافظة تتعدى الكثافة السكانية فيها ٨ ملايين نسمة

هي

٤ تشتهر بالسياحة العلاجية.

س ٥ ما المقصود ب...؟

س ٥

أ الساعة السكانية.

.....
.....

ب العلامات الإرشادية.

.....
.....

النموذج السابع

١
س) اكتب كلمة (صح) أمام العبارات الصحيحة، وكلمة (خطأ) أمام العبارات غير الصحيحة:

- أ) تعد مدينة القاهرة مدينة ثقافية وسياسية مهمة. ()
- ب) تعد مصر ثاني دول العالم استخدامًا للسكك الحديدية. ()
- ج) ترتفع الأمية في محافظة القاهرة. ()
- د) يتكون مجلس النواب من أعضاء ممثلين للشعب. ()

٢
س) أكمل العبارات الآتية بما يناسبها من كلمات:

- أ) أنشأت الدولة متحف للحفاظ على التراث المصري.
- ب) يقع ميناء على ساحل البحر الأحمر، بينما يقع ميناء على ساحل البحر المتوسط.
- ج) دخلت أول سيارة تعمل بـ على يد الخديوي توفيق في مصر.
- د) عدم جلوس الأطفال في المقاعد الأمامية من آداب استخدام
- هـ) قامت الدولة بعمل مبادرة لتطوير الريف المصري.

٣
س) أجب عما يأتي:

- أ) قارن بين محمية وادي الحيتان ومجمع الأديان، من حيث نوع التراث لكل منهما.

- ب) اكتب بعض السلوكيات التي يمكن اتباعها عند زيارتك للمناطق الأثرية.

٤
س) صوب ما تحته خط:

- أ) من أهم إسهامات الأخوان رايت اكتشاف المونوريل المعلق. (.....)
- ب) يجب علينا التوقف في الطريق عندما تكون الإشارة الضوئية الدائرية حمراء. (.....)
- ج) تقوم الدولة بتوعية السكان بعدم تنظيم الأسرة. (.....)
- د) وظيفة الفرعون قديمًا تقابل وظيفة المحافظ حاليًا. (.....)
- هـ) اختارت منظمة اليونسكو مدينة الغردقة كأفضل مدينة سلام. (.....)

أمامك مجموعة من العبارات في المجموعة (أ) صلها بالصور المناسبة لها
في المجموعة (ب):

المجموعة ب



المجموعة أ

١ وسيلة مواصلات حديثة.

٢ سياحة ترفيهية.

٣ محمية وادي الحيتان.

٤ قلعة صلاح الدين عند جزيرة
فرعون.

النموذج الثامن

١ س أكمل العبارات الآتية بما يناسبها من كلمات:

- أ تجري مصر تعدادًا سكانيًا كل سنوات.
- ب تتمتع محمية رأس محمد بالشواطئ المرجانية والأسماك الملونة؛ ولذلك تعد تراثًا
- ج أنشأت منظمة اليونسكو متحف في أسوان عام ١٩٩٧م.
- د يؤدي انتشار الأمية إلى
- هـ من مميزات النقل الجوي أنه ، بينما من عيوب النقل المائي أنه

٢ س اكتب كلمة (صح) أمام العبارات الصحيحة، وكلمة (خطأ) أمام العبارات غير الصحيحة:

- أ تشير الصورة المقابلة لأحد مواقع التراث الثقافي. 
- ب يختار الشعب رئيس الوزراء بالتصويت له في الانتخابات.
- ج الأمية الهجائية هي عدم القدرة على تشغيل الأجهزة الإلكترونية.
- د يساهم سكان محافظة الفيوم في حماية محمية وادي الحيتان.
- هـ من أمثلة التراث الطبيعي قلعة صلاح الدين.

٣ س أ حدد أوجه الاختلاف بين السلطة التنفيذية والسلطة القضائية.

وجه المقارنة	السلطة التنفيذية	السلطة القضائية
الاختلاف

ب حدد أوجه الاختلاف بين وسائل النقل ووسائل الاتصال.

وجه المقارنة	وسائل النقل	وسائل الاتصال
الاختلاف

اختر الإجابة الصحيحة:

٤
س

- أ تقع عيون موسى في
(الفيوم - شرم الشيخ - الوادي الجديد - جنوب سيناء)
- ب قامت منظمة اليونسكو بإنقاذ معبد من الغرق. (الكرنك - أبو سمبل - إدفو - فيلة)
- ج الحفاظ على الأمن في محافظتي من مهام
(المحافظ - رئيس الدولة - رئيس الوزراء - القاضي)
- د يجب على السائقين إيقاف السيارة عند رؤية العلامة المرورية باللون
(الأحمر - الأصفر - الأخضر - البرتقالي)
- ه تعبر العلامة المرورية التي أمامك عن
(عبور المشاة - وقوف المشاة - وقوف السيارة - استعداد المشاة)



ما المقصود بكل مصطلح مما يأتي...؟

٥
س

- أ المحافظ:
- ب الشرق الأوسط:

تؤدي الأمية إلى انتشار الجهل والخرافات بين الناس.

٦
س

- في ضوء هذه العبارة. وضح دور الدولة في مواجهة هذه المشكلة.

النموذج التاسع

١
س) اكتب كلمة (صح) أمام العبارات الصحيحة، وكلمة (خطأ) أمام العبارات غير الصحيحة:

- أ) توجد الأشجار المتحجرة في محمية الغابة المتحجرة. ()
- ب) تم تخصيص يوم عالمي للتوعية بحماية التراث الوطني برعاية منظمة اليونسيف. ()
- ج) يمثل أعضاء مجلس النواب السلطة القضائية. ()
- د) يشتهر سكان الصعيد بالعزف على الآلة التالية:  ()
- هـ) قامت الدولة بتوفير الخدمات الإلكترونية للمواطنين. ()

٢
س) أجب عما يلي:

أ) ما الهدف من إدراج المواقع السياحية والمواقع الأثرية إلى قائمة التراث العالمي لليونسكو؟

.....
.....

ب) وضح أسباب الاحتفال بعيد السياحة في واحة سيوة، مبيئاً مظاهر الاحتفال بذلك العيد.

.....
.....

٣
س) صوب ما تحته خط:

- أ) يرتفع معدل الأمية بين الذكور. (.....)
- ب) يقابل منصب الفرعون قديماً المحافظ حالياً. (.....)
- ج) يرجع تاريخ قلعة صلاح الدين إلى فترة الحكم الروماني في مصر. (.....)
- د) تعد جامعة القاهرة أول جامعة في التاريخ. (.....)

اختر الصورة المناسبة لكل عبارة مما يلي:

ب



ب



ب



ب



ب



أ



أ



أ



أ



أ



١ الساعة السكانية

٢ لا يجب عليك أن تستخدم آلة التنبيه

٣ محمية الغابة المتحجرة

٤ تتميز بوجود السياحة العلاجية

٥ تعبر عن التراث الثقافي

أمامك خريطة صماء لمصر، اكتب مدلول الأرقام الموقعة عليها:



أ توجد محمية الغابة المتحجرة في

ب مكان أثري أنشئ بغرض تأمين خليج العقبة

والبحر الأحمر

ج محافظة ترتفع بها الأمية

د محافظة تقل بها الكثافة السكانية

النموذج العاشر

١ أس اكمل العبارات الآتية بما يناسبها من كلمات:

- أ الجهة المسؤولة عن وضع القوانين هي مجلس.....
- ب من أشهر الرياضات التراثية في سيناء.....
- ج تم بناء الكنيسة المعلقة فوق حصون.....
- د اعتقد المصريون القدماء في.....؛ لذلك بنوا.....
- ه قامت منظمة اليونسكو بإدراج فن..... على قائمة التراث العالمي لليونسكو عام ٢٠١٦ م.

٢ أس اكتب كلمة (صح) أمام العبارات الصحيحة، وكلمة (خطأ) أمام العبارات غير الصحيحة:

- أ يقتصر زيارة السياح إلى مصر على السياحة الترفيهية. ()
- ب تطوير الدولة لطريق الكباش يعد دليلاً على الاهتمام بالمواقع الأثرية. ()
- ج نجح عباس بن فرناس في الطيران بجناحيه. ()
- د أقل محافظات مصر من حيث الأمية محافظة بني سويف. ()
- ه تعد مصر من أقدم الدول التي وضعت نظاماً للحكم. ()

٣ أس وضح العلاقة بين:

- أ المستوى الاقتصادي للأسرة وتسرب الأطفال من المدارس.

- ب عيد حصاد التمور والزيتون - عيد السياحة.

- ج العشوائيات والهجرة من الريف إلى المدن.

٤ صوب ما تحته خط:

س

أ تشتهر المحافظة التي أمامك على الخريطة برقصة البمبوطية. (.....)



ب الأمية المعلوماتية تعني عدم قدرة الفرد على القراءة والكتابة. (.....)

ج يتم انتخاب أعضاء المجلس المحلي كل ست سنوات. (.....)

د استضافت مصر الكثير من المؤتمرات العالمية مثل مؤتمر الطفل الذكي. (.....)

هـ يمثل يوم ٤ مايو من كل عام اليوم العالمي للأمية. (.....)

٥ ما المقصود ب...؟

س

أ السلطة التشريعية.

.....
.....

ب السياحة المستدامة.

.....
.....

ج البعث والخلود.

.....
.....